

# ریاضی




صفحه‌ی چرخنده‌ی روبه‌رو را ۱۰ بار چرخانیم و نتایج زیر به دست آمد.

الف) شکل و نمودار را کامل کنید.



نتایج: زرد- آبی- آبی- زرد- زرد- قرمز- زرد- زرد- زرد- آبی







ب) چند قسمت از شکلی که رنگ کردید، زرد است؟



پ) به نظر شما کدام نمودار نتایج را بهتر نمایش می‌دهد؟

۲) جاهای خالی را کامل کنید.



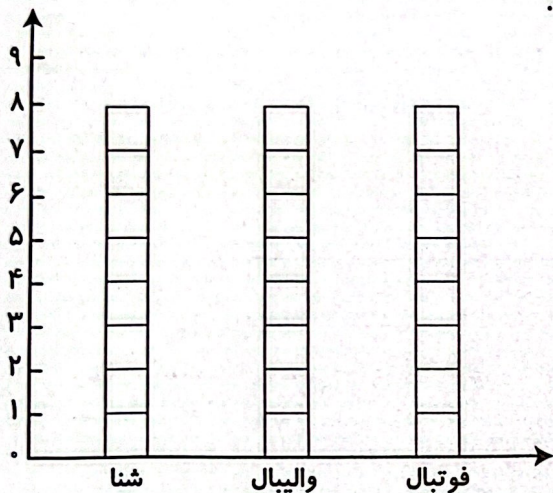


ب) ۱۲۰, ۱۲۵, ۱۳۰, ۱۳۵, .....

جدول زیر مربوط به تعداد شرکت کنندگان در مسابقات ورزشی می باشد.

الف) چند نفر در این مسابقات شرکت کرده اند؟

ب) نمودار ستونی را کامل کنید.



| رشته ورزشی | تعداد |
|------------|-------|
| شنا        | ###   |
| والیبال    | ###   |
| فوتبال     |       |

تعداد شرکت کنندگان: .....

### علوم

درستی  و نادرستی  هر عبارت را مشخص کنید.

الف) گیاهان فقط به وسیله باد جابه جا می شوند.

ب) از دانه‌ی ذرت، روغن تهیه می شود.

پ) بعضی گیاهان با کاشتن دانه و بعضی‌ها با قلمه زدن زیاد می شوند.

ت) میوه، دانه را در خود نگه می دارد.

لانه‌ی زیر مربوط به کدام حیوان است؟ برچسب آن را روی لانه بچسبانید.





.....

.....

.....

.....

جمله‌های زیر را کامل کنید.

- الف) هر سال چهار فصل دارد: .....، .....، ..... و .....
- ب) در تابستان که خورشید ..... می‌تابد، هوا گرم است.
- پ) باد دارای ..... و ..... است.
- ت) زمانی که نور خورشید به محلی به‌طور ..... بتابد، آن محل گرم‌تر می‌شود.
- ث) فصل ..... گرم‌ترین فصل سال است.

**فارسی**

برای هر واژه، سه کلمه بنویسید که با آن مرتبط باشد.

|  |  |  |          |
|--|--|--|----------|
|  |  |  | برگریزان |
|  |  |  | هندوانه  |
|  |  |  | چمدان    |

شعر درختکاری را کامل کنید.

به تابستان که گرما رو نماید  
درختم چتر خود را می‌گشاید

به پایش خسته‌ای بی‌حال و بی‌تاب  
میان روز گرمی، می‌رود خواب





کلمات داده شده را با نشانه‌های (ان، ها و ات) جمع کنید.

۳

تعطیل



Blank box for writing the plural form of تعطیل

مرد



Blank box for writing the plural form of مرد

لباس



Blank box for writing the plural form of لباس

هر کلمه را به مخالف خودش وصل کنید. (دو مورد اضافی است).

۴

سیراب

گرسنه

پایین

آرام آرام

نزدیک

دور

تشنه

دیر

تند تند

بالا

ارتباط کلمات

تکمیل شعر

نوشتن جمع برای کلمات

مخالف کلمات

لانه‌ی پرندگان

رسم نمودار

الگوی عددی و هندسی

نمودار ستونی

حالت‌های مواد

چهار فصل و مشخصات آن‌ها

شاخص‌ها

خیلی خوب

خوب

قابل قبول

نیاز به تلاش بیش‌تر

۴



# ارمغان هفته - دوم دبستان

شماره‌ی

۳۲

نام و نام خانوادگی: ..... تاریخ: ..... نام آموزگار: .....

ریاضی < دوره

علوم < دوره

فارسی < دوره

## ریاضی

۴

۷

۹

با کارت‌های ۴ و ۷ و ۹ عدد‌های سه رقمی بنویسید و دور اعداد زوج خط بکشید.



در یک ورزشگاه برای دیدن یک مسابقه تعداد زیادی تماشاچی آمده بودند. ۳۶۰ نفر طرفدار سفید، ۳۴۰ نفر طرفدار نارنجی و ۲۱۰ نفر بی‌طرف بودند.

الف) چند نفر در ورزشگاه برای دیدن مسابقه آمده بودند؟

ب) چند نفر بی‌طرف نبودند؟ (با رسم شکل)

محمد ساعت ۹:۲۰ دقیقه از خانه به طرف کتابخانه حرکت کرد. اگر او ۳۰ دقیقه در راه باشد ساعت چند به کتابخانه می‌رسد؟

(رسم ساعت)

جاهای خالی را کامل کنید و با استفاده از برجسب اشکال دسته بسازید.

تایی می‌شود

دسته‌ی

(ب)

تایی می‌شود

دسته‌ی

الف)

۱




۱. همیشه به خط نگاه کنید. (دور آن دور است؟) همیشه نور چشمی نور چشمی است.

- ت) است. از آفتاب پیشتر در آفتاب است.
- ب) نور است. همیشه در آفتاب است.
- ج) نور است. همیشه در آفتاب است.
- د) نور است. همیشه در آفتاب است.

تفاوت نور و آفتاب

۲. همیشه به خط نگاه کنید. (دور آن دور است؟) همیشه نور چشمی نور چشمی است.

دوره



|              |     |     |     |       |      |
|--------------|-----|-----|-----|-------|------|
| تعداد تقریبی |     |     |     |       |      |
| تعداد        | ۱۴  | ۷۴  | ۳۳  | ۳۴    | ۷۳   |
| کلاس         | اول | دوم | سوم | چهارم | پنجم |

۳. همیشه به خط نگاه کنید. (دور آن دور است؟) همیشه نور چشمی نور چشمی است.

۴. همیشه به خط نگاه کنید. (دور آن دور است؟) همیشه نور چشمی نور چشمی است.

|  |  |  |  |
|--|--|--|--|
|  |  |  |  |
|--|--|--|--|

۵. همیشه به خط نگاه کنید. (دور آن دور است؟) همیشه نور چشمی نور چشمی است.

۲۰ = ..... ۲۹ = .....

۶. همیشه به خط نگاه کنید. (دور آن دور است؟) همیشه نور چشمی نور چشمی است.

۳ در کدام گزینه، هر دو رفتار باعث افزایش آلودگی هوا می‌شود؟




۲ کاشتن درخت - استفاده از وسایل نقلیه عمومی

۱ کاشتن درخت - استفاده از خودروی شخصی

۴ قطع کردن درختان - استفاده از خودروی شخصی

۳ قطع کردن درختان - استفاده از دوچرخه

۴ هر آسیاب را به نام خود وصل کنید.



آسیاب بادی

آسیاب آبی

آسیاب صنعتی

آسیاب دستی

### فارسی

۱ جمله‌ها را با کلمه‌های مناسب کامل کنید.

الف) به کسی که اهل کرمان است ..... می‌گویند.

ب) جایی که در آنجا کتاب چاپ می‌کنند ..... است.

پ) چیزی که از جنس کتان باشد به آن ..... گویند.

ت) کسی که پژوهش می‌کند ..... گویند.

۲ برای تصویر زیر، سه جمله بنویسید.



جمله (۱)

جمله (۲)

جمله (۳)

مخالف هر یک از کلمات زیر را بنویسید.

روشن  $\neq$  [ ]  $\neq$  گریه  $\neq$  [ ]

[ ]  $\neq$  خواب  $\neq$  [ ]

درباره‌ی تصویر مقابل و حسی که در مورد آن دارید، یک بند بنویسید.



.....

.....

.....

.....

برای هر نشانه یک کلمه بنویسید.

|     |     |                 |     |                |
|-----|-----|-----------------|-----|----------------|
| ح   | ص   | (و) با صدای (ا) | ط   | (ه) با صدای ده |
| ↓   | ↓   | ↓               | ↓   | ↓              |
| [ ] | [ ] | [ ]             | [ ] | [ ]            |

|                         |                   |
|-------------------------|-------------------|
| ساخت اعداد سه رقمی      | انواع آسیاب       |
| مقایسه‌ی اعداد          | شناخت صدا و نشانه |
| گسترده نویسی            | مخالف کلمات       |
| چشمه‌های نور طبیعی      | تصویر خوانی       |
| عوامل افزایش آلودگی هوا | ساخت کلمه         |

**شاخص‌ها**

- خیلی خوب
- خوب
- قابل قبول
- نیاز به تلاش بیشتر