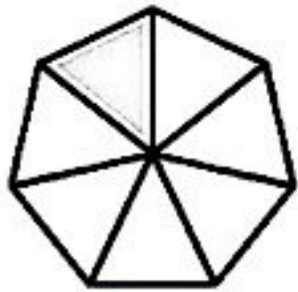




۱- عزیزم به شکل‌ها نگاه کن و بنویس در هر قسمت چه بخشی از شکل رنگ شده است.




۱... قسمت از ۸... مساوی



۵... قسمت از ۱۰... مساوی

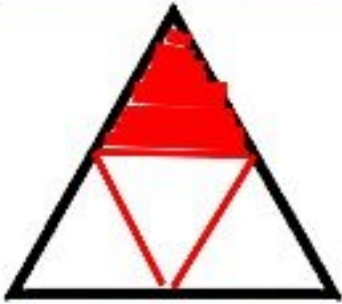


۹... قسمت از ۱۰... مساوی



۴... قسمت از ۸... مساوی

۲- ستاره دانا. ۱ قسمت از ۴ قسمت مساوی مثلثی رنگ شده است. با رسم شکل نشان دهید.



۳- در یک کیسه ۸ مهره زرد، ۵ مهره قرمز و ۲ مهره آبی ریخته ایم. اگر بدون نگاه کردن به داخل کیسه بخواهیم

یک مهره بیرون بیاوریم. شانس بیرون آمدن کدام رنگ بیشتر است؟ چرا؟

مهره‌ی زرد چون تعداد این

بیشتر است.



جاهای خالی را کامل کنید.

\* ..... ۲ مهره از ۱۵ مهره داخل کیسه آبی است.

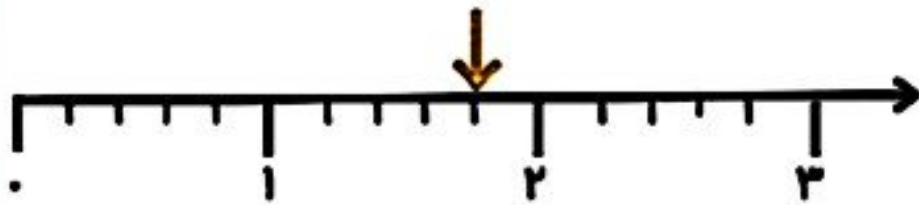
\* ..... ۸ مهره از ۱۵ مهره داخل کیسه زرد است.

\* ..... ۵ مهره از ۱۵ مهره داخل کیسه قرمز است.

۴- با توجه به محور مشخص کنید فلش چه نقطه ای را نشان می دهد ؟

در این محور هر واحد به ..... 5 ..... قسمت کوچک تقسیم شده است .

نقطه مشخص شده ..... 1 ..... واحد و ..... 4 ..... قسمت از ..... 5 ..... قسمت کوچک مساوی را نشان می دهد .

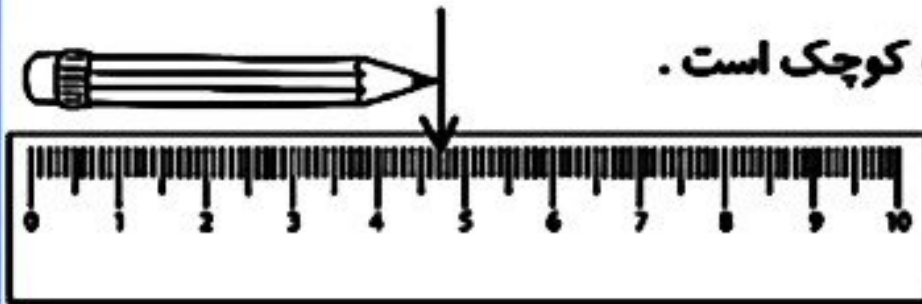


۵- عزیزم جاهای خالی را با توجه به شکل کامل کن .

اندازه ی طول مداد بین ..... 4 ..... و ..... 5 ..... سانتی متر است .

اندازه ی طول مداد ..... 4 ..... سانتی متر و ..... 7 ..... میلی متر است .

اندازه ی طول مداد ..... 4 ..... سانتی متر و ..... 7 ..... قسمت از 10 قسمت کوچک است .



۶ - قد امین ۱۵۳ سانتی متر است . خواهرش ۱۳ سانتی متر از او بلندتر است . قد این دو نفر روی هم چند سانتی متر است ؟  
قد این دو روی هم 319 است

قد خواهر امین  $153 + 13 = 166$

$$\begin{array}{r} 153 \\ + 166 \\ \hline 319 \end{array}$$

۷ - عزیز دلم با کارت های ( ۹ و ۷ و ۲ ) هر چه می توانید عدد دو رقمی بنویس ؟

27      79      92  
29      72      97

بیشترین عددی که نوشتی چیست ؟ ..... **97** .....