



نام و نام خانوادگی

تاریخ

موضوع:

هدف:

صحیح یا غلط بودن جمله ها را مشخص کنید.

- الف) عدد ۷ عدد فردی است.  ص  غ
- ب) یک متر ۱۰۰ سانتی متر است.  ص  غ
- ج) تقریب عدد ۳۹ عدد ۳۰ است.  ص  غ
- د) گسترده ی عدد ۷۰۲ به این صورت است :  $۷۰۰+۲۰+۲$   ص  غ

جمله ها را با کلمه ی مناسب کامل کنید.

- الف) تعداد گوشه های یک ۵۰ ضلعی ..... گوشه است.
- ب) در ساعت ۱۵ دقیقه را به صورت ..... هم می خوانیم.
- ج) مربع ..... ضلع ..... گوشه دارد.

در هر قسمت گزینه ی صحیح را انتخاب کن.

تقریب عدد ۳۴۸ با حذف رقم یکان کدام گزینه است؟

- الف) ۳۰۸  ب) ۳۰۰  ج) ۳۴۰  د) ۳۴۸


- ۲ سانتی متر و ۸ میلی متر می شود :

- الف) ۸۲ میلی متر  ب) ۲۸ میلی متر  ج) ۸۲ سانتی متر  د) ۲۸ سانتی متر

- عقربه ی کوچک ساعت بین ۶ و ۷ است و عقربه ی بزرگ روی ساعت ۱۰ است . ساعت چه وقتی را نشان می دهد؟

- الف) ۶:۳۰  ب) ۵:۳۰  ج) ۱۰ دقیقه مانده به ۶  د) ۱۰ دقیقه مانده به ۷

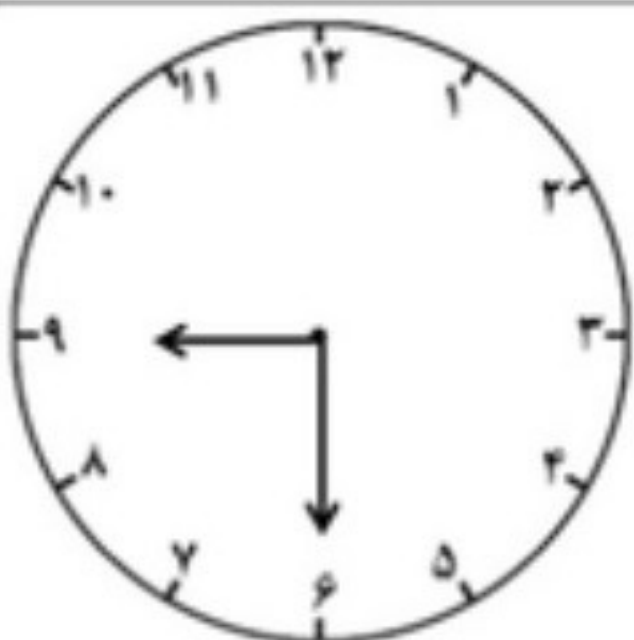
با رقم یا حروف بنویس.



..... با رقم

..... با حروف

ساعت را به دو صورت بنویس.



..... ساعت





نام و نام خانوادگی

تاریخ

موضوع:

هدف:

<p>عددهای زیر را با هم مقایسه کنید و علامت لازم را بگذارید.</p> <p> <math>329 \square 318</math>                 <math>209 \square 290</math>                 <math>300 + 2 \square 302</math>                 <math>718 \square 728</math> </p>	<p>۶</p>
<p>تفاوت و شباهت این دو شکل را بنویس.</p> <p>شبهات:</p> <p>تفاوت:</p> 	<p>۷</p>
<p>الگوی عددی را ادامه بده.</p> <p>۱-۴-۹-۱۶- - - -</p>	<p>۸</p>
<p>با توجه به شکل کامل کن.</p>  <p>..... دسته ی ..... تایی</p> <p>..... دسته ی ..... تایی</p>	<p>۹</p>
<p>جمع و تفریق را از راه طولانی (گسترده نویسی انجام بده). برای یکی از آنها شکل بکش.</p> <p> <math display="block">\begin{array}{r} 3 \ 6 \ 4 \\ + 1 \ 2 \ 3 \\ \hline \end{array}</math> </p> <p> <math display="block">\begin{array}{r} 8 \ 4 \ 9 \\ - 2 \ 3 \ 6 \\ \hline \end{array}</math> </p>	<p>۱۰</p>
<p>حاصل جمع و تفریق را از راه تکنیکی به دست آورید.</p> <p> <math display="block">\begin{array}{r} 4 \ 9 \ 6 \\ + 1 \ 8 \ 5 \\ \hline \end{array}</math> </p> <p> <math display="block">\begin{array}{r} 8 \ 0 \ 0 \\ - 1 \ 2 \ 6 \\ \hline \end{array}</math> </p>	<p>۱۱</p>
<p>قد مهران ۱۶۲ سانتی متر است خواهرش ۱۲ سانتی متر از او کوتاه تر است . قد خواهرش چند سانتی متر است؟</p>	<p>۱۲</p>