



نام و نام خانوادگی

تاریخ

موضوع:

هدف:

ردیف	شرح سوالات	نمره
------	------------	------

با استفاده از شابلون " یا به صورت دستی و با خط کش " شکل های خواسته شده را رسم کنید.

نام شکل	مستطیل	مربع	لوزی	شش ضلعی	مثلث	دایره
محل رسم شکل						
تعداد ضلع
تعداد گوشه

گوشه ها را در هر یک شکل ها سبز رنگ کنید. / ضلع ها را در هر کدام از شکل های بالا قرمز رنگ کنید.
در شکل های هندسی تعداد ضلع ها با تعداد گوشه های داخل شکل است.

هر ساعت چه زمانی را نشان می دهد؟ به دو صورت بنویسید.



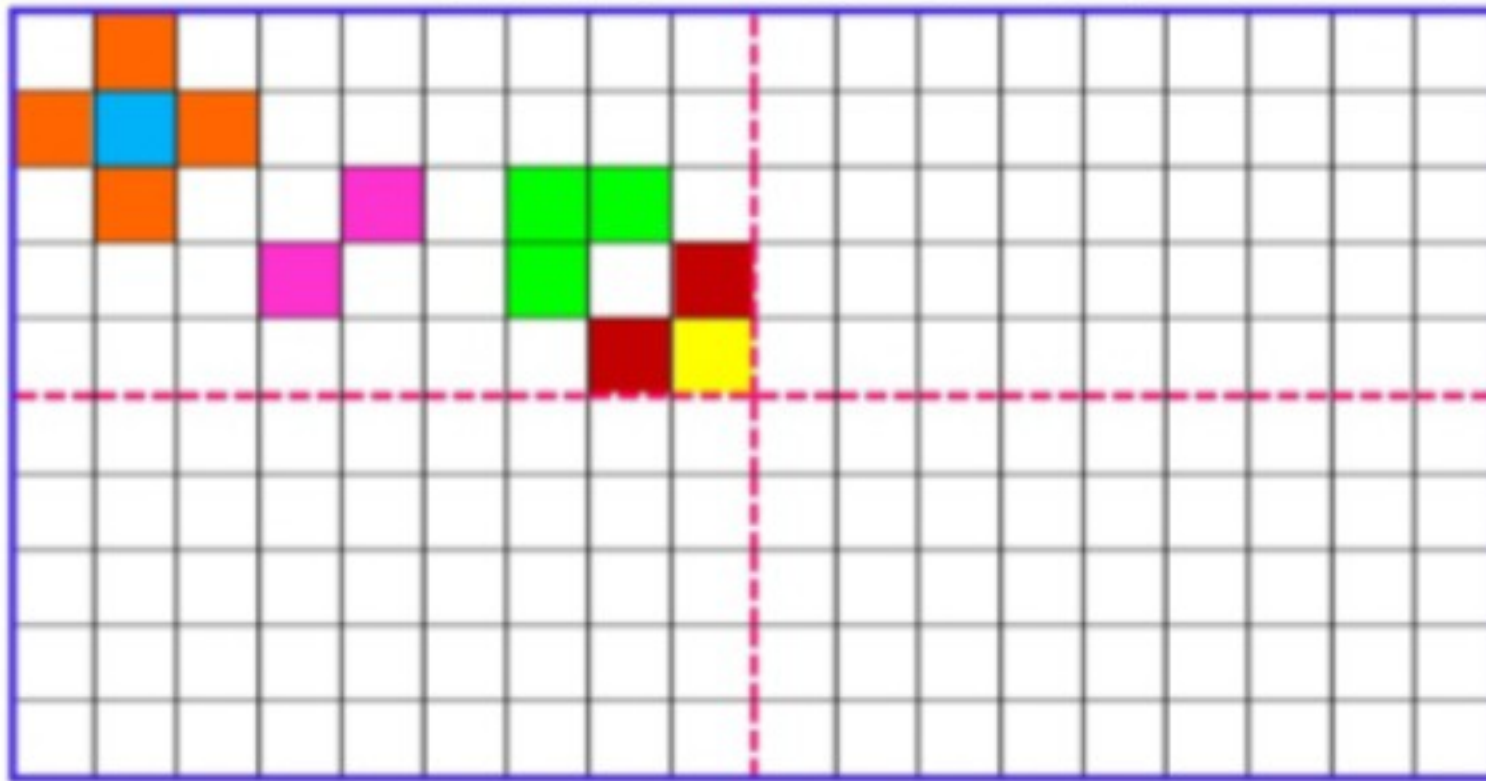
.....
.....

.....
.....


.....
.....

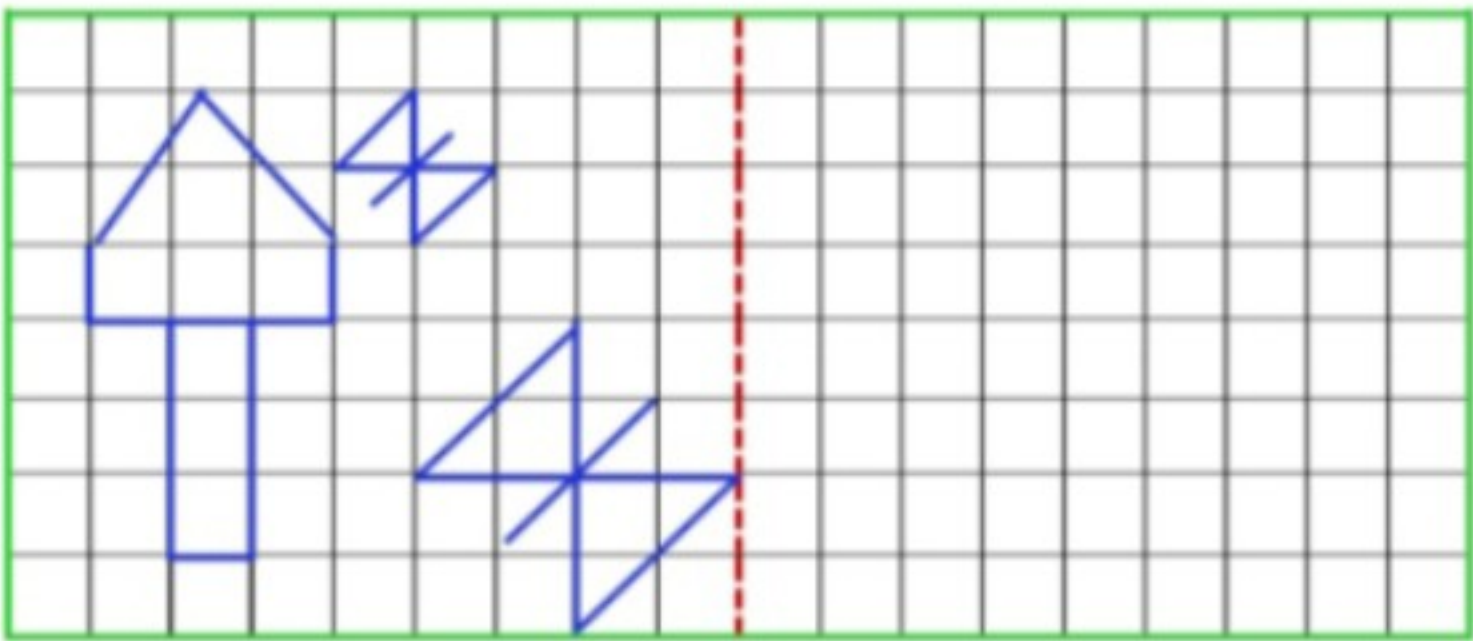
.....
.....

با توجه به خط های تقارن کاشی کاری ها طوری تکمیل کنید که مثل هم و قرینه باشند.



شکل های داده شده را به قسمت های مساوی تقسیم کنید.



ردیف	شرح سوالات	بارم
۵	<p>نقطه ها را با خط کش به هم وصل کرده و شکلی را که خواسته شده بکشید.</p> <p>" ۴ ضلع و ۴ گوشه دارد. "</p> <p>((دوتا از ضلع هایش مساوی است.))</p>	
۶	<p>باتوجه به خط تقارن نیمه ی دیگر شکل ها را کامل کنید.</p> 	
۷	<p>شبهت و تفاوت شکل های داده شده را بنویسید.</p> <p>شبهت :</p> <p>تفاوت :</p>	

جدول اهداف و انتظارات عملکرد

۱	قادر به شمردن صحیح اضلاع و گوشه ها است.	۶	اشکال هندسی رایج را به قسمت های مساوی تقسیم کرده است.
۲	از توانایی نقطه پایی و شکل سازی برخوردار است.	۷	تفاوت و شبهت اشکال هندسی را درک کرده و درست نوشته است.
۳	در استفاده از ابزار برای رسم اشکال هندسی مهارت دارد.	۸	از مهارت ترسیم اشکال هندسی بر اساس ویژگی ها برخوردار است.
۴	می تواند ساعت ها را به دو صورت صحیح بخواند و بنویسد.	۹	در ترسیم اشکال باتقارن دوتاییه ای در صفحه شطرنجی مهارت دارد.
۵	تقارن چهارمحوری با درک روابط درست ترسیم نموده است.	۱۰	توانایی و مهارت قرینه پایی و مدل سازی بر اساس خط تقارن را دارد.

