




موضوع:

تاریخ:


نام و نام خانوادگی:

هدف:


طبق عدد زیر آنها به قسمت های مساوی تقسیم کنید.




۳



۶




۲



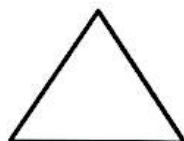

عقربه بزرگ چند دقیقه حرکت کند تا ساعت ۵ شود؟

در یک مزرعه روی هم ۴ تا شتر مرغ و گوسفند هستند. آن ها روی هم ۱۴ پا دارند. در این مزرعه چند تا شتر مرغ و چند تا گوسفند است؟

این سکه ی ۵۰۰ ریالی برابر است با کدام سکه ها؟ در علامت بزنید.



یک تفاوت و یک شباهت برای دو شکل بنویسید.



تفاوت:

شباهت:



موضوع:

تاریخ:

نام و نام خانوادگی:

هدف:

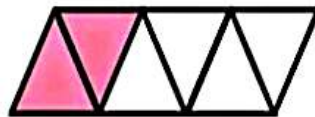
جمع های زیر را پاسخ بده .

$$۸+۲۰+۳۰۰+۲۰۰+۹+۱۰۰ =$$

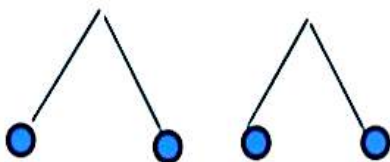
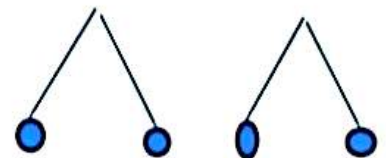


الف) ساعت و دقیقه است .
ب) بیست دقیقه بعد ساعت چند است؟
پ) یک ربع قبل ساعت چند است؟

عبارت کسر مربوط به هر تصویر را بنویس .



با توجه به شکل کامل کن .



دسته ی _____ نامی _____

دسته ی _____ نامی _____