



نام و نام خانوادگی

تاریخ

موضوع:

هدف:

ریاضی



۲. تفاوت و شباهت شکل های زیر را بنویسید.

تفاوت:

شباهت:

۶. حسین ۱۳۴ شکلات دارد. اگر شکلات های نیمی ۱۲۷ تا بیشتر از شکلات های حسین باشد؛

(الف) نیمی چند شکلات دارد؟ (فرآیندی)

(ب) اگر آنها روی هم ۱۵۲ شکلات را پخش کنند، چند شکلات برایشان باقی می ماند؟ (فرآیندی)

فارسی



۱. کلمه ها را با نوشتن نشانه ها کامل کن.

۲. با توجه به اینکه آخر هر کلمه "ا" یا "ن" می گیرد در جای مناسب بنویس.

جنگید	بعد	اول	اتفاق	داشت	حتم	فعل	خواند	کامل	
							✘	کاملاً	ا
							خواندن	✘	ن

۳. جمله های زیر را پرسشی کن و در انتهای آن علامت سوال بگذار. (با چرا و آیا)

..... مریم کتاب می خواند .

..... زمین به دور خورشید می چرخد .

بازخورد:

Handwriting practice area with four horizontal lines inside a dashed border.





موضوع:

تاریخ


نام و نام خانوادگی

هدف:


علوم

۱. در جدول زیر برای هر کدام ۲ مورد مثال بنویسید.


صدای خوشایند




صدای آزاردهنده




صدای کلفت



صدای نازک



۲. جملات زیر را ادامه بده.



صدای آژیر آتش نشانی این پیام را می دهد که.....



صدای آژیر آمبولانس این پیام را می دهد که.....

بازخورد:

Handwriting practice area with a dashed border and several horizontal lines.

