





ردیف	شرح سوالات	نمره								
۱	با خط کش عددهای مثل هم به یکدیگر وصل کنید. 9 3 8 1 4 5 2 6 7 8 7 2 4 5 6 9 1 3									
۲	مانند نمونه به عدد یا حروف بنویسید. <table border="1" style="width: 100%; text-align: center;"> <tr> <td>۴۸</td> <td>۵۱</td> <td>۳۱</td> <td>۶۳</td> </tr> <tr> <td>دوازده</td> <td>هشتاد و دو</td> <td>پنجاه و چهار</td> <td>نود و هفت</td> </tr> </table>	۴۸	۵۱	۳۱	۶۳	دوازده	هشتاد و دو	پنجاه و چهار	نود و هفت	
۴۸	۵۱	۳۱	۶۳							
دوازده	هشتاد و دو	پنجاه و چهار	نود و هفت							
۳	با رقم های ۶ و ۸ چهار عدد دو رقمی بنویسید. (.....)، (.....)، (.....)، (.....)									
۴	جاهای خالی را به طور مناسب پر کنید.  ساعت به مانده است. ساعت از گذشته است. ساعت به مانده است.									
۵	جدول ارزش مکانی را کامل کنید. <table border="1" style="display: inline-table; margin-right: 20px;"> <tr> <td>دهگان</td> <td>یکان</td> </tr> <tr> <td> </td> <td> </td> </tr> </table> عدد ۳۹ <table border="1" style="display: inline-table;"> <tr> <td>دهگان</td> <td>یکان</td> </tr> <tr> <td> </td> <td> </td> </tr> </table> عدد ۲۹	دهگان	یکان			دهگان	یکان			
دهگان	یکان									
دهگان	یکان									
۶	عدد های دو رقمی خواسته شده را به عدد و حروف بنویسید. که رقم یکان ۵ و رقم دهگان ۸ : - که رقم یکان ۷ و رقم دهگان ۳ : -									
۷	امروز روز هفتم ماه هست ۹ روز دیگر روز چندم ماه می شود؟ روز ماه است. 									
۸	الگوهای شمارش به عقب را ادامه بدهید. ۳۶ ۴۵ 									
۹	حاصل جمع را با خط نشان و حاصل تفریق را با محور پیدا کنید. $6 + 8 = \dots$ $15 - 9 = \dots$ 									





نام و نام خانوادگی

تاریخ

موضوع:

هدف:

ردیف	شرح سوالات	بارم				
۱۰	الگوهای عددی زیر را ادامه دهید. $۲۵ - ۳۰ - \dots - \dots - \dots - \dots$ $۳۴ - ۳۷ - \dots - \dots - \dots - \dots$ $۴۱ - ۴۸ - \dots - \dots - \dots - \dots$ $۰ - ۸ - ۱۶ - \dots - \dots - \dots - \dots$					
۱۱	حاصل جمع های زیر را به دست آورید. $۲۰ + ۵ + ۵ + ۶۰ = \dots$ $۹ + ۹ + ۹ = \dots$ $۳۰ + ۱۰ + ۵ + ۴۰ = \dots$ $۱۰ + ۱۰ + ۲۰ + ۳۰ = \dots$ $۷ + ۷ + ۷ = \dots$ $۵۰ + ۱۰ + ۵ + ۳۰ = \dots$					
۱۲	حاصل جمع و تفریق های زیر را به صورت ذهنی محاسبه کنید. $۷ + ۸ = \dots$ $۷ + ۹ = \dots$ $۱۷ - ۹ = \dots$ $۱۲ - ۸ = \dots$					
۱۳	ابتدا تعداد هر کدام را بشمارید و بنویسید و سپس بین دو عدد علامت $< = >$ بگذارید.  					
۱۴	جاهای خالی را با ترکیب مناسب اعداد پر کنید. $\dots + \dots + \dots = ۱۰$ $\dots + \dots + \dots = ۱۰$ $\dots + \dots + \dots = ۱۰$					
۱۵	سارینا ۵ دسته ی ۱۰ تایی گل را در گلدانی گذاشته است. مادرش هم ۹ گل در همان گلدان گذاشت. حالا چند گل در گلدان است؟ جدول را کامل کرده و پاسخ را به دست آورید. <table border="1" data-bbox="273 2033 567 2211"> <tr> <td>یکان</td> <td>دهگان</td> </tr> <tr> <td></td> <td></td> </tr> </table>	یکان	دهگان			
یکان	دهگان					
۱۶	۹ پرنده روی شاخه ی درختی نشسته بودند ۴ پرنده دیگر هم پیش آن ها آمدند و سپس ۶ تا از آن ها پرواز کردند و رفتند. حالا چند پرنده روی شاخه ی درخت هستند؟					



برای شکل داده یک تفریق بنویسید.



..... - =

۱

محل تقریبی اعداد ۳۷، ۸۲، ۲۹، ۵۴ را روی محور زیر نشان دهید.



۲

حاصل جمع و تفریق ها را به صورت تقریبی به دست آورید.

$46 \rightarrow \dots$ $28 \rightarrow \dots$ $63 \rightarrow \dots$ $91 \rightarrow \dots$
 $+ 18 \rightarrow \dots$ $- 15 \rightarrow \dots$ $+ 28 \rightarrow \dots$ $- 34 \rightarrow \dots$

۳

جمع و تفریق های زیر را به صورت فرآیندی انجام دهید.

$$\begin{array}{r} 26 \\ + 52 \\ \hline \end{array}$$

$$\begin{array}{r} 28 \\ - 15 \\ \hline \end{array}$$

$$\begin{array}{r} 65 \\ + 28 \\ \hline \end{array}$$

$$\begin{array}{r} 91 \\ - 34 \\ \hline \end{array}$$

$$\begin{array}{r} + \dots \\ \hline \end{array}$$

$$\begin{array}{r} - \dots \\ \hline \end{array}$$

$$\begin{array}{r} + \dots \\ \hline \end{array}$$

$$\begin{array}{r} - \dots \\ \hline \end{array}$$

۴

همه ی اعداد دو رقمی که یکان آن ها ۹ و ۷ و دهگان آن ها ۳ و ۶ باشد را با دو روش خوشه ای و جدولی بنویسید.

دهگان	یکان
۶	
۳	

دهگان یکان
 $6 \rightarrow \dots$
 $6 \rightarrow \dots$
 $6 \rightarrow \dots$
 $6 \rightarrow \dots$
 $3 \rightarrow \dots$
 $3 \rightarrow \dots$

۵


جدول های داده شده را تکمیل کنید.

-	۹	۸	۷	۶
۳۵				
۸۶				
۲۴				

+	۹	۸	۷	۶
۵۵				
۲۶				
۶۷				

۶






موضوع:

تاریخ:

نام و نام خانوادگی:

هدف:

<p>پاسخ جمع و تفریق زیر را با استفاده از شکل مناسب به دست آورید.</p> <p>$8 + 9 = \dots\dots$</p> <p>$13 - 8 = \dots\dots$</p>	<p>۷</p>
<p>جمع و تفریق های داده شده را روی محور نشان دهید.</p> <p>$16 - 7 = \dots\dots$</p> <p>$5 + 9 = \dots\dots$</p>	<p>۸</p>
<p>جمع و تفریق های داده شده را به صورت ذهنی انجام دهید.</p> <p>$4 \text{ ده تایی} + 5 \text{ ده تایی} = \dots\dots\dots$</p> <p>$2 \text{ ده تایی} + 6 \text{ ده تایی} = \dots\dots\dots$</p> <p>$70 - 30 = \dots\dots$ $60 + 20 = \dots\dots$ $90 - 60 = \dots\dots$ $30 + 40 = \dots\dots$</p>	<p>۹</p>
<p>پاسخ تفریق مقابل را با استفاده از محور داده شده به دست آورید.</p> <p>$80 - 30 = \dots\dots$</p>	<p>۱۰</p>
<p>اگر عقربه ی بزرگ ساعت حرکت کند جاهای خالی را پر کنید.</p> 	<p>۱۱</p>
<p>۳۰ "۳۴" ۴۰</p>	<p>۱۲</p>
<p>سارینا ۲۷ عدد از شکلات های خود را به برادرش که ۴۹ شکلات داشت داد. بعد برادرش یک بسته ی ۱۸ تایی شکلات درست کرده و به مادرش هدیه داد. چند شکلات برای برادرش می ماند؟</p>	<p>۱۳</p>

