

با هر دو کلمه یک جمله بساز.

تعطیل ، فصل :.....  
نوروز ، طبیعت : .....

کلمات هم معنی را پیدا کن و در کنار هم بنویس.

عظیم

پدید آورد

نشاط

آغاز

نو

تلاش

جدید

شادی

بزرگ

سعی

آفرید

شروع

..... و .....  
..... و .....

مرتب کن.

فردوسی ، کشید ، زحمت ، تا ، شاهنامه ، سی سال ، کتاب ، نوشت ، را

سرسبزی ، آغاز ، نوروز ، فصل ، و ، زیبایی های ، است ، طبیعت.

مخالف کلمات زیر را بنویس.

نادان # ..... گرم # ..... دیر # ..... بانظم # .....

<p>در جای خالی کلمه ی مناسب بنویس.</p> <p>به محل آزمایش کردن ..... می گویند.</p> <p>به جایی که در آن وضو می گیرند ..... می گویند.</p> <p>..... یعنی کسی که مرتب نیست.</p> <p>به کسی که به دیگران ظلم و ستم می کند ..... می گویند.</p> <p>به چیزی که از چوب ساخته شده باشد ..... می گویند.</p>	<p>۵</p>
<p>کلمات زیر را با ( ان ) جمع ببندید.</p> <p>ستاره + ان ( )    مرده + ان ( )    درگذشته + ان ( )</p>	<p>۶</p>
<p>جملات را با کلمات داخل کمانک تغییر بده.</p> <p>ما به مسافرت می رویم.(فردا) .....</p> <p>پروانه روی گل می نشیند.(چند دقیقه قبل).....</p>	<p>۷</p>
<p>با کلمات گرسنه ، سیر ، به اندازه ، متنی پند آموز برای دوستانت بنویس.</p> <p>.....</p>	<p>۸</p>
<p>جمله را پرسشی کن و علامت مناسب بگذار.</p> <p>خرس کوچولو بیمار شد. ....</p>	<p>۹</p>
 <p>برای تصویر یک متن ویا داستان کوتاه بنویس.</p> <p>.....</p> <p>.....</p> <p>.....</p> <p>.....</p> <p>.....</p> <p>.....</p>	<p>۱۰</p>

من چه عددی هستم که یکانم بزرگ ترین عدد یک رقمی و دهگانم کوچک ترین عدد یک رقمی و صدگانم ۳ تا از یکانم کمتر است.

من را به حروف و رقم بنویس.

ص	د	ی

رقم : ..... حروف: .....

با کارت های ۹ ۳ ۶ عددهای سه رقمی بساز که رقم یکانش بیشتر از رقم دهگانش و رقم دهگانش کمتر از رقم صدگانش باشد.

.....

الگوها را ادامه بده.

۱۱۴ - ۱۲۴ - ۱۳۴ - ..... - ..... - ..... - ..... - ..... - .....

۴۸۰ - ۴۸۵ - ۴۹۰ - ..... - ..... - ..... - ..... - ..... - .....

۱ - ۲ - ۵ - ۱۰ - ..... - .....

ساعت قبل و بعد را نشان بده.



یک ربع قبل



نیم ساعت بعد




..... : .....

..... : .....

..... : .....

تفاوت و شباهت شکل های زیر را بنویس.



تفاوت: .....

.....

شباهت: .....

علامت مناسب <=> بگذار.

۱۰ سانتی متر  ۹۶ میلی متر  سی دقیقه  یک ربع 

$۷۵ + ۵۰ + ۵۰ + ۱۰۰ + ۱۰۰ + ۵۲۰$    $۵۰۰ + ۲۰ + ۱۰۰ + ۲۰۰ + ۵۰ + ۵$

۶

جمع و تفریق های زیر را به روش خواسته شده حل کن.

فرایندی	انتقالی	تقریبی
$\begin{array}{r} ۲۳۸ \\ + ۴۵۶ \\ \hline \end{array}$ $\begin{array}{r} ۶۷۳ \\ - ۳۵۴ \\ \hline \end{array}$	$\begin{array}{r} ۶۸۳ \\ + ۱۶۸ \\ \hline \end{array}$ $\begin{array}{r} ۶۰۳ \\ - ۴۳۴ \\ \hline \end{array}$	$۸۳ \rightarrow \dots$ $۴۶ \rightarrow \dots$ $-۳۷ \rightarrow \dots$ $+۱۲ \rightarrow \dots$

۷

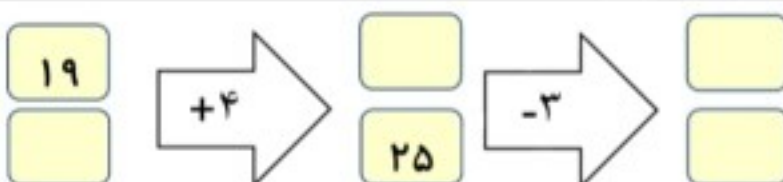
به اعداد زیر دقت کن و اعداد فرد و زوج را در جدول در جای مناسب قرار بده.

$۲۲۳ - ۵۰ - ۲۹ - ۷۲ - ۵ - ۴۸ - ۳۶ - ۴ - ۳۰۵ - ۲۷ - ۱$

زوج	<input type="text"/>	فرد	<input type="text"/>
-----	----------------------	-----	----------------------


۸

کامل کن.



۹

باتوجه به شکل جملات را کامل کن.



..... تا ..... تاایی می شود .....

..... تا ..... تاایی می شود .....

..... قسمت از ..... قسمت صفحه رنگ نشده است.

۱۰

مسئله

کتاب داستان من ۲۹۶ صفحه دارد.. اگر من شنبه ۹۸ صفحه و امروز ۷۶ صفحه از کتابم را بخوانم.

چند صفحه ی دیگر مانده است که نخوانده ام؟

۱۱