

مرور فصل ششم



۱. جمع و تفریق های زیر را به صورت **فرآیندی** بنویسید.

$$\begin{array}{r} ۴۹۵ \\ - ۲۸۰ \\ \hline \end{array}$$

$$\begin{array}{r} ۴۵۷ \\ + ۱۳۲ \\ \hline \end{array}$$

$$\begin{array}{r} ۸۹۶ \\ - ۴۳۱ \\ \hline \end{array}$$

$$\begin{array}{r} ۳۶۰ \\ + ۲۱۴ \\ \hline \end{array}$$

۱. جمع و تفریق های زیر را به صورت **فرآیندی** بنویسید.

$$\begin{array}{r} ۴۹۵ \\ - ۲۸۰ \\ \hline ۲۹۵ \\ - ۸۰ \\ \hline ۲۱۵ \end{array}$$

$$\begin{array}{r} ۴۵۷ \\ + ۱۳۲ \\ \hline ۵۵۷ \\ + ۳۲ \\ \hline ۵۸۷ \\ + ۲ \\ \hline ۵۸۹ \end{array}$$

$$\begin{array}{r} ۸۹۶ \\ - ۴۳۱ \\ \hline ۴۹۶ \\ - ۳۱ \\ \hline ۴۶۶ \\ - ۱ \\ \hline ۴۶۵ \end{array}$$

$$\begin{array}{r} ۳۶۰ \\ + ۲۱۴ \\ \hline ۵۶۰ \\ + ۱۴ \\ \hline ۵۷۰ \\ + ۴ \\ \hline ۵۷۴ \end{array}$$

۲. جمع و تفریق های زیر را به صورت **تکنیکی** بنویسید.

$$\begin{array}{r} ۸۰۰ \\ - ۳۴۷ \\ \hline \end{array}$$

$$\begin{array}{r} ۴۶۹ \\ + ۲۸۵ \\ \hline \end{array}$$

$$\begin{array}{r} ۵۰۱ \\ - ۳۸۷ \\ \hline \end{array}$$

$$\begin{array}{r} ۲۱۴ \\ + ۵۷۶ \\ \hline \end{array}$$

۲. جمع و تفریق های زیر را به صورت **تکنیکی** بنویسید.

$$\begin{array}{r} 9 \\ 71 \cancel{0} 1 \cancel{0} \\ - 347 \\ \hline 364 \end{array}$$

$$\begin{array}{r} \textcircled{1} \textcircled{1} \\ 469 \\ + 285 \\ \hline 754 \end{array}$$

$$\begin{array}{r} 9 \\ 41 \cancel{0} 11 \\ - 387 \\ \hline 24 \end{array}$$

$$\begin{array}{r} \textcircled{1} \\ 214 \\ + 576 \\ \hline 790 \end{array}$$

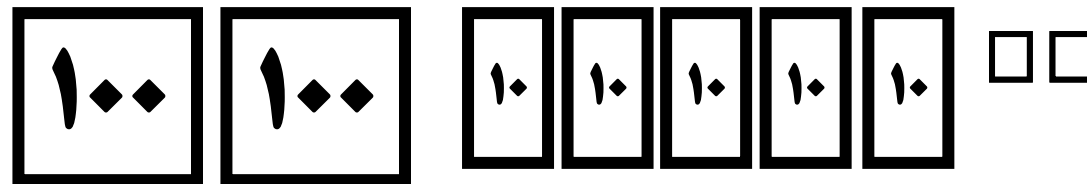

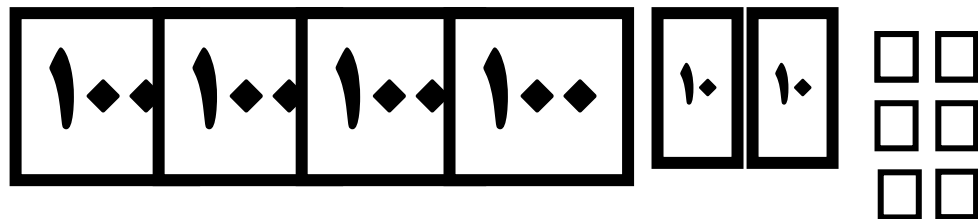
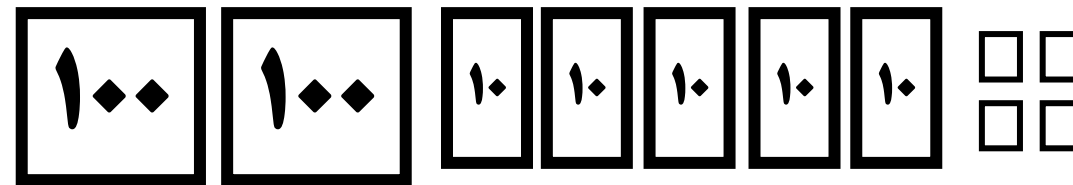

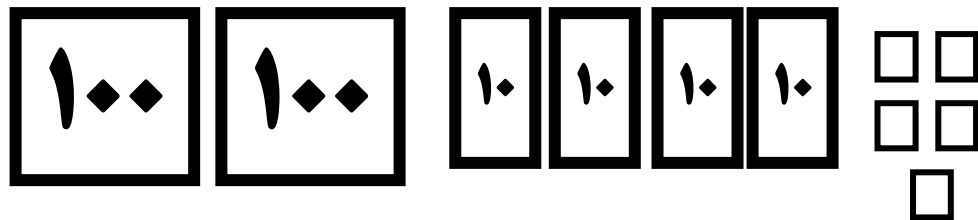
۳. پاسخ ها را در دو طرف با هم مقایسه کن و علامت <=> بگذار.

$$500 + 300 + 100 \quad \square \quad 800 + 100$$

$$300 + 400 \quad \square \quad 400 + 400$$

$$400 + 200 \quad \square \quad 800 - 300$$

$$700 + 100 \quad \square \quad 900 - 100$$



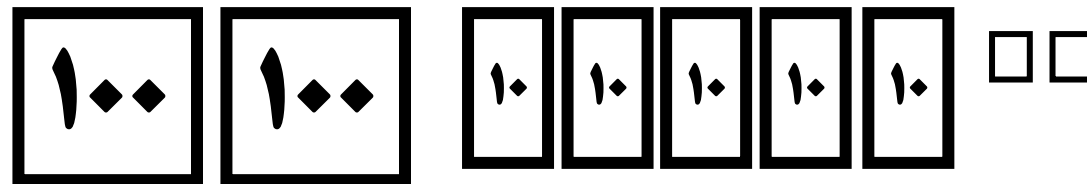

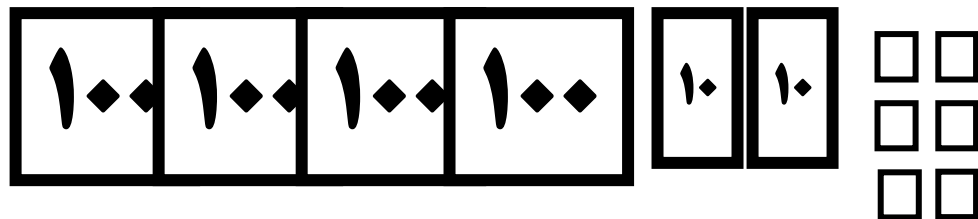
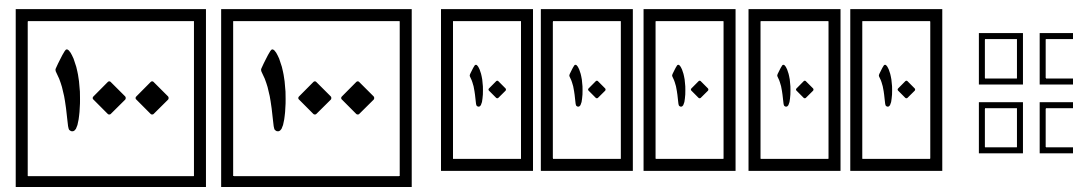

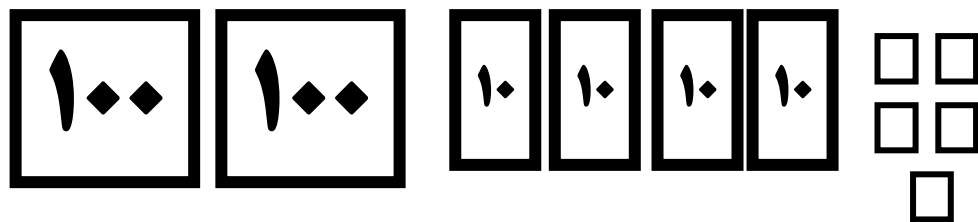
۳. پاسخ ها را در دو طرف با هم مقایسه کن و علامت $<=>$ بگذار.

$$500 + 300 + 100 \quad \boxed{=} \quad 800 + 100$$

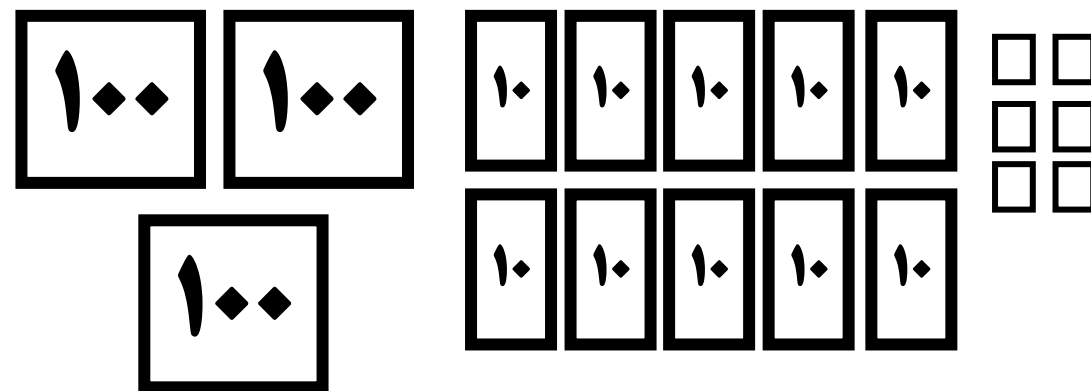
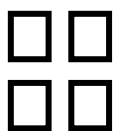
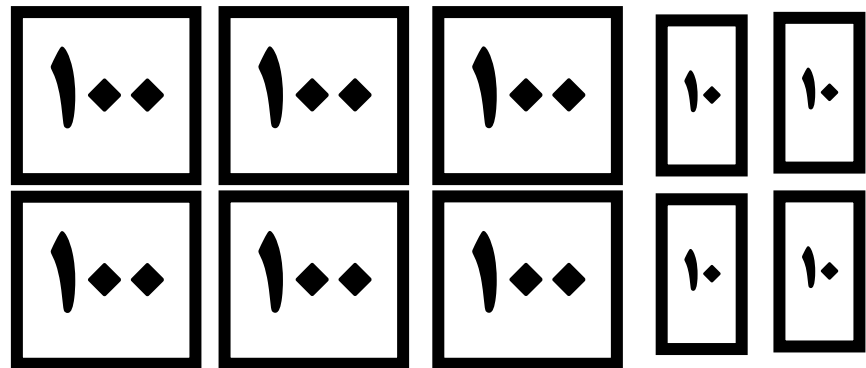
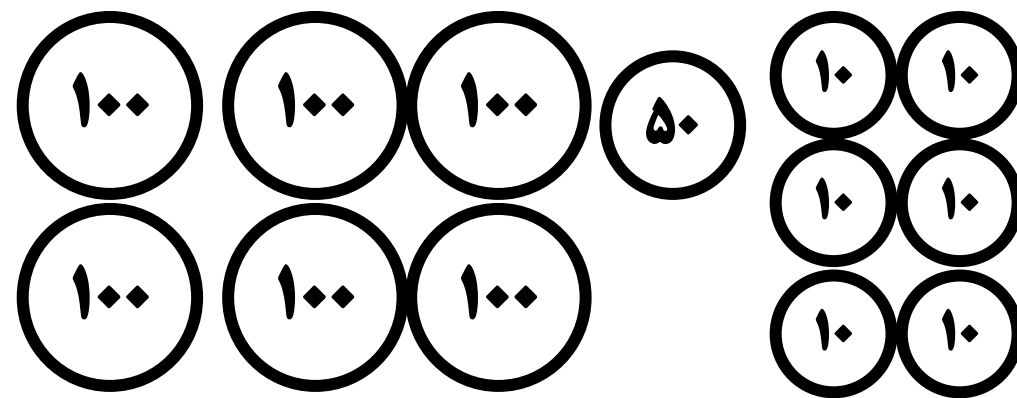
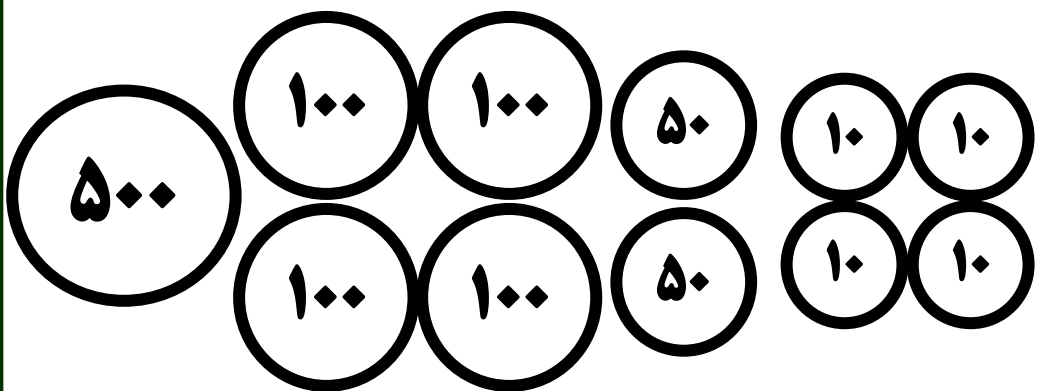
$$300 + 400 \quad \boxed{<} \quad 400 + 400$$

$$400 + 200 \quad \boxed{>} \quad 800 - 300$$

$$700 + 100 \quad \boxed{=} \quad 900 - 100$$



۴. با حذف قسمت های مساوی علامت <=> بگذار.



۴. با حذف قسمت های مساوی علامت <=> بگذار.

