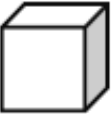



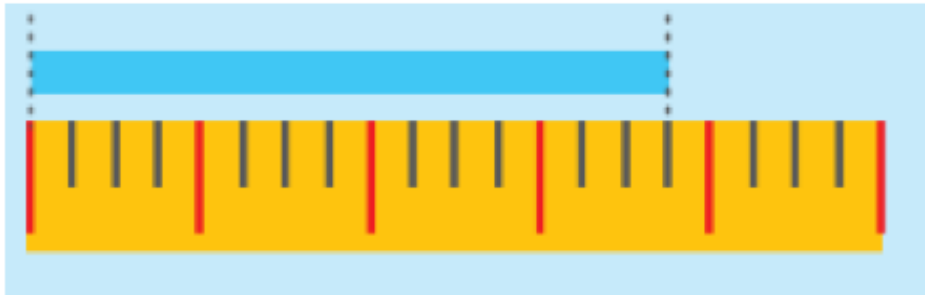
ث) طول ماژیک ۳ و ۳ است. 



ج) اندازه خط ۵ قسمت بزرگ و ۶ قسمت کوچک است.



چ) اندازه خط ۳ قسمت بزرگ ، ۳ قسمت کوچک.



۲. به جای مربع عدد مناسب قرار دهید.

$$۱۵ - \boxed{۶۲} = ۲۳$$

$$۱ \text{ حدس} = ۱۵ - \boxed{۶۰} = ۲۵ \times$$

$$۲ \text{ حدس} = ۱۵ - \boxed{۵۸} = ۲۷ \times$$

$$۱ \text{ حدس} = ۱۵ - \boxed{۶۲} = ۲۳ \checkmark$$

$$۳۶ + \boxed{۴۳} = ۷۹$$

$$۱ \text{ حدس} = ۳۶ + \boxed{۴۰} = ۷۶ \times$$

$$۲ \text{ حدس} = ۳۶ + \boxed{۳۷} = ۷۳ \times$$

$$۳ \text{ حدس} = ۳۶ + \boxed{۴۳} = ۷۹ \checkmark$$

$$۹۲ - \boxed{۴۷} = ۴۵$$

$$۱ \text{ حدس} = ۹۲ - \boxed{۵۰} = ۴۲ \times$$

$$۲ \text{ حدس} = ۹۲ - \boxed{۴۷} = ۴۵ \checkmark$$

$$۱ \text{ حدس} = ۹۲ - \boxed{} =$$

$$۲۸ + \boxed{۲۶} = ۵۴$$

$$۱ \text{ حدس} = ۲۸ + \boxed{۳۰} = ۵۸ \times$$

$$۲ \text{ حدس} = ۲۸ + \boxed{۲۶} = ۵۴ \checkmark$$

$$۳ \text{ حدس} = ۲۸ + \boxed{} =$$

۲. در پارکینگ یک ساختمان ۸ موتور و ماشین وجود دارد ، که روی هم ۲۴ چرخ دارند .
در این پارکینگ چند ماشین و چند موتور وجود دارد؟