

یکان	دهگان	صدگان
.....

۸۳۲

یکان	دهگان
.....

۵۹

جاهای خالی را کامل کن .

۱

$$۸ + ۱۰ + ۳۰ + ۵ + ۵ = \dots\dots\dots$$

حاصل جمع های زیر را بدست بیاور .

$$۲۰ + ۱۵ + ۳۰ + ۵ + ۱۵ = \dots\dots\dots$$

۲

در جای خالی عدد مناسب بنویس .

الف (۵۲ به چه عددی نزدیک تر است ؟ ۴۰ یا ۵۰ ؟)

ب (۷۹ به چه عددی نزدیک تر است ؟ ۷۰ یا ۸۰ ؟)

۳

ساعت چند است ؟ بنویس .



ساعت و دقیقه



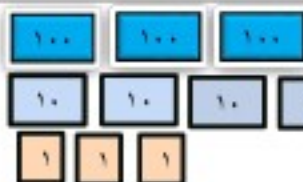
ساعت و دقیقه

۴

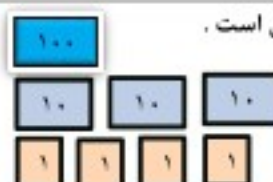
اشکال زیر را رسم کن و تعداد ضلع ها و گوشه های هر یک را بنویس .

۵

دایره	مثلث	مربع	مستطیل	رسم شکل
				تعداد ضلع
				تعداد گوشه



ریال



ریال

کیسه ها را بشمار و بنویس چند ریال است .

۶

اعداد زیر را به رقم و حروف بنویس .

..... ۶۰۲

پانصد و هفتاد

..... ۹۴۰

ششصد و نود و یک

۷

حسین ۴۰۰ ریال و مجید ۳۰۰ ریال را در صندوق انداختند . آن ها با هم چند ریال در صندوق انداخته اند ؟

۸

خط های زیر را با خط کش اندازه بگیر و بنویس چند میلی متر است .

..... میلی متر

..... میلی متر

۹

با عدد های ۹، ۲، ۵ تا می توانی اعداد ۳ رقمی بنویس و دور آن هایی که یکان آن ها ۲ است خط بکش .

۱۰

حاصل جمع و تفریق های زیر را بدست بیاور . تکنیکی

فرایندی

تکنیکی

فرایندی

تکنیکی

۶۵۱

۵۹۲

۴۹۲

۴۲۸

+ ۲۳۲

+ ۲۲۱

- ۲۵۱

- ۱۱۹

۱۱

عدد ها را مقایسه کن و علامت مناسب $< = >$ بگذار .

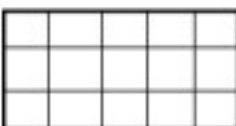
$۱۰۰ + ۳۰۰$ ○ $۲۰۰ + ۲۰۰$

$۲۰۰ + ۷$ ○ ۲۲۰

۳۱۶ ○ ۴۱۵

۱۲

با توجه به عبارت نوشته شده ، شکل را رنگ بزن .



۶ قسمت از ۱۵ قسمت



۲ قسمت از ۴ قسمت

۱۳



در جعبه ی مداد رنگی ۲ مداد قرمز ، ۵ مداد آبی و ۳ مداد سبز وجود دارد .

چه کسری از مداد ها قرمز است ؟

چه کسری از مداد ها آبی است ؟

چه کسری از مداد ها سبز است ؟

۱۴

تعداد دانش آموزان شرکت کننده در رشته های ورزشی یک باشگاه به صورت زیر است .

رشته	والیبال	بسکتبال	فوتبال	کاراته	شنا	ژیمناستیک
تعداد	۶۳	۴۸	۳۳	۳۴	۳۸	۲۱
تعداد تقریبی

ابتدا تعداد تقریبی دانش آموزان را بنویس و نمودار را با نشان دادن هر ۱۰ نفر با شکل کامل کن .



۱۵

