

ارمغان هفته - دوم دبستان

شماره ی

۲۲

نام و نام خانوادگی: تاریخ: نام آموزگار:

ریاضی < دوره

علوم < دوره

فارسی < دوره

ریاضی



با کارت های ۴ و ۷ و ۹ عددهای سه رقمی بنویسید و دور اعداد زوج خط بکشید.



در یک ورزشگاه برای دیدن یک مسابقه تعداد زیادی تماشاچی آمده بودند. ۳۶۰ نفر طرفدار سفید، ۳۴۰ نفر طرفدار نارنجی و ۲۱۰ نفر بی طرف بودند.

الف) چند نفر در ورزشگاه برای دیدن مسابقه آمده بودند؟

ب) چند نفر بی طرف نبودند؟ (با رسم شکل)

محمد ساعت ۹:۲۰ دقیقه از خانه به طرف کتابخانه حرکت کرد. اگر او ۳۰ دقیقه در راه باشد ساعت چند به کتابخانه می رسد؟ (رسم ساعت)

جاهای خالی را کامل کنید و با استفاده از برجسب اشکال دسته بسازید.

تایی می شود

دسته ی

(ب)

تایی می شود

دسته ی

(الف)



گسترده‌ی اعداد زیر را بنویسید و باهم مقایسه کنید.

۶۲۰ =



۴۹۲ =


برچسب تصویر مربوط به هر کسر را در جای مناسب بچسبانید.

| | | | |
|--|--|--|--|
| | | | |
|--|--|--|--|

الف) ۲ قسمت از ۸ قسمت مساوی ب) ۳ قسمت از ۶ قسمت مساوی پ) ۱ قسمت از ۳ قسمت مساوی ت) ۴ قسمت از ۶ قسمت مساوی

تعداد دانش‌آموزان یک مدرسه در جدول زیر نشان داده شده است. تعداد تقریبی دانش‌آموزان را در جاهای خالی بنویسید و نمودار را رسم کنید. (هر ۱۰ نفر را با 😊 نشان بدهید.)

| کلاس | اول | دوم | سوم | چهارم | پنجم |
|--------------|-----|-----|-----|-------|------|
| تعداد | ۱۶ | ۴۸ | ۲۳ | ۳۴ | ۳۸ |
| تعداد تقریبی | | | | | |



علوم

با توجه به کلمات داخل کادر، کلمه‌ی مناسب را در جای خالی بنویسید.

الف) زمین در هر یک‌بار به دور خود می‌چرخد.

ب) گرم‌ترین زمان در طول روز است.

پ) هرچه هوا گرم‌تر شود، مایع داخل دماسنج می‌رود.

ت) خورشید با گرما و خود زمین را گرم می‌دارد.

ث) دمای هوا در آفتاب بیش‌تر از است.

سایه ظهر
بالتر نور
۲۴ ساعت

کدام چشمه‌ی نور طبیعی است؟ (دور آن خط بکشید.)



۳ در کدام گزینه، هر دو رفتار باعث افزایش آلودگی هوا می‌شود؟



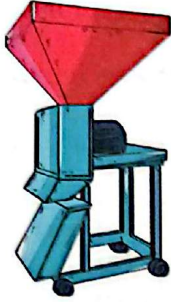
(۲) کاشتن درخت - استفاده از وسایل نقلیه عمومی

(۱) کاشتن درخت - استفاده از خودروی شخصی

(۴) قطع کردن درختان - استفاده از خودروی شخصی

(۳) قطع کردن درختان - استفاده از دوچرخه

۴ هر آسیاب را به نام خود وصل کنید.



آسیاب بادی

آسیاب آبی

آسیاب صنعتی

آسیاب دستی

فارسی

۱ جمله‌ها را با کلمه‌های مناسب کامل کنید.

(الف) به کسی که اهل کرمان است می‌گویند.

(ب) جایی که در آن کتاب چاپ می‌کنند است.

(پ) چیزی که از جنس کتان باشد به آن گویند.

(ت) کسی که پژوهش می‌کند گویند.

۲ برای تصویر زیر، سه جمله بنویسید.



جمله (۱)

جمله (۲)

جمله (۳)

مخالف هر یک از کلمات زیر را بنویسید.

گریه \neq روشن

خواب \neq

درباره‌ی تصویر مقابل و حسی که در مورد آن دارید، یک بند بنویسید.



برای هر نشانه یک کلمه بنویسید.

| | | | | |
|---|---|-----------------|---|----------------|
| ح | ص | (و) با صدای (ا) | ط | (ه) با صدای ده |
| ↓ | ↓ | ↓ | ↓ | ↓ |
| | | | | |

| | | |
|--------------------|-------------------------|-------------------|
| شاخص‌ها | ساخت اعداد سه رقمی | انواع آسیاب |
| خیلی خوب | مقایسه‌ی اعداد | شناخت صدا و نشانه |
| خوب | گسترده نویسی | مخالف کلمات |
| قابل قبول | چشمه‌های نور طبیعی | تصویر خوانی |
| نیاز به تلاش بیشتر | عوامل افزایش آلودگی هوا | ساخت کلمه |