



..... موضوع: تاریخ نام و نام خانوادگی

..... هدف: ۱۴۰۵/۰۳/۰۳

هر ساعت چه زمانی را نشان می دهد؟

Three analog clocks with empty boxes below them for time identification.

علی هر روز ساعت ۸ و ۱۵ دقیقه از خانه خارج می شود و بعد از ۲۰ دقیقه به محل کار خود می رسد .

علی چه ساعتی به محل کار خود می رسد؟




.....

زمانهای خواسته شده را روی ساعت نشان بده.

Two pairs of analog clocks. The first pair shows a clock at 2:15 with an arrow labeled 'یک ربع بعد' pointing to an empty clock. The second pair shows a clock at 7:15 with an arrow labeled 'بیست دقیقه قبل' pointing to an empty clock.

Two more pairs of analog clocks. The first pair shows a clock at 3:15 with an arrow labeled 'یک ربع بعد' pointing to an empty clock. The second pair shows a clock at 10:15 with an arrow labeled 'بیست دقیقه قبل' pointing to an empty clock.

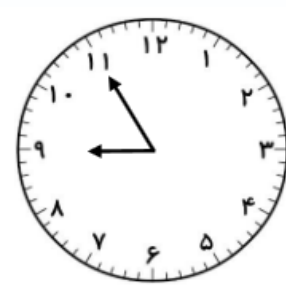




نام و نام خانوادگی: _____ تاریخ: _____

موضوع: _____ هدف: _____

زمان هر ساعت را بنویس .



یک ربع مانده به ۳




نیم ساعت گذشته از ۹



یک ربع گذشته از ۱۲



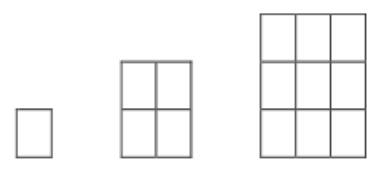
۲۰ دقیقه مانده به ۵





نام و نام خانوادگی: _____ تاریخ: _____ موضوع: _____ هدف: _____

الگوی عددی زیر را ادامه دهید. (با رسم شکل)



..... و و و ۱ و ۴ و

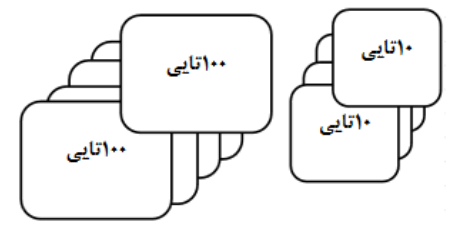
عددی را که هر شکل نشان می دهد در جدول قرار دهید و به رقم و حروف بنویسید.



یکان دهگان صدگان

رقم :

حروف :



یکان دهگان صدگان

رقم :

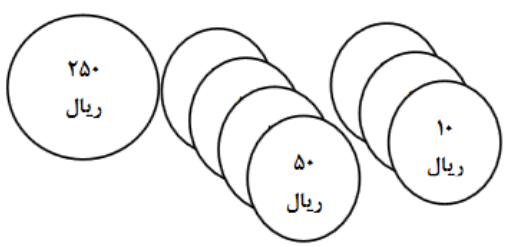
حروف :

پدر محمد ۵ سکه ۱ صدریالی و ۴ سکه ۱ ده ریالی و ۷ سکه ۱ یک ریالی به او داد . او ۱۳۴ ریال را داخل صندوق صدقات انداخت . حالا محمد چند ریال دارد؟ (باشکل)

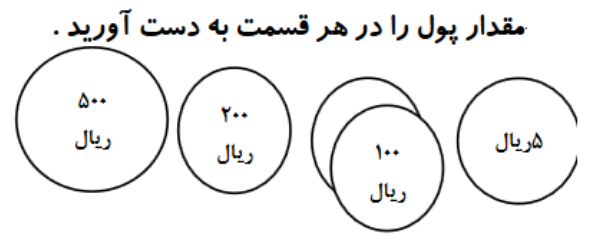




نام و نام خانوادگی: _____ تاریخ: _____ موضوع: _____ هدف: _____



ریال



ریال

با سه کارت که روی آن ها رقم های ۷ و ۵ و ۶ نوشته شده است تمام عددهای سه رقمی که می توان ساخت را درست کنید.

.....

الف) دور بزرگ ترین عدد سه رقمی خط آبی و کوچک ترین عدد سه رقمی خط قرمز بکشید.
ب) عددی سه رقمی را انتخاب کنید که دهگان آن کوچک ترین عدد باشد.

عددهای زیر را با حذف رقم یکان آن ها بنویسید.

۷۰۶ : ۶۴۰ : ۴۳۷ : ۹۵۷ :

عددهای زیر را با حذف رقم یکان و دهگان آن ها بنویسید.

۷۰۶ : ۶۴۰ : ۴۳۷ : ۹۵۷ :

هر عدد را به صورت باز شده بنویسید.

$756 = \dots + \dots + \dots$

$304 = \dots$

$460 = \dots$

$256 = \dots$

