

مرور فصل ششم



۱. جمع و تفریق های زیر را به صورت **فرآیندی** بنویسید.

$$\begin{array}{r} ۴۹۵ \\ - ۲۸۰ \\ \hline \end{array}$$

$$\begin{array}{r} ۴۵۷ \\ + ۱۳۲ \\ \hline \end{array}$$

$$\begin{array}{r} ۸۹۶ \\ - ۴۳۱ \\ \hline \end{array}$$

$$\begin{array}{r} ۳۶۷ \\ - ۲۱۴ \\ \hline \end{array}$$

۱. جمع و تفریق های زیر را به صورت **فرآیندی** بنویسید.

$$\begin{array}{r} 495 \\ - 280 \\ \hline 215 \\ - 80 \\ \hline 215 \end{array}$$

$$\begin{array}{r} 457 \\ + 132 \\ \hline 589 \\ + 32 \\ \hline 587 \\ + 2 \\ \hline 589 \end{array}$$

$$\begin{array}{r} 896 \\ - 431 \\ \hline 465 \\ - 31 \\ \hline 434 \\ - 1 \\ \hline 435 \end{array}$$

$$\begin{array}{r} 367 \\ - 214 \\ \hline 153 \\ - 14 \\ \hline 157 \\ - 4 \\ \hline 153 \end{array}$$

۲. جمع و تفریق های زیر را به صورت **تکنیکی** بنویسید.

$$\begin{array}{r} ۸۰۰ \\ - ۳۴۷ \\ \hline \end{array}$$

$$\begin{array}{r} ۴۶۹ \\ + ۲۸۵ \\ \hline \end{array}$$

$$\begin{array}{r} ۵۰۱ \\ - ۳۸۷ \\ \hline \end{array}$$

$$\begin{array}{r} ۲۱۴ \\ + ۵۷۶ \\ \hline \end{array}$$

۲. جمع و تفریق های زیر را به صورت **تکنیکی** بنویسید.

$$\begin{array}{r} 9 \\ 71 \cancel{0} 1 \cancel{0} \\ \cancel{8} \cancel{0} \cancel{0} \\ - 347 \\ \hline 453 \end{array}$$

$$\begin{array}{r} \textcircled{1} \textcircled{1} \\ 469 \\ + 285 \\ \hline 754 \end{array}$$

$$\begin{array}{r} 9 \\ 41 \cancel{0} 11 \\ \cancel{5} \cancel{0} \cancel{1} \\ - 387 \\ \hline 114 \end{array}$$

$$\begin{array}{r} \textcircled{1} \\ 214 \\ + 576 \\ \hline 790 \end{array}$$

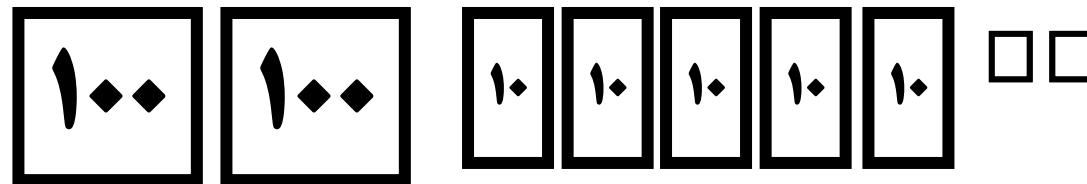

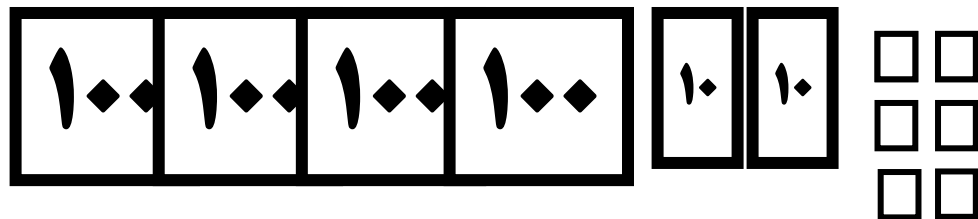
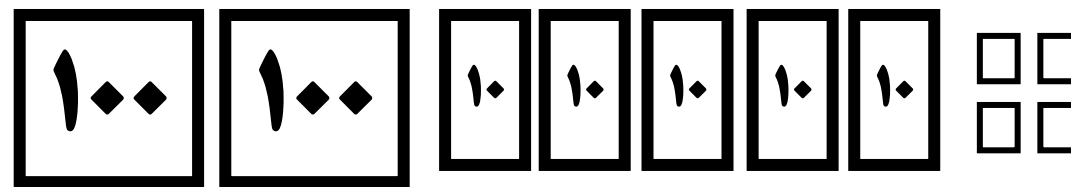

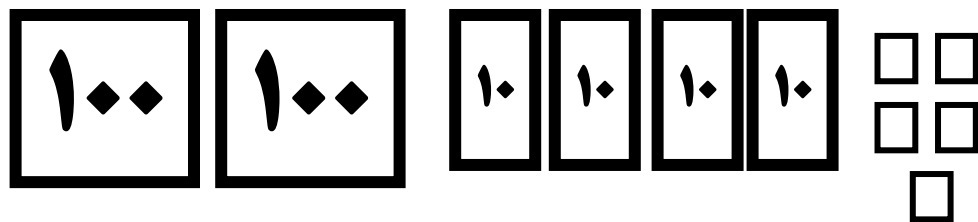
۳. پاسخ ها را در دو طرف با هم مقایسه کن و علامت <=> بگذار.

$$500 + 300 + 100 \quad \square \quad 800 + 100$$

$$300 + 400 \quad \square \quad 400 + 400$$

$$400 + 200 \quad \square \quad 800 - 300$$

$$700 + 100 \quad \square \quad 900 - 100$$



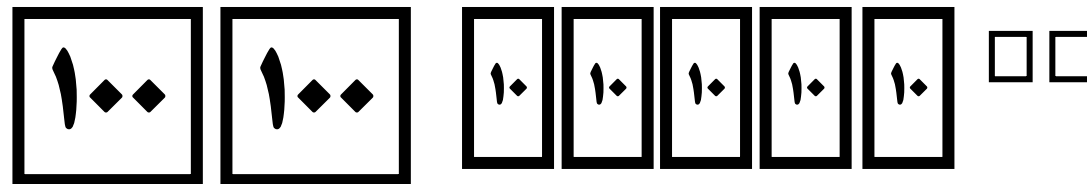

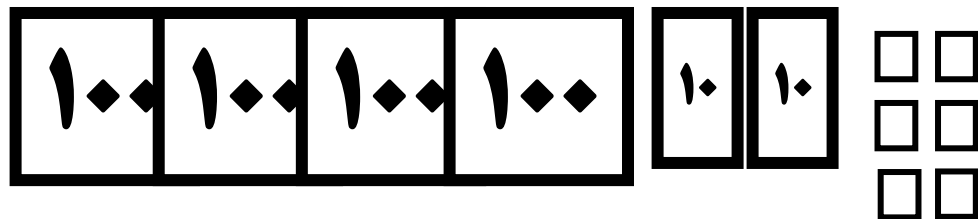
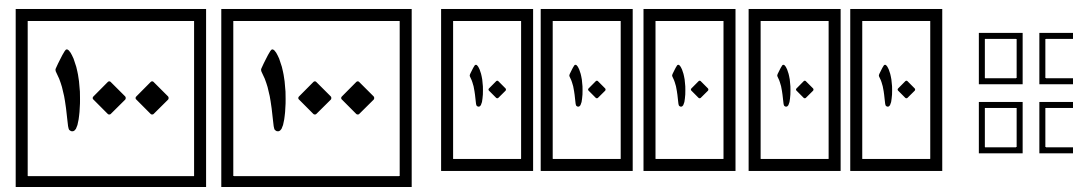

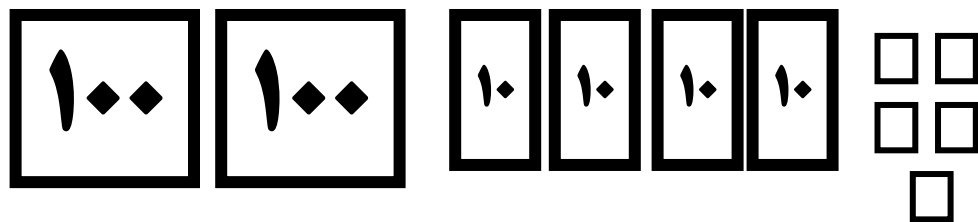
۳. پاسخ ها را در دو طرف با هم مقایسه کن و علامت $<=>$ بگذار.

$$500 + 300 + 100 \quad \boxed{=} \quad 800 + 100$$

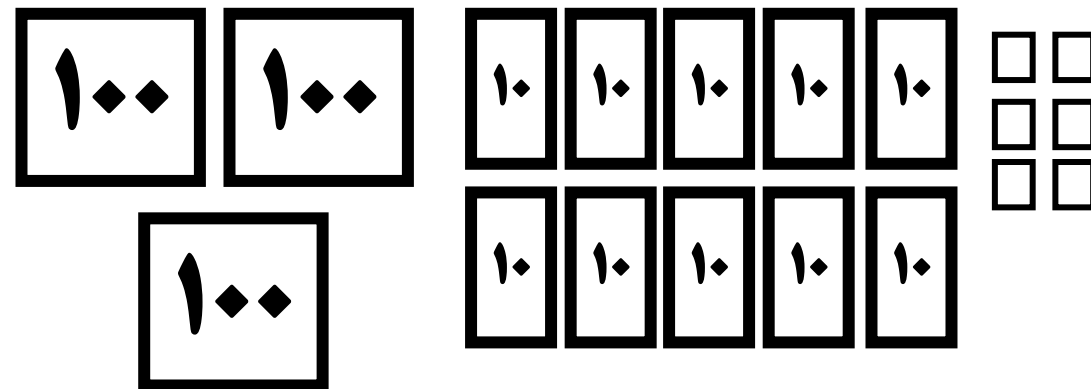
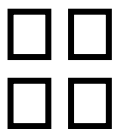
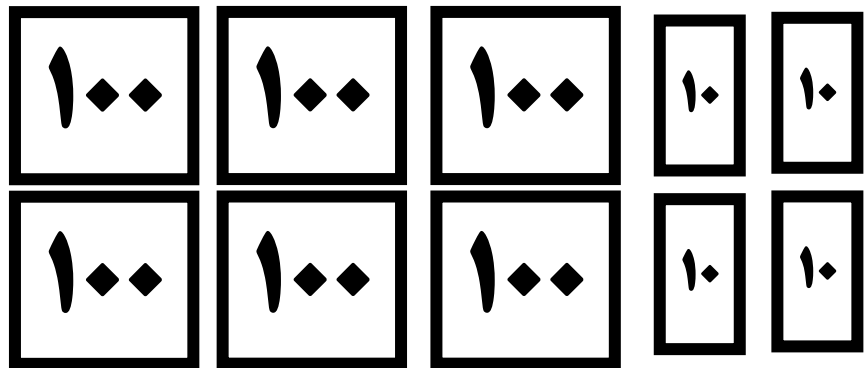
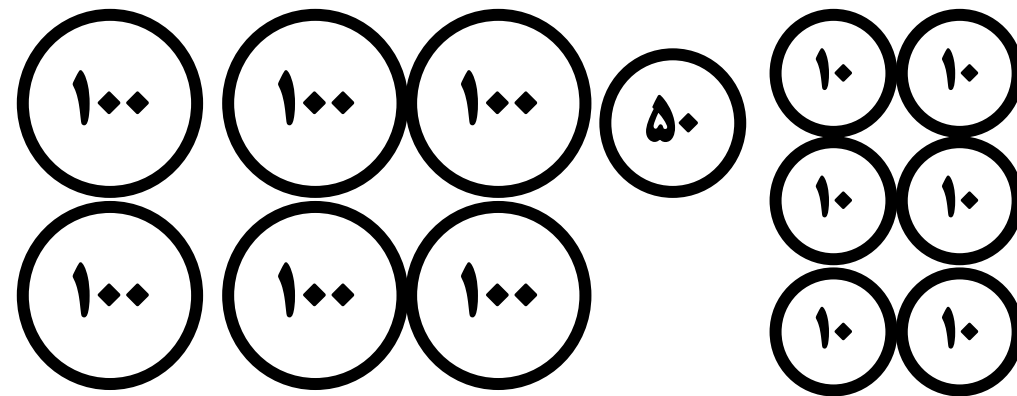
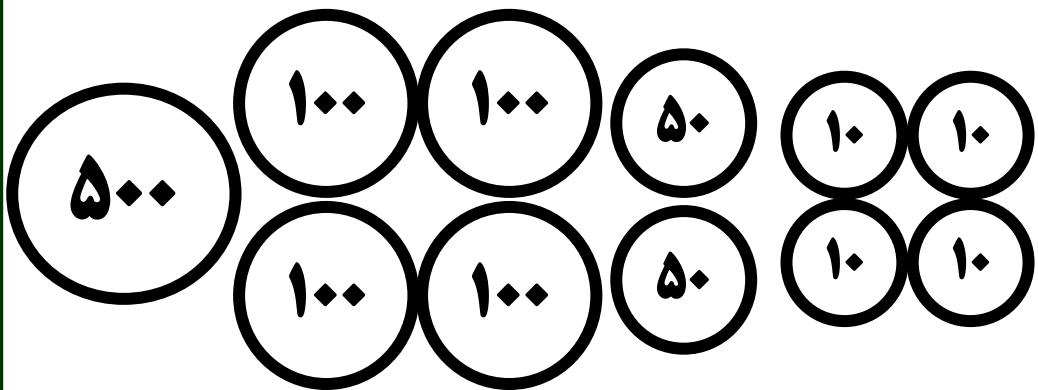
$$300 + 400 \quad \boxed{<} \quad 400 + 400$$

$$400 + 200 \quad \boxed{>} \quad 800 - 300$$

$$700 + 100 \quad \boxed{=} \quad 900 - 100$$




۴. با حذف قسمت های مساوی علامت <=> بگذار.


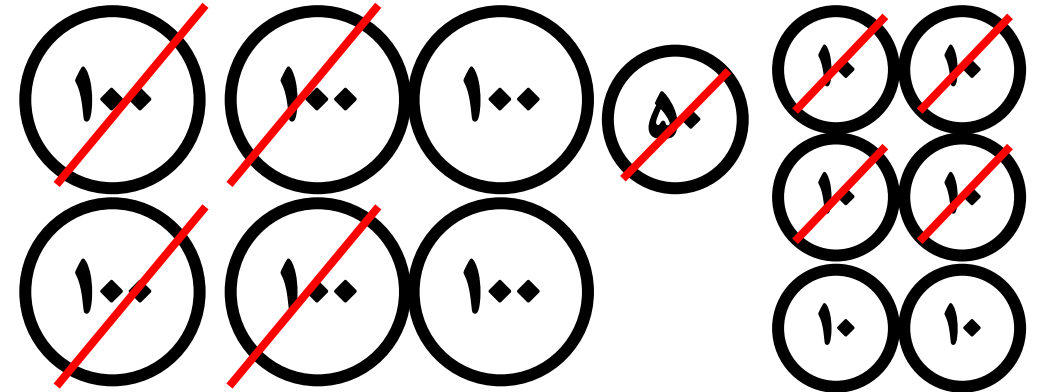


۴. با حذف قسمت های مساوی علامت <=> بگذار.

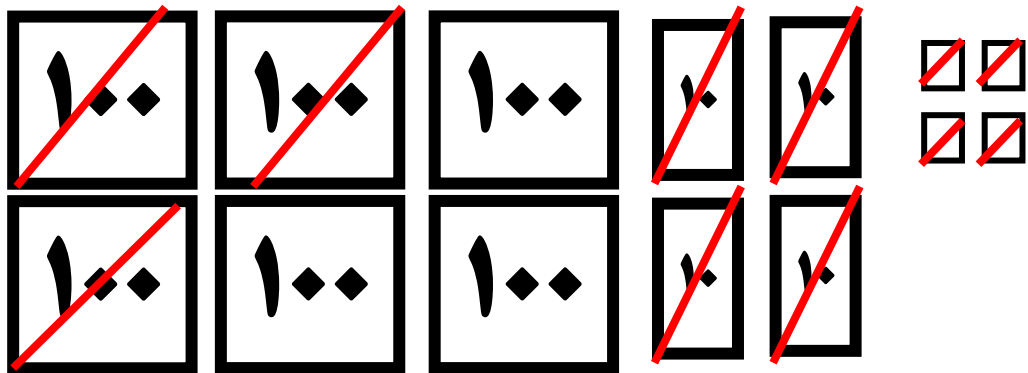
۵۵۰




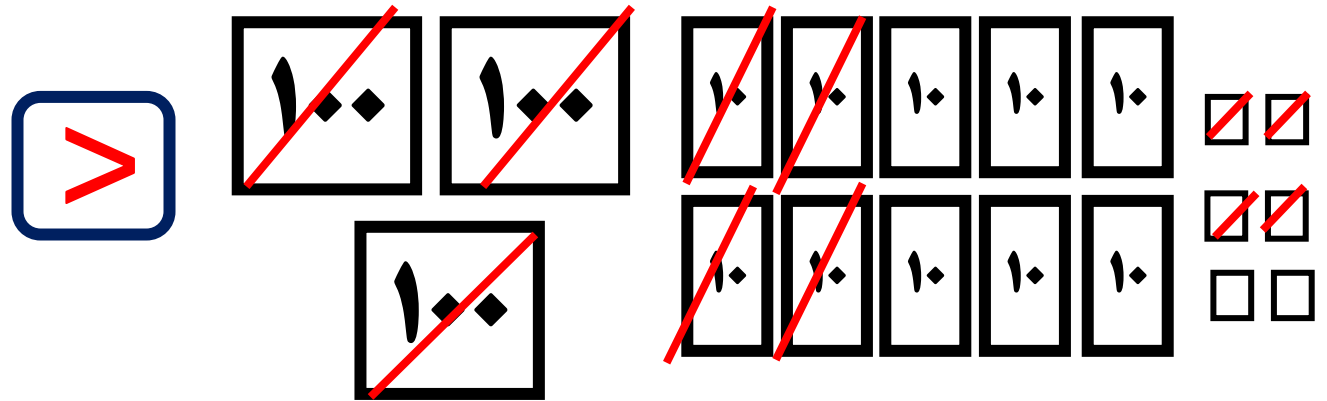
۲۲۰



۳۰۰



۶۲



۵. هر دو عدد را با هم مقایسه کن و علامت $<= >$ بگذار.

$$534 \quad \square \quad 723$$

$$928 \quad \square \quad 904$$

$$381 \quad \square \quad 385$$

$$154 \quad \square \quad 54$$

$$612 \quad \square \quad 618$$

$$718 \quad \square \quad 708$$

۶. پاسخ جمع و تفریق ها را به صورت ذهنی بنویس.

$$500 + 360 =$$

$$870 - 450 =$$

$$200 + 180 =$$

۷. مریم ۴ سکه ۱۰۰ ریالی، ۷ سکه ۱۰ ریالی، ۳ سکه ۱ ریالی داشت. او ۲۵۸ ریال را بستنی خرید. حالا چقدر پول دارد؟

۵. هر دو عدد را با هم مقایسه کن و علامت \lt ، \gt یا $=$ بگذار.

$$534 \quad \boxed{\lt} \quad 723$$

$$928 \quad \boxed{\gt} \quad 904$$

$$381 \quad \boxed{\lt} \quad 385$$

$$154 \quad \boxed{\gt} \quad 54$$

$$612 \quad \boxed{\lt} \quad 618$$

$$718 \quad \boxed{\gt} \quad 708$$

۶. پاسخ جمع و تفریق‌ها را به صورت ذهنی بنویس.

$$500 + 360 = 860$$

$$870 - 450 = 420$$

$$200 + 180 = 380$$

۷. مریم ۴ سکه ۱۰۰ ریالی، ۷ سکه ۱۰ ریالی، ۳ سکه ۱ ریالی داشت. او ۲۵۸ ریال را بستنی خرید. حالا چقدر پول دارد؟

$$400 + 70 + 3 = 473$$

$$\begin{array}{r} 473 \\ - 258 \\ \hline 215 \end{array}$$

۲۱۵ ریال پول دارد.

۸. مادر سارا به او ۶۵۰ تومان پول داد او یک دفتر ۲۴۰ تومان و یک مداد به قیمت ۱۵۰ تومان خرید . چند تومان برای او باقی ماند؟

۹. مینا ۴۶۵ ریال پول داشت . اگر از پدرش ۱۸۰ ریال دیگر بگیرد، جمع پول هایش چقدر است؟

۱۰. قد خواهر نازنین ۱۶۹ سانتی متر است. اگر نازنین ۲۴ سانتی متر از خواهرش کوتاه تر باشد . اندازه ی قد نازنین چقدر است؟

۸. مادر سارا به او ۶۵۰ تومان پول داد او یک دفتر ۲۴۰ تومان و یک مداد به قیمت ۱۵۰ تومان خرید. چند تومان برای او باقی ماند؟

$$\begin{array}{r} 240 \\ + 150 \\ \hline 390 \end{array}$$
$$\begin{array}{r} 515 \\ \cancel{650} \\ - 390 \\ \hline 260 \end{array}$$

۲۶۰ تومان برایش پول باقی ماند.

۹. مینا ۴۶۵ ریال پول داشت. اگر از پدرش ۱۸۰ ریال دیگر بگیرد، جمع پول هایش چقدر است؟

$$\begin{array}{r} 465 \\ + 180 \\ \hline 645 \end{array}$$

جمع پول هایش ۶۴۵ تومان است.

۱۰. قد خواهر نازنین ۱۶۹ سانتی متر است. اگر نازنین ۲۴ سانتی متر از خواهرش کوتاه تر باشد. اندازه ی قد نازنین چقدر است؟

$$\begin{array}{r} 169 \\ - 24 \\ \hline 145 \end{array}$$

اندازه قد نازنین ۱۴۵ سانتی متر است.

الف) اگر به ۴۵۸ دو دسته ی ده تایی اضافه کنیم می شود

ت) ۳۴۰ می شود دسته ی ده تایی

ث) ۵۰۰ ریال برابر با سکه ی ۱۰۰ ریالی

ب) ۵ صدتایی ، ۰ ده تایی ، ۷ یکی می شود

ت) ۵ صد تایی و ۱۶ یکی می شود

الف) اگر به ۴۵۸ دو دسته ی ده تایی اضافه کنیم می شود **۶۵۸**...

ت) ۳۴۰ می شود **۳۴**... دسته ی ده تایی

ث) ۵۰۰ ریال برابر با **۵**... سکه ی ۱۰۰ ریالی

ب) ۵ صدتایی ، ۰ ده تایی ، ۷ یکی می شود **۵۰۷**...

ت) ۵ صد تایی و ۱۶ یکی می شود **۵۱۶**...