

مرور فصل هفتم



۱. جاهای خالی را به درستی پر کنید.

الف) ۷۳ یعنی ده تایی و قسمت از ۱۰ قسمت مساوی

ب) ۲۴ یعنی سانتی متر و قسمت از ۱۰ قسمت مساوی

پ) یک ۸۰ ضلعی گوشه دارد.

ت) ساعت ۱۰:۳۰ است. نیم ساعت بعد می شود.

ث) ساعت ۱۵:۰۶ دقیقه است یعنی عقربه بزرگ قسمت از ۴ قسمت مساوی را طی کرده است.

ج) ساعت ۴۵:۰۲ دقیقه است یعنی عقربه بزرگ قسمت از قسمت مساوی را طی کرده است.

چ) در یک کیسه ۳ مهره آبی ، ۹ مهره قرمز و ۷ مهره زرد وجود دارد. احتمال بیرون آمدن مهره بیشتر و احتمال بیرون آمدن مهره کمتر است.

۱. جاهای خالی را به درستی پر کنید.

الف) ۷۳ یعنی ۷..... ده تایی و ۳..... قسمت از ۱۰ قسمت مساوی

ب) ۲۴ یعنی ۲..... سانتی متر و ۴..... قسمت از ۱۰ قسمت مساوی

پ) یک ۸۰ ضلعی ۸۰..... گوشه دارد.


ت) ساعت ۱۰:۳۰ است. نیم ساعت بعد ۴:۳۰ می شود.

ث) ساعت ۱۵:۰۶ دقیقه است یعنی عقربه بزرگ ۱..... قسمت از ۴ قسمت مساوی را طی کرده است.


ج) ساعت ۴۵:۰۲ دقیقه است یعنی عقربه بزرگ ۳..... قسمت از ۴..... قسمت مساوی را طی کرده است.

چ) در یک کیسه ۳ مهره آبی، ۹ مهره قرمز و ۷ مهره زرد وجود دارد. احتمال بیرون آمدن مهره **قرمز**..... بیشتر و احتمال بیرون آمدن مهره **آبی**..... کمتر است.

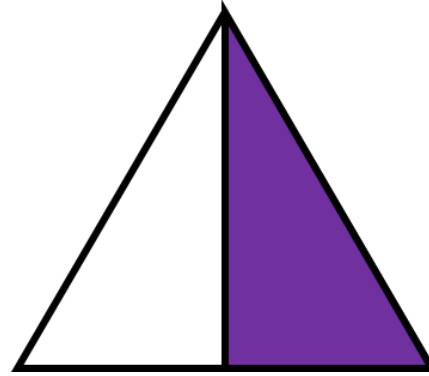
۲. چه کسری از هر شکل رنگ نشده است؟



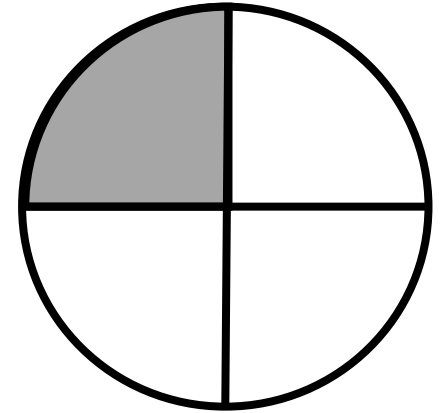
... قسمت از مساوی



... قسمت از مساوی

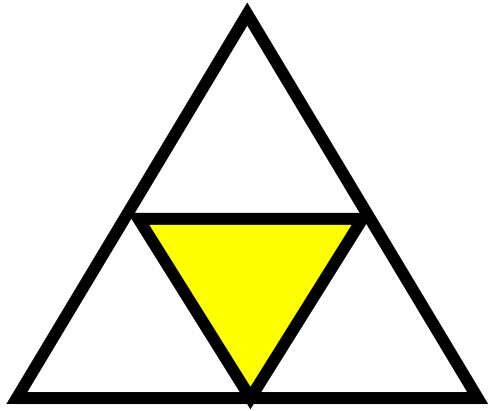


... قسمت از مساوی




... قسمت از مساوی

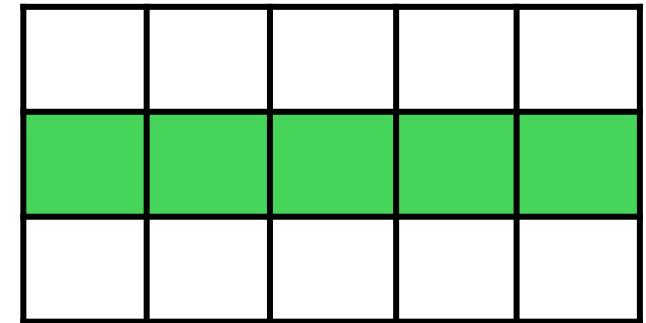
۳. چه کسری از هر شکل رنگ شده است؟



... قسمت از مساوی




... قسمت از مساوی




... قسمت از مساوی

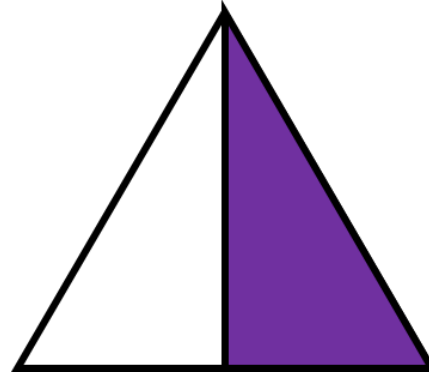
۲. چه کسری از هر شکل رنگ نشده است؟




۱۰... قسمت از ۵۰ مساوی



۱... قسمت از ۴ مساوی

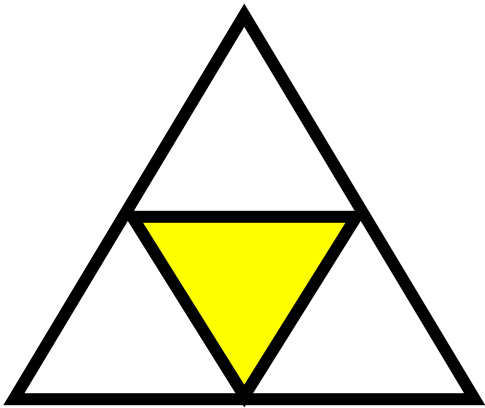


۱... قسمت از ۲ مساوی




۳... قسمت از ۴ مساوی

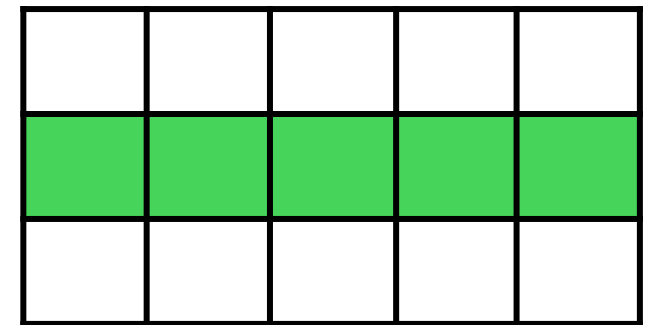
۳. چه کسری از هر شکل رنگ شده است؟



۱... قسمت از ۴ مساوی




۳... قسمت از ۴ مساوی




۵... قسمت از ۵ مساوی


۷. با توجه به شکل جمله ها را کامل کنید.




..... دسته ی تایی می شود



..... دسته ی تایی می شود




..... دسته ی تایی می شود




..... دسته ی تایی می شود


۷. با توجه به شکل جمله ها را کامل کنید.




۳..... دسته ی ۵.... تایی می شود...۱۵..



۵.. دسته ی ۲... تایی می شود...۱۰.....



۲.... دسته ی ۵... تایی می شود...۱۰.....



۴.... دسته ی ۳.... تایی می شود...۱۲.....