

# مرور فصل هفتم



۱. جاهای خالی را به درستی پر کنید.

الف) ۷۳ یعنی ..... ده تایی و ..... قسمت از ۱۰ قسمت مساوی

ب) ۲۴ یعنی ..... سانتی متر و ..... قسمت از ۱۰ قسمت مساوی

پ) یک ۸۰ ضلعی ..... گوشه دارد.

ت) ساعت ۱۰:۳۰ است. نیم ساعت بعد ..... می شود.

ث) ساعت ۱۵:۰۶ دقیقه است یعنی عقربه بزرگ ..... قسمت از ۴ قسمت مساوی را طی کرده است.

ج) ساعت ۴۵:۰۲ دقیقه است یعنی عقربه بزرگ ..... قسمت از ..... قسمت مساوی را طی کرده است.

چ) در یک کیسه ۳ مهره آبی ، ۹ مهره قرمز و ۷ مهره زرد وجود دارد. احتمال بیرون آمدن مهره ..... بیشتر و احتمال بیرون آمدن مهره ..... کمتر است.

۱. جاهای خالی را به درستی پر کنید.

الف) ۷۳ یعنی .....۷..... ده تایی و .....۳..... قسمت از ۱۰ قسمت مساوی

ب) ۲۴ یعنی .....۲..... سانتی متر و .....۴..... قسمت از ۱۰ قسمت مساوی

پ) یک ۸۰ ضلعی .....۸۰..... گوشه دارد.


ت) ساعت ۱۰:۳۰ است. نیم ساعت بعد .....۴:۳۰..... می شود.

ث) ساعت ۱۵:۰۶ دقیقه است یعنی عقربه بزرگ .....۱..... قسمت از ۴ قسمت مساوی را طی کرده است.


ج) ساعت ۴۵:۰۲ دقیقه است یعنی عقربه بزرگ .....۳..... قسمت از .....۴..... قسمت مساوی را طی کرده است.

چ) در یک کیسه ۳ مهره آبی ، ۹ مهره قرمز و ۷ مهره زرد وجود دارد. احتمال بیرون آمدن مهره  
...**قرمز**..... بیشتر و احتمال بیرون آمدن مهره .....**آبی**..... کمتر است.

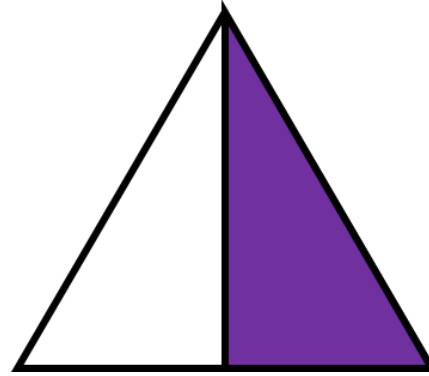
۲. چه کسری از هر شکل رنگ نشده است؟



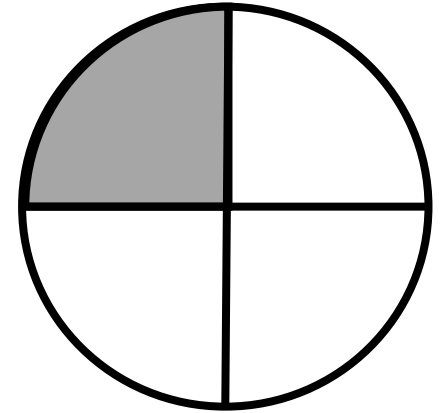
... قسمت از ..... مساوی



... قسمت از ..... مساوی

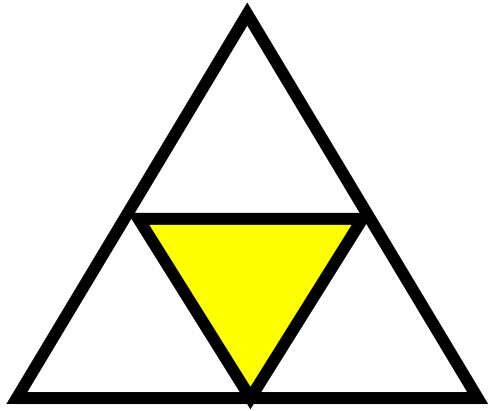


... قسمت از ..... مساوی




... قسمت از ..... مساوی

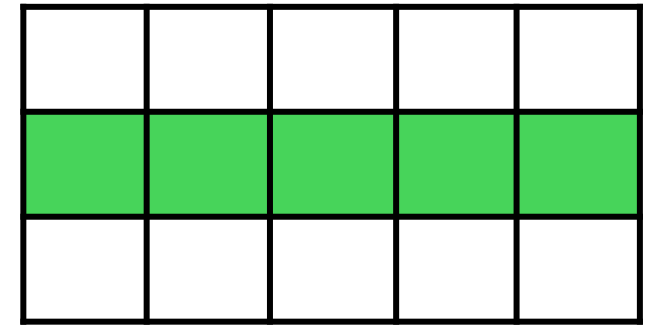
۳. چه کسری از هر شکل رنگ شده است؟



... قسمت از ..... مساوی




... قسمت از ..... مساوی




... قسمت از ..... مساوی

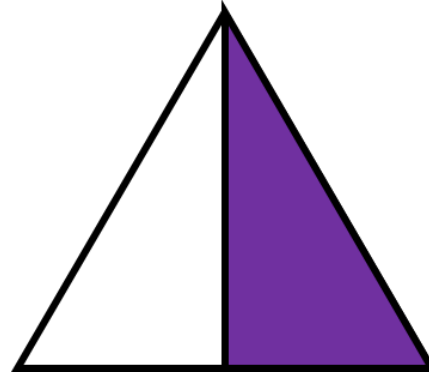
۲. چه کسری از هر شکل رنگ نشده است؟




۱۰... قسمت از ۵۰ مساوی



۱... قسمت از ۴۰... مساوی

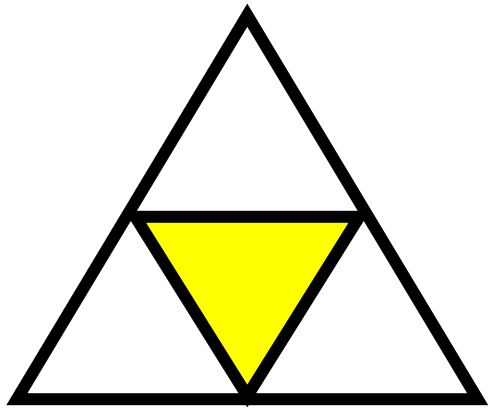


۱... قسمت از ۲۰... مساوی




۳... قسمت از ۴۰... مساوی

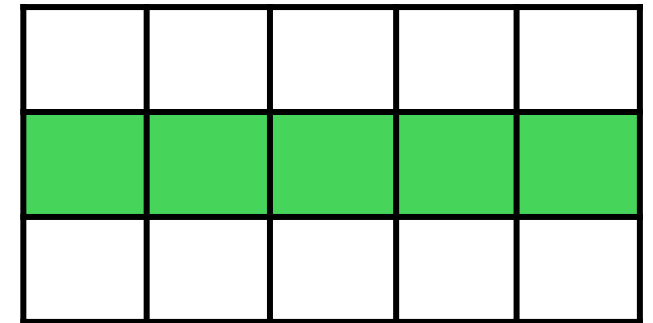
۳. چه کسری از هر شکل رنگ شده است؟



۱... قسمت از ۴۰... مساوی




۳... قسمت از ۴۰... مساوی




۵... قسمت از ۵۰... مساوی


۷. با توجه به شکل جمله ها را کامل کنید.




..... دسته ی ..... تایی می شود



..... دسته ی ..... تایی می شود




..... دسته ی ..... تایی می شود




..... دسته ی ..... تایی می شود


۷. با توجه به شکل جمله ها را کامل کنید.




۳..... دسته ی ۵.... تایی می شود...۱۵..



۵.. دسته ی ۲.... تایی می شود.....۱۰..


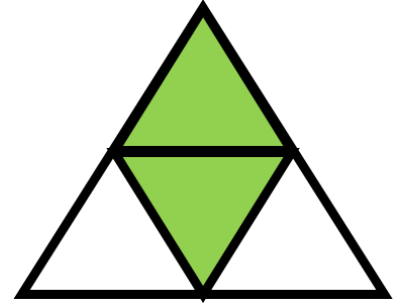
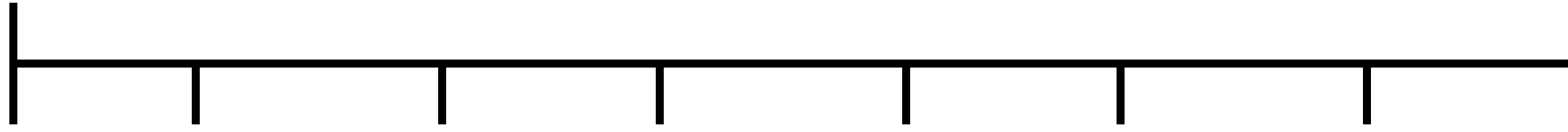


۲.... دسته ی ۵.... تایی می شود.....۱۰..

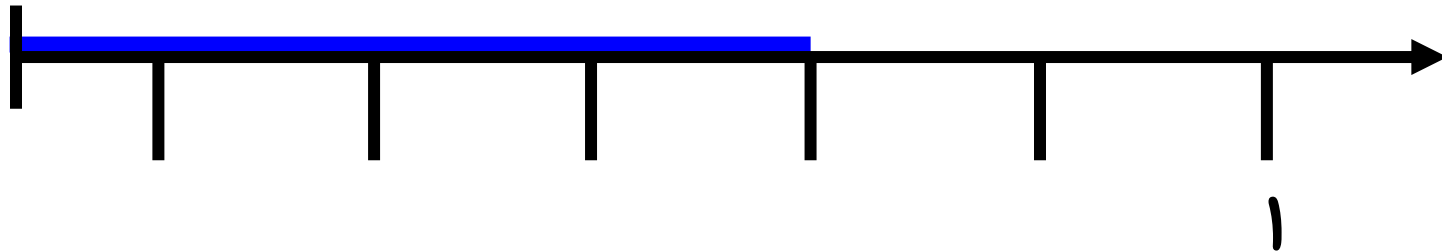

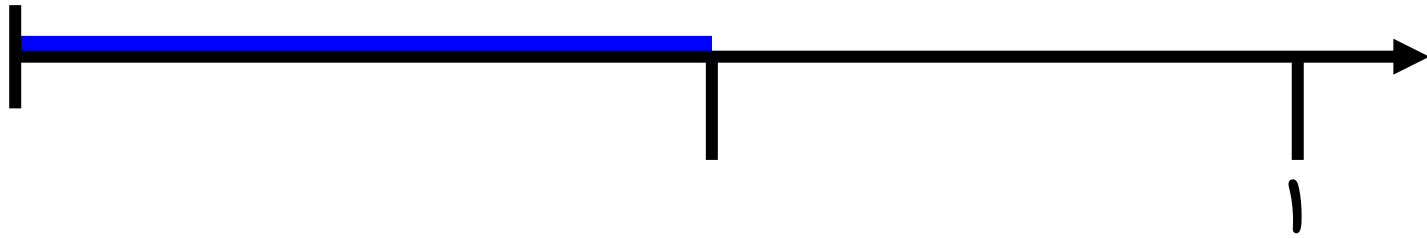
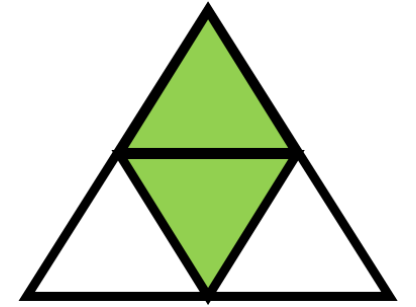
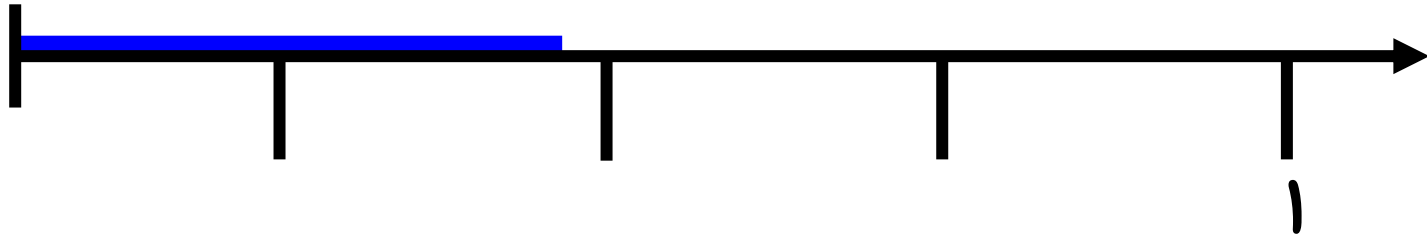


۴.... دسته ی ۳.... تایی می شود...۱۲..

۸. با توجه به واحد ها و قسمت های رنگ شده از هر شکل از محور کنار آن را رنگ کن.



۸. با توجه به واحد ها و قسمت های رنگ شده از هر شکل از محور کنار آن را رنگ کن.



۴. یک کیک ۸ قسمت مساوی تقسیم شده است . اگر ۳ قسمت آن باقی مانده باشد ، چند قسمت آن خورده شده است.(به صورت کسر بنویس)

۵. قد نازنین ۱۵۷ سانتی متر است . پدر نازنین ۱۵ سانتی متر از آن کوتاه تر است. قد پدر نازنین چند سانتی متر است؟

قد این دو نفر روی هم چند سانتی متر است؟

۴. یک کیک ۸ قسمت مساوی تقسیم شده است. اگر ۳ قسمت آن باقی مانده باشد، چند قسمت آن خورده شده است. (به صورت کسر بنویس)

۵ قسمت از ۸ قسمت خورده شد.

۵. قد نازنین ۱۵۷ سانتی متر است. پدر نازنین ۱۵ سانتی متر از آن کوتاه تر است. قد پدر نازنین چند سانتی متر است؟

$$\begin{array}{r} 157 \\ - 15 \\ \hline 142 \end{array}$$

$$\begin{array}{r} 157 \\ + 142 \\ \hline 299 \end{array}$$

قد پدر نازنین ۱۴۲ سانتی متر است

قد این دو نفر روی هم چند سانتی متر است؟

قد این دو روی هم ۲۹۹ سانتی متر است