




موضوع:

تاریخ:

نام و نام خانوادگی:

هدف:

۱) با کمک ساعت زیر زمان‌های زیر را پیدا کن و بنویس.



نیم ساعت بعد از ساعت ۸:۵۰ چه ساعتی است؟

ربع ساعت بعد از ساعت ۳:۴۵ چه ساعتی است؟

ده دقیقه بعد از ساعت ۱۰:۲۵ چه ساعتی است؟

۲) با توجه به شکل‌ها جدول‌ها را کامل کنید.

۴۰ سکه‌ی یک ریالی را می‌توان با سکه‌ی ۱۰ ریالی عوض کرد.

۱۰۰ سکه‌ی یک ریالی را می‌توان با سکه‌ی ۱۰ ریالی عوض کرد.

۱۰ سکه‌ی ۱۰ ریالی را می‌توان با یک سکه‌ی ریالی عوض کرد.

۵ سکه‌ی ۱۰۰ ریالی و ۴ سکه‌ی ۱۰ ریالی و ۷ سکه‌ی ۱ ریالی می‌شود ریال.

۸ دسته‌ی ۱۰۰ تایی، و ۶ دسته‌ی ۱۰ تایی و ۲ یکی می‌شود

۹ دسته‌ی ۱۰۰ تایی با ۲ دسته‌ی ۱۰ تایی می‌شود

۹۳۵ ریال برابر است با سکه‌ی ۱۰۰ ریالی، سکه‌ی ۱۰ ریالی و سکه‌ی ۱ ریالی.

۳۰۷ ریال برابر است با سکه‌ی ۱۰۰ ریالی و سکه‌ی ریالی.

عدد ۴۵۳ رقم دارد و رقم‌های آن می‌باشد.

۳) جاهای خالی را با عدد مناسب پر کن.

۳۶ میلی‌متر یعنی سانتی‌متر و میلی‌متر

۵۷ میلی‌متر یعنی سانتی‌متر و میلی‌متر

۹۵ میلی‌متر یعنی سانتی‌متر و میلی‌متر

۱۰۵ میلی‌متر یعنی سانتی‌متر و میلی‌متر

۲۲۶ میلی‌متر یعنی سانتی‌متر و میلی‌متر

۳۴۲ میلی‌متر یعنی سانتی‌متر و میلی‌متر

۴۵۷ میلی‌متر یعنی سانتی‌متر و میلی‌متر



موضوع:

تاریخ

نام و نام خانوادگی

هدف:

(۴) به سوالات زیر پاسخ بده.

الف) عدد ۴۶ به ۴۰ نزدیکتر است یا به ۵۰؟

ب) عدد ۱۲ به نزدیکتر است یا به ۲۰؟

ج) عدد ۵۸ به ۵۰ نزدیکتر است یا به ۶۰؟

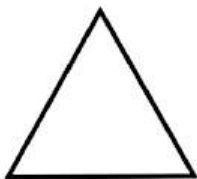
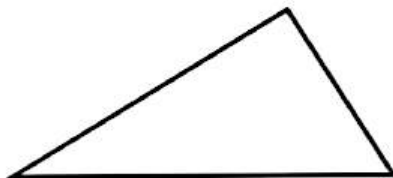
(۵) علامت مناسب ($<$ $=$ $>$) بگذار.

۵۰ سانتی‌متر ۴۰ میلی‌متر ۲۵ میلی‌متر ۲ سانتی‌متر

۳ سانتی‌متر و ۶ میلی‌متر ۳۶ سانتی‌متر

۳ سانتی‌متر + ۴۰ میلی‌متر ۲۰ سانتی‌متر + ۱ متر

(۶) دو شکل زیر چه تفاوت و شباهت‌هایی با هم دارند؟



شباهت:

.....

تفاوت:

.....



موضوع:

تاریخ:

نام و نام خانوادگی:

هدف:

۷) به پرسش‌های زیر پاسخ بده.

.....

الف) در شمارش ۹ تا ۹ تا بعد از ۲۷ چه عددی است؟

.....

ب) در شمارش ۸ تا ۸ تا عدد بعد از ۴۸ چه عددی است؟

۸) دلبندم، با چینه‌هایی که داری یک ساختمان پنج طبقه درست کن به طوری که در هر طبقه سه واحد وجود داشته باشد. حالا به سوال‌های زیر جواب بده.

الف) در طبقه دو چند واحد وجود دارد؟

ب) از طبقه اول تا طبقه سوم چند واحد وجود دارد؟

ج) در کل این ساختمان چند واحد وجود دارد؟

۹) جدول‌های زیر را کامل کن.

-	۵	۳	۲
۷			
۱۳			

+	۳	۴	۵	۶
۵				
۸				

۱۰) عددهای دو رقمی بنویس، که رقم‌های یکان آن ۶ و ۸ و رقم دهگان آن ۳ و ۹ باشد.

