



نام و نام خانوادگی

تاریخ

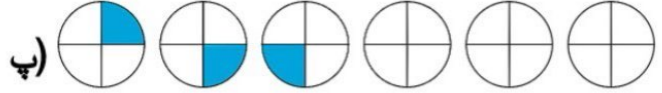
موضوع:

هدف:

۱- الگوها را ادامه دهید.

..... - ..... - ۲۸۰ - ۲۷۰ (الف)

..... ، ۱۴ ، ۹ ، ۵ ، ۲ (ب)



۲- جاهای خالی را کامل کنید.

(الف) دایره .... خط تقارن و مثلثی که سه ضلعش با هم برابر است .... خط تقارن دارد.

(ب) عدد دو رقمی که یکان آن کوچکترین عدد فرد و دهگان آن ۵ تا از یکانش بیشتر باشد .... است .

(پ) .... دقیقه طول می کشد که عقربه ی بزرگ ساعت از عدد ۸ به عدد ۱۰ برسد .

(ت) ۴۵ میلی متر یعنی .... سانتی متر و .... میلی متر .

(ث) ۲۵۳ میلی متر یعنی .... سانتی متر و .... میلی متر .

۳- مانلی ۶ سکه ی صد ریالی ، ۱۴ سکه ی ده ریالی و ۱ سکه ی یک ریالی دارد. او برای نیلای یک دستبند ۱۱۳ ریالی و برای النا یک برچسب سه بعدی ۳۰۳ ریالی خرید. چند ریال برای مانلی باقی مانده است ؟


۴- (الف) با کارت های ۹ و ۱، ۴ و تمام عدد های سه رقمی را بسازید و به سوالات زیر پاسخ دهید.

(ب) کوچکترین و بزرگترین عدد را به حروف بنویسید.

(پ) عدد هایی که زوج هستند را بنویسید .

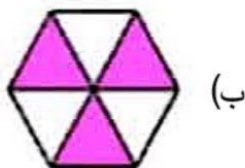
(ت) عددی بنویسید که دهگان آن ۴ و یکانش سه تا از دهگانش کوچکتر باشد.

۵- کسرهای زیر را کامل کنید.



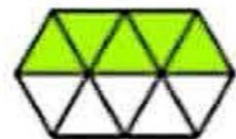
(پ)

..... قسمت از ..... قسمت مساوی



(ب)

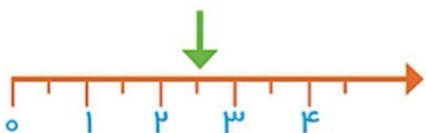
..... قسمت از ..... قسمت مساوی




(الف)

..... قسمت از ..... قسمت مساوی

- ۶- نازنین زهرا در ساعت ۶:۴۵ دقیقه به شهر بازی رسید. او یک ساعت و ربع با دوستان و مادر خود بازی کرد. او در چه ساعتی بازی اش تمام شد ؟
- ۷- در کیسه ای ۸ مهره ی نارنجی و ۲ مهره ی سبز است .  
الف) ..... مهره از ..... مهره نارنجی است. ب) ..... مهره از ..... مهره سبز است.  
پ) اگر بدون نگاه کردن یک مهره از کیسه بیرون بیاوریم، شانس اینکه نارنجی باشد بیش تر است یا سبز چرا ؟
- ۸- نقطه ی مشخص شده .... واحد و .... قسمت از ۲ قسمت مساوی را نشان می دهد.




۹- کامل کنید.



..... دسته ی ..... تایی می شود .....  
ب) ..... دسته ی ..... تایی می شود .....

الف) ..... تا ..... تایی می شود .....

- ۱۰- در یک روستا ۵ دانش آموز تعداد کوسفندان خود را شمردند و در کلاس اعلام کردند. آموزگار جدول زیر را درست کرد. با کامل کردن آن ، نمودار تصویری تعداد کوسفندان را رسم کنید. (هر  نشان دهنده ی ۱۰ کوسفند می باشد.)



نام دانش آموز	علی	محسن	حسن	احمد	محمود
تعداد کوسفندان	۳۱	۲۵	۴۷	۱۵	۵۲
تعداد تقریبی					

