



موضوع:


تاریخ

نام و نام خانوادگی

هدف:



کاربرگ ساعت



ساعت و دقیقه است.



ساعت و دقیقه است.



ساعت و دقیقه است.



ساعت و دقیقه است.



ساعت و دقیقه است.





موضوع:

تاریخ:

نام و نام خانوادگی:

هدف:

۱- عبارت های زیر را کامل کن.

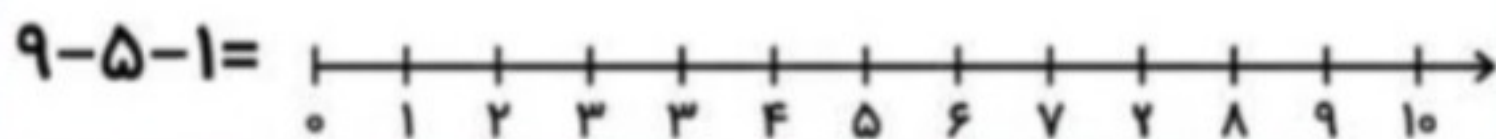
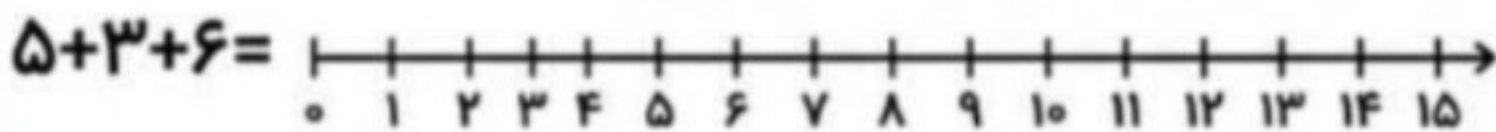
$$\dots + \dots = 9$$

$$7 + 3 + 5 + 2 =$$

$$\dots + \dots = 5$$

$$10 + 20 + 5 + 3 =$$

۲- حاصل عبارت ها را روی محور نشان بده.



۳- دسته های ده تایی درست کن، و تعداد شکل ها را بنویس.

عدد:

حروف:

۴- ۳ عدد بنویس که یکان آن ها ۴ باشد.




۵- کاوه به فروشگاه رفت و یک بستنی ۳۷ ریالی و دو آدامس ۲۲ و یک مارشمالو ۴۵ ریالی خرید. کاوه چند ریال به فروشنده پرداخت کرد؟



۶- قبل و بعد هر عدد را بنویس.





نام و نام خانوادگی

تاریخ

موضوع:

هدف:

۱. خط تقارن شکل‌های زیر را رسم کن و تعداد خط تقارن‌های آن‌ها را بنویس.



۲. پریسا ساعت ۷ و ربع به مدرسه رفت. او ۵ ساعت و ۴۰ دقیقه بعد به خانه برگشت. پریسا چه ساعتی به خانه برگشته است؟ روی ساعت نشان بده.



۳. آقا مجتبی برای میز کارش می‌خواهد یک رومیزی سنتی بخرد. او به فروشنده گفت میز من گوشه ندارد. به نظر شما میز او چه شکلی است؟ شکل آن را بکش.



۴. تفاوت و شباهت شکل‌های زیر را بنویس.



تفاوت:

شباهت:

۵. الگوها را ادامه بده.

۳ ۵ ۸ ۱۲

۸۷ ۸۲ ۷۷ ۷۷



موضوع:

تاریخ:

نام و نام خانوادگی:

هدف:



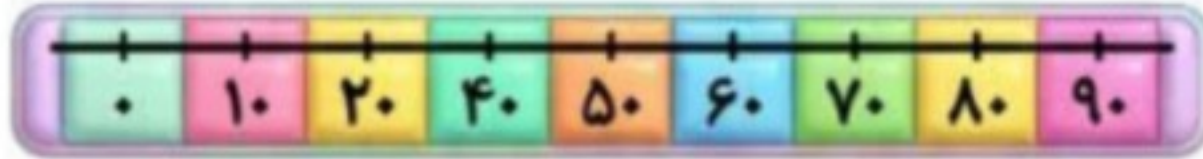
۱. با کارت‌های روبرو عددهای دو رقمی بساز.

۲. جمع و تفریق زیر را با کمک محور حل کن.

$$30 + 50 =$$



$$70 - 20 =$$



۳. جاهای خالی را با عدد مناسب پر کن.

۲۹ به ۲۰ نزدیکتر است یا به ۳۰؟

۵۲ به ۵۰ نزدیکتر است یا به ۶۰؟



۴. هانیه و هدیه روی هم ۶۲ تا تیله رنگی داشتند.

اگر هدیه ۲۸ تیله رنگی داشته باشد، هانیه

چند تیله رنگی دارد؟

۵. جمع و تفریق‌های زیر را به روش‌های خواسته شده انجام بده.

(فرایندی)

$$\begin{array}{r} 63 \\ + 19 \\ \hline \end{array}$$

(تقریبی)

$$\begin{array}{r} 49 \\ - 31 \\ \hline \end{array}$$

(ذهنی)

$$\begin{array}{r} 40 \\ + 50 \\ \hline \end{array}$$

(فرایندی)

$$\begin{array}{r} 77 \\ - 59 \\ \hline \end{array}$$

۶. من چه عددی هستم؟ دهگانم ۸ و یکانم ۳ تا کمتر از دهگان است.

