



موضوع: نمونه سوالات ریاضی

تاریخ: ۱۴۰۵/۰۳/۰۵

هدف: حاصل جمع و تفریق های زیر را به دست آورید. ( فر آیندی )



$$\begin{array}{r} 68 \\ - 45 \\ \hline \end{array}$$

$$\begin{array}{r} 53 \\ + 29 \\ \hline \end{array}$$

$$\begin{array}{r} 52 \\ - 15 \\ \hline \end{array}$$


$$\begin{array}{r} 67 \\ - 49 \\ \hline \end{array}$$

رضا ساعت ۴ و ۳۵ دقیقه از خانه خارج شد ۲۰ دقیقه پیاده روی کرد تا به خانه ی اداره رسید. رضا چه ساعتی به خانه اداره رسیده است؟ ( با رسم ساعت )



جاهای خالی را پر کنید و تساوی آن را بنویسید ؟

- ..... ۸دسته ده تایی منهای .....دسته ده تایی می شود ۳دسته ده تایی
- ..... ۴دسته ده تایی به اضافه ی .....دسته ده تایی می شود ۹دسته ده تایی
- ..... ۷دسته ده تایی منهای ۵دسته ده تایی می شود .....دسته ده تایی





نام و نام خانوادگی: \_\_\_\_\_ تاریخ: \_\_\_\_\_ موضوع: \_\_\_\_\_ هدف: \_\_\_\_\_

۲۱ - ۴۵ - ۳۹ - ۵۳

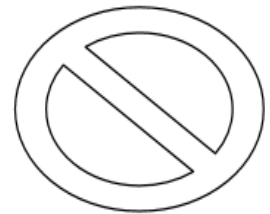
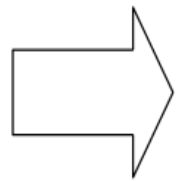
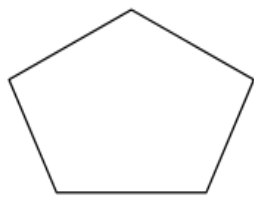
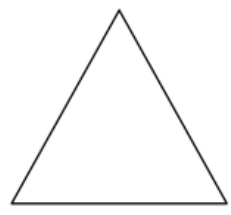
اعداد زیر را روی محور مشخص کنید و به سوالات پاسخ بدهید .



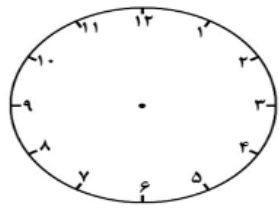
۵۳ به ۵۰ نزدیک تر است یا ۶۰؟ .....

۴۵ به ۴۰ نزدیک تر است یا ۵۰؟ .....

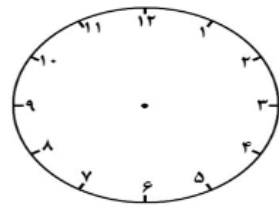
خط تقارن شکل های زیر را رسم کنید؟



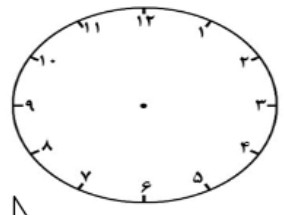
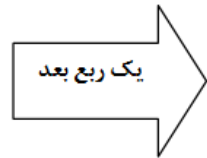
ساعت ها را نشان دهید؟



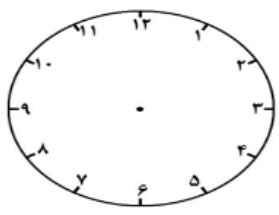
..... : .....  
نیم ساعت قبل



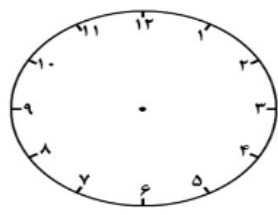
۸:۲۰



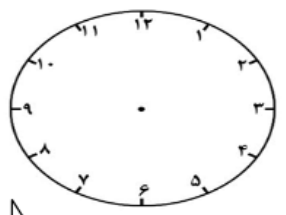
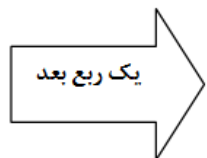
..... : .....



..... : .....  
نیم ساعت قبل



۵:۴۰



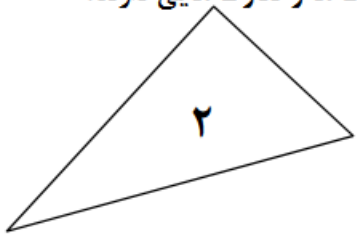
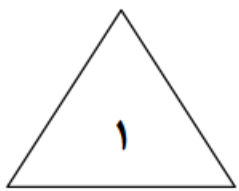
..... : .....





نام و نام خانوادگی: \_\_\_\_\_  
 تاریخ: \_\_\_\_\_  
 موضوع: \_\_\_\_\_  
 هدف: \_\_\_\_\_

نام شکل را نوشته و بنویسید چه شباهت ها و تفاوت هایی دارند؟



نام شکل: .....

تفاوت: .....

.....

شباهت:

.....

علی امروز ۳۵ دقیقه بازی کرد و ۴۸ دقیقه درس خوانده . علی امروز روی هم چند دقیقه فعالیت انجام داده است ؟

۳۳- عددهای زیر را در جدول ارزش مکانی قرار بده و به رقم و حروف بنویس ؟

۴ دسته ی صدتایی ، ۵ دسته ی ده تایی ، ۷ تا یکی



به رقم: .....

به حروف: .....

۹ دسته ی صدتایی ، ۶ دسته ی ده تایی


به رقم: .....

به حروف: .....





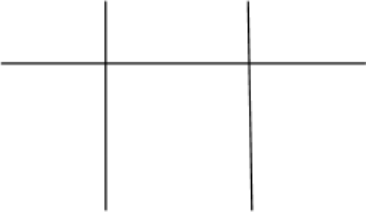
نام و نام خانوادگی

تاریخ

موضوع:

هدف:

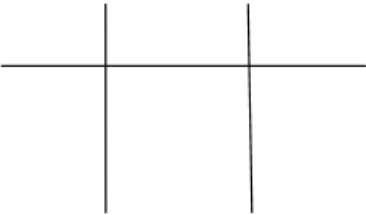
۳ دسته ی صدتایی ، ۲ تا یکی



به رقم : .....

به حروف : .....

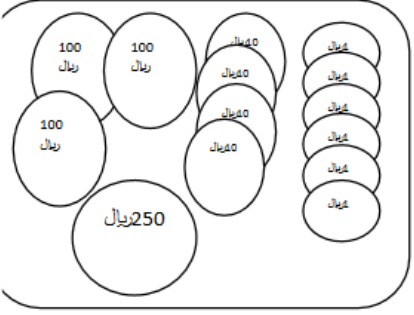
۶ دسته ی صدتایی ، ۳ دسته ی ده تایی ، ۵ تا یکی



به رقم : .....

به حروف : .....

ارزش سکه ی هر خانه را بنویس ؟



ریال .....

سکه ی ۱۰۰ ریالی .....

سکه ی ۱۰ ریالی .....

سکه ی ۱ ریالی .....

اگر سه سکه ی ۱۰۰ ریالی به سکه هایت اضافه کنی چند ریال می شود ؟

ریال .....

سکه ی ۱۰۰ ریالی .....

سکه ی ۱۰ ریالی .....

سکه ی ۱ ریالی .....

اگر ده سکه ی ۱۰ ریالی به سکه هایت اضافه کنی چند ریال می شود ؟

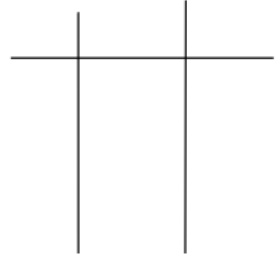
ریال .....





نام و نام خانوادگی: \_\_\_\_\_ تاریخ: \_\_\_\_\_ موضوع: \_\_\_\_\_ هدف: \_\_\_\_\_

۹ ۷ ۲



با کارت های زیر ، تمام عددهای سه رقمی که می توانید بسازید بنویسید ؟

.....

با توجه به عدد هایی که نوشته اید به سوالات پاسخ دهید ؟

الف ) بزرگترین و کوچکترین عدد کدام است؟ به رقم و حروف بنویسید ؟

ب ) اعداد سه رقمی که مجموع یکان و دهگان آن برابر با صدگان باشد ، بنویسید .

پ ) اعداد سه رقمی بنویسید که رقم صدگان کمتر از یکان آن باشد .

ث ) عدد سه رقمی بنویسید که رقم دهگان کمتر از رقم یکان آن و رقم صدگان بیشتر از یکان آن باشد ؟

جمله ها را با اعداد یا کلمات مناسب کامل کنید .

الف ) ۳۵۰ ریال برابر است با ..... سکه ۱۰۰ ریالی و ..... سکه ۵۰ ریالی .

ب ) ۸۲۳ برابر است با ۳ ..... و ۲ ده تایی و ۸ ..... .


پ ) ۴۷۰ ریال برابر است با ۴۷ سکه ۱۰ ریالی ..... ریالی .

ت) ..... برابر است با ۶ صدتایی و ۲ ده تایی .

ث ) چهارصد و هفتاد و سه برابر است با ..... ده تایی و ..... یکی و ..... صدتایی .

ج ) یک ساعت ..... دقیقه است .

چ ) یک ساعت ..... دقیقه است .





نام و نام خانوادگی

تاریخ

موضوع:

هدف:

گسترده یا باز شده ی اعداد زیر را بنویسید؟ ( اعداد را به حروف بنویسید )

به حروف

۸۵۷ = .....

.....

۹۶۳ = .....

.....

۱۰۷ = .....

.....

۲۴۹ = .....

.....

۳۲۱ = .....

.....

۷۶۰ = .....

.....

۴۱- دهگان عددی ۹ ، صدگان آن ۵+۳ و یکانش ۴ تا از صدگانش کمتر است . عدد را به رقم و حروف نوشته و در جدول ارزش مکانی قرار دهید .

عدد های سمت راست را با حذف یکان و عدد های سمت چپ را با حذف دهگان به طور تقریبی بنویسید

۷۲۴ → .....

۶۲۹ → .....

۱۴۵ → .....

۵۰۴ → .....

۳۵۶ → .....

۱۹۸ → .....

۶۸۹ → .....

۴۲۰ → .....





موضوع:

تاریخ

نام و نام خانوادگی

هدف:

علی ۶۷۸ سکه داشت . او ۲۴۵ سکه را به برادرش بخشید . حالا علی چند سکه دارد ؟ ( فرآیندی )

علی ۷ سکه ی ۱۰۰ ریالی و ۸ سکه ی ۱۰ ریالی و دو سکه ی ۲ ریالی و ۴ سکه ی ۱ ریالی در کیف خود دارد . او چند ریال پول دارد ؟

پول های علی با حذف رقم یکان و دهگان چقدر است ؟

از ۹۵۸ کتاب کتابخانه ، ۳۲۴ کتاب علمی و بقیه داستانی هستند . این کتابخانه چند کتاب داستان دارد ؟

یک کتاب ۳۵۹ صفحه داشت . علی هفته ی اول ۸۵ صفحه و هفته ی دوم ۱۱۰ صفحه از آن کتاب را خواند . چند صفحه از کتاب برای هفته ی سوم باقی مانده است ؟

۷ ماشین و موتور در کوچه ای پارک کرده اند ۲۰ چرخ در آن جا دیده می شود . چند ماشین و موتور در این کوچه است ؟





نام و نام خانوادگی

تاریخ

موضوع:

هدف:

جمع و تفریق های زیر را به صورت فرآیندی انجام دهید ؟

$$\begin{array}{r} 856 \\ - 234 \\ \hline \end{array}$$

$$\begin{array}{r} 732 \\ + 241 \\ \hline \end{array}$$

$$\begin{array}{r} 687 \\ - 431 \\ \hline \end{array}$$

$$\begin{array}{r} 721 \\ + 279 \\ \hline \end{array}$$

حاصل جمع های زیر را با روش تکنیکی دست آورید .

$$\begin{array}{r} 173 \\ + 694 \\ \hline \end{array}$$

$$\begin{array}{r} 555 \\ - 266 \\ \hline \end{array}$$

$$\begin{array}{r} 520 \\ + 390 \\ \hline \end{array}$$

$$\begin{array}{r} 619 \\ - 179 \\ \hline \end{array}$$

جای خالی را کامل کن

۱۰۰ میلی متر ..... سانتی متر است .

۶۰ سانتی متر ..... میلی متر است .

۶۳ میلی متر ..... سانتی متر و ..... میلی متر است .

یک سانتی متر ..... میلی متر است .

۷ سانتی متر ..... میلی متر است .

۱۵۳ میلی متر ..... سانتی متر و ..... میلی متر است .

۵ سانتی متر و ۹ میلی متر ..... میلی متر است .

۲ سانتی متر ..... میلی متر است .

۱۴ سانتی متر و ۷ میلی متر ..... میلی متر است .

۹۷ میلی متر ..... سانتی متر و ..... میلی متر است .

