

بہ نام خدا


مرور

نیمسال اول و دوم

ریاضی دوم دبستان

آموزگار: منیرہ صدیقی

گوشه‌ها را رنگ کن و تعداد ضلع های هر شکل را داخل آن بنویس.



همه ی اعداد دو رقمی را بنویس که رقم های یکان آن ۰ و ۱ و رقم دهگان آن ۳ و ۵ باشد.

تقریب بزن.

عدد ۲۱ به ۲۰ نزدیکتر است یا به ۳۰ ؟

عدد ۲۸۸ به ۲۸۰ نزدیکتر است یا به ۲۹۰ ؟

جمع و تفریق‌های زیر را به روش تکنیکی (انتقالی) انجام بده.

$$\begin{array}{r} 305 \\ + 205 \\ \hline \end{array}$$

$$\begin{array}{r} 500 \\ + 470 \\ \hline \end{array}$$

$$\begin{array}{r} 235 \\ - 128 \\ \hline \end{array}$$

$$\begin{array}{r} 851 \\ - 132 \\ \hline \end{array}$$

$$\begin{array}{r} 900 \\ - 154 \\ \hline \end{array}$$

$$\begin{array}{r} 670 \\ - 173 \\ \hline \end{array}$$

$$\begin{array}{r} 402 \\ - 213 \\ \hline \end{array}$$









$$\begin{array}{r} 285 \\ + 119 \\ \hline \end{array}$$

الگوهای زیر را ادامه بده.

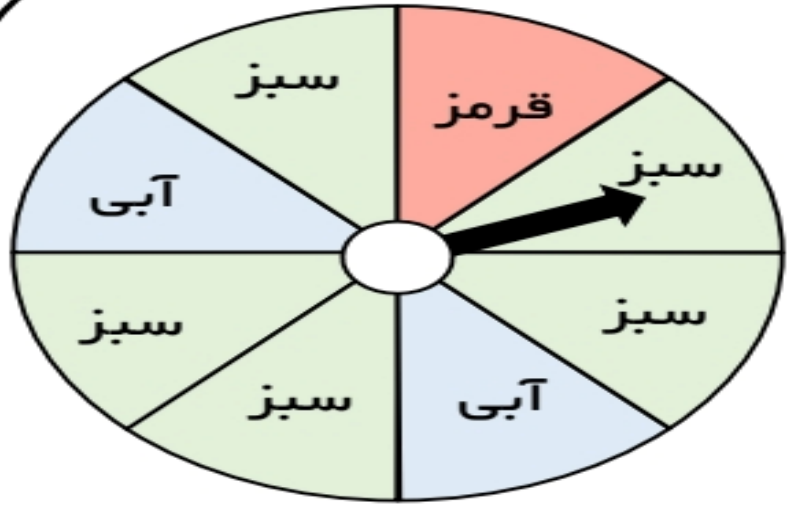
۹۵۰ ، ۹۰۰ ، ۸۵۰ ، ، ، ، ، ، ، ،

۳۱۰ ، ۳۲۰ ، ۳۳۰ ، ، ، ، ، ، ، ،

۲۲۰ ، ۲۴۰ ، ۲۶۰ ، ، ، ، ، ، ، ،



به چرخنده مقابل دقت کن.



(الف) قسمت از قسمت شکل، آبی است.

(ب) قسمت از قسمت شکل، سبز است.

(ج) قسمت از قسمت شکل، قرمز است.

(د) اگر چرخنده را بچرخانیم، احتمال ایستادن عقربه روی کدام رنگ بیشتر است؟

اسم شکل‌های زیر را بنویس. سپس اندازه‌های مشخص شده روی هر کدام را به میلی‌متر

بنویس.


۳ سانتی‌متر



۵ سانتی‌متر

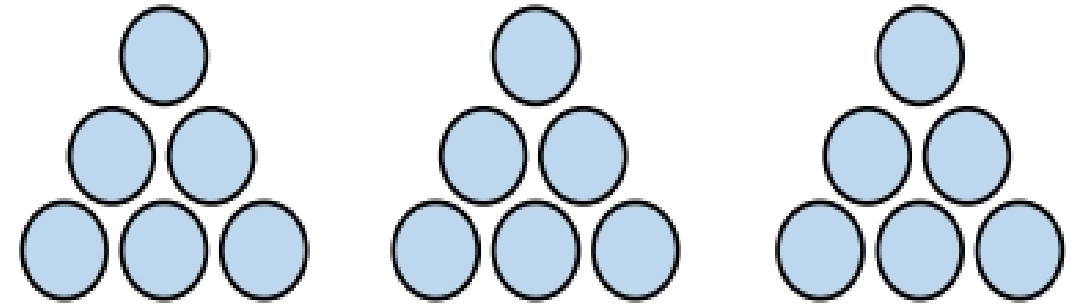
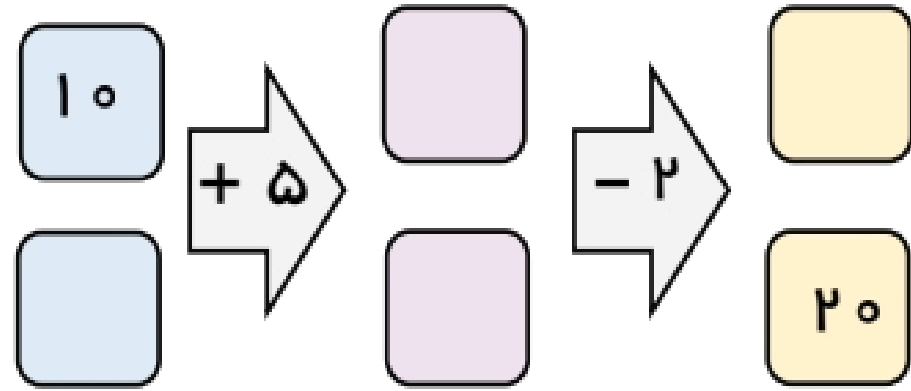


۶ سانتی‌متر

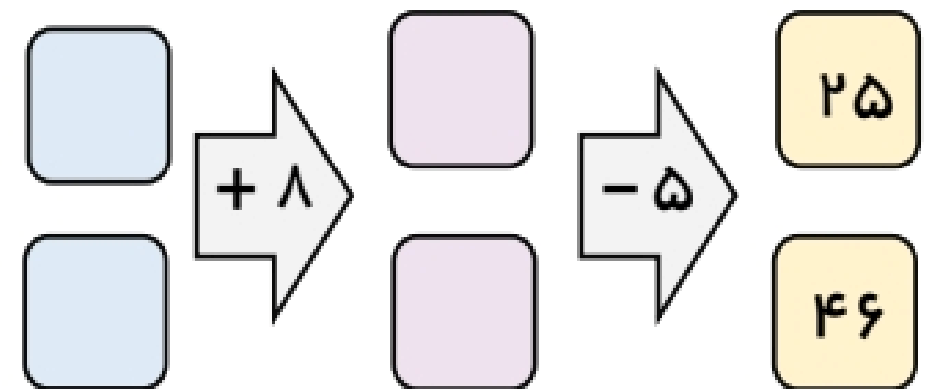
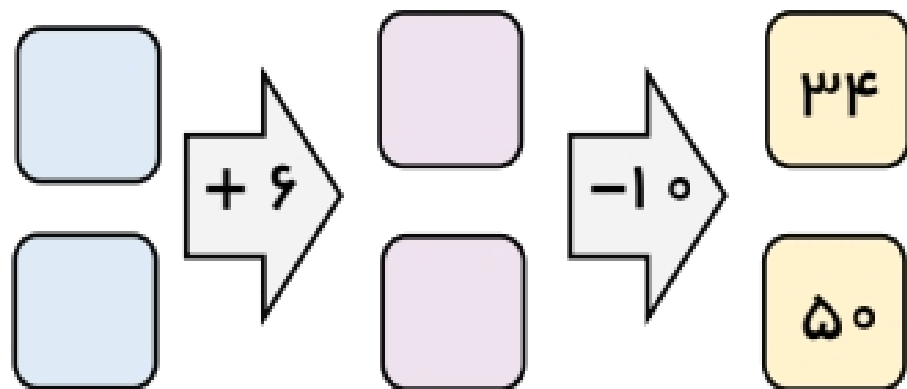


۲ سانتی‌متر

جاهای خالی را کامل کن.



..... دسته‌ی تایی می‌شود.....




برای این جمله‌ها، شکل مناسب بکش.

۲ قسمت از ۳ قسمت مساوی رنگ سبز شده است.

۴ قسمت از ۵ قسمت مساوی رنگ آبی شده است.

تفاوت و شباهت شکل‌های زیر را بنویس.



تفاوت:

شباهت:

باز شده‌ی هر عدد را بنویس. (گسترده نویسی)

$607 = \dots\dots\dots$

$971 = \dots\dots\dots$

$518 = \dots\dots\dots$

$340 = \dots\dots\dots$

عددی که هر قسمت نشان می‌دهد، در جدول ارزش مکانی قرار بده و با عدد و حروف بنویس.

صدگان	دهگان	یکان
.....

۲ دسته صدتایی ۹ دسته ده‌تایی و ۰ یکی.

به عدد:

حروف:

صدگان	دهگان	یکان
.....



به عدد:

حروف:

حاصل جمع و تفریق‌های زیر را به روش فرایندی و انتقالی (تکنیکی) به دست آور .



انتقالی

$$\begin{array}{r} 301 \\ - 132 \\ \hline \end{array}$$

$$\begin{array}{r} 648 \\ + 158 \\ \hline \end{array}$$

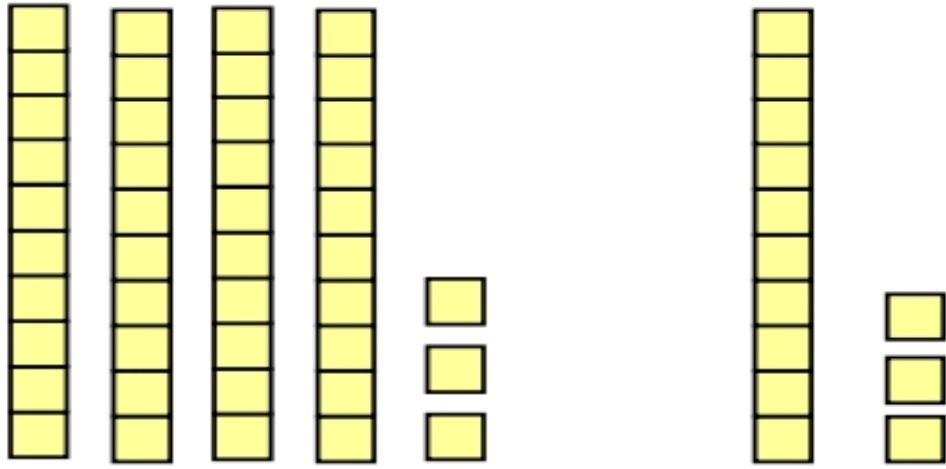


فرایندی

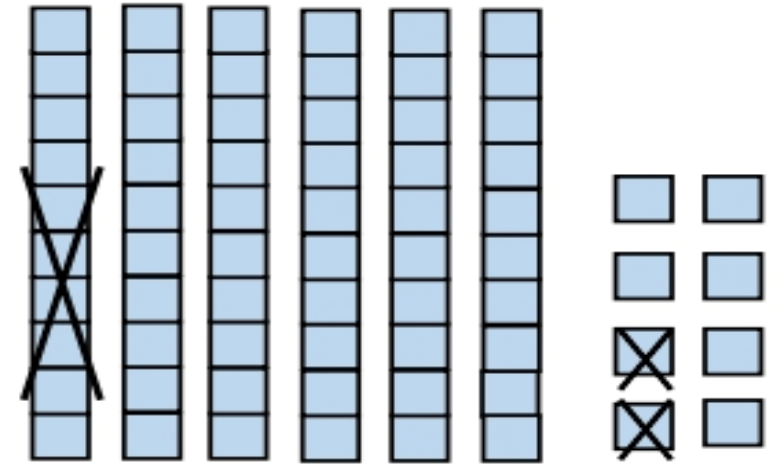
$$\begin{array}{r} 237 \\ - 125 \\ \hline \end{array}$$

$$\begin{array}{r} 213 \\ + 521 \\ \hline \end{array}$$

با توجه به شکل‌ها، حاصل جمع و تفریق‌ها را پیدا کن.

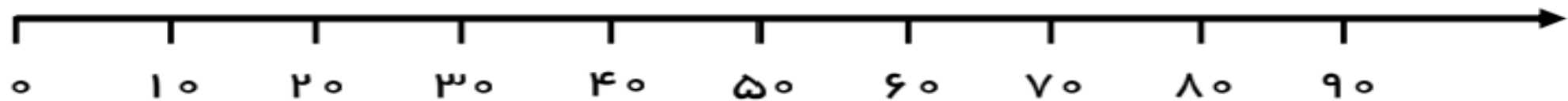


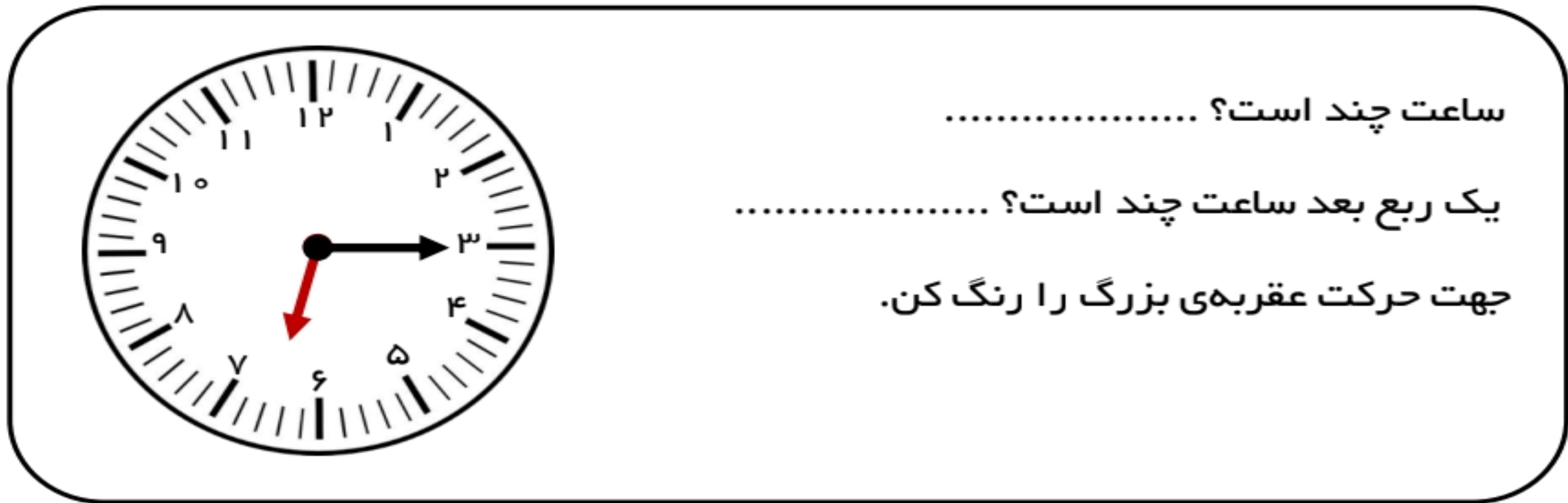
$$\dots + \dots = \dots$$



$$\dots - \dots = \dots$$

عددهای ۳۲ و ۵۸ را به طور تقریبی روی محور نشان بده.





ساعت چند است؟

یک ربع بعد ساعت چند است؟

جهت حرکت عقربه‌ی بزرگ را رنگ کن.

جدول‌های زیر را کامل کن.

+	۲	۴	۶	۸
۱۰				
۲۱				

-	۱	۳	۵	۷
۲۰				
۳۲				



قهرمان های کوچولو
همیشه پیروز و موفق باشید.