



موضوع:

تاریخ:

نام و نام خانوادگی:

هدف:

۱ من چه عددی هستم که یکانم بزرگ ترین عدد یک رقمی و دهگانم کوچک ترین عدد یک رقمی و صدگانم ۳ تا از یکانم کمتر است.

ص	د	ی

من را به حروف و رقم بنویس.

رقم : حروف:

۲ با کارت های ۹ ۳ ۶ عددهای سه رقمی بساز که رقم یکانش بیشتر از رقم دهگانش و رقم دهگانش کمتر از رقم صدگانش باشد.

.....

۳ الگوها را ادامه بده.

۱۱۴ - ۱۲۴ - ۱۳۴ - - - - - -

۴۸۰ - ۴۸۵ - ۴۹۰ - - - - - -

۱ - ۲ - ۵ - ۱۰ - -

۴ ساعت قبل و بعد را نشان بده.



..... :



..... :




..... :

یک ربع قبل

نیم ساعت بعد

۵ تفاوت و شباهت شکل های زیر را بنویس.



تفاوت:

.....

شباهت:



نام و نام خانوادگی

تاریخ

موضوع:

هدف:

علامت مناسب <=> بگذار.

۱۰ سانتی متر ۹۶ میلی متر سی دقیقه یک ربع
 $۷۵ + ۵۰ + ۵۰ + ۱۰۰ + ۱۰۰ + ۵۲۰$ $۵۰۰ + ۲۰ + ۱۰۰ + ۲۰۰ + ۵۰ + ۵$

جمع و تفریق های زیر را به روش خواسته شده حل کن.

فرایندی	انتقالی	تقریبی
$\begin{array}{r} ۲۳۸ \\ + ۴۵۶ \\ \hline \end{array}$ $\begin{array}{r} ۶۷۳ \\ - ۳۵۴ \\ \hline \end{array}$	$\begin{array}{r} ۶۸۳ \\ + ۱۶۸ \\ \hline \end{array}$ $\begin{array}{r} ۶۰۳ \\ - ۴۳۴ \\ \hline \end{array}$	$۸۳ \rightarrow \dots$ $۴۶ \rightarrow \dots$ $-۳۷ \rightarrow \dots$ $+۱۲ \rightarrow \dots$

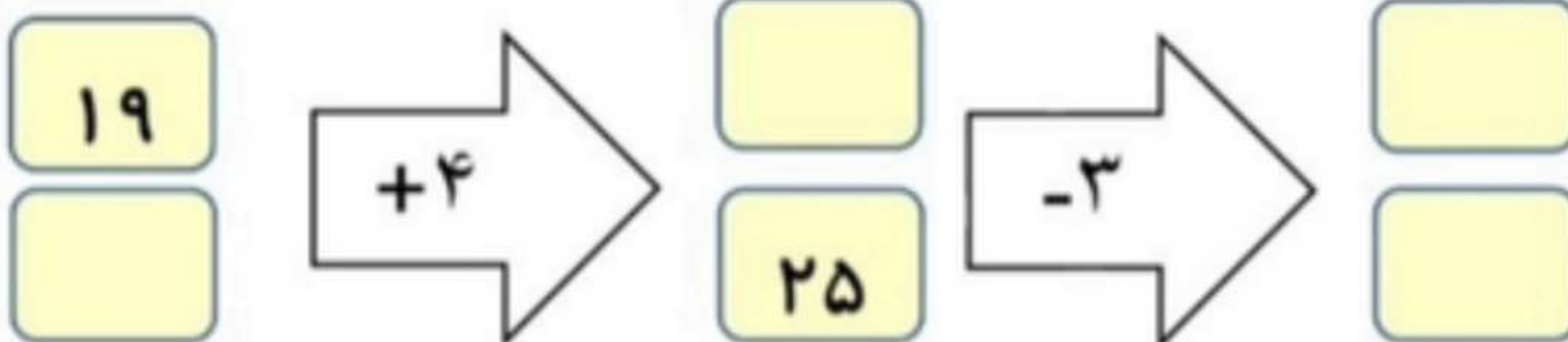
به اعداد زیر دقت کن و اعداد فرد و زوج را در جدول در جای مناسب قرار بده.

$۲۲۳ - ۵۰ - ۲۹ - ۷۲ - ۵ - ۴۸ - ۳۶ - ۴ - ۳۰۵ - ۲۷ - ۱$


زوج

فرد

کامل کن.



باتوجه به شکل جملات را کامل کن.



.... تا تایی می شود تا
 تا تایی می شود تا

..... قسمت از قسمت صفحه رنگ نشده است.

مسئله

کتاب داستان من ۲۹۶ صفحه دارد.. اگر من شنبه ۹۸ صفحه و امروز ۷۶ صفحه از کتابم را بخوانم. چند صفحه ی دیگر مانده است که نخوانده ام؟



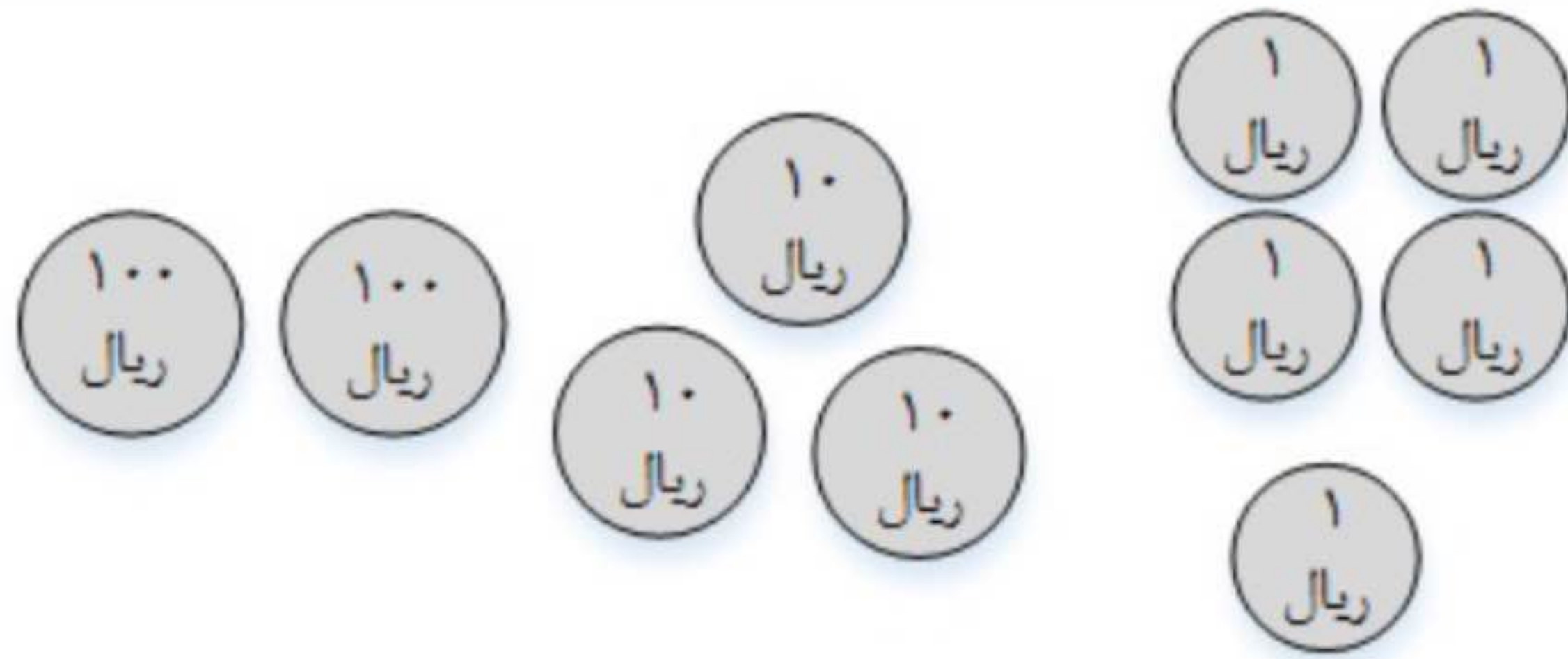
موضوع:

تاریخ

نام و نام خانوادگی

هدف:

۱- دخترم سکه ها را بشمار و در جدول قرار بده.



یکان	دهگان	صدگان

۲- عزیزم جاهای خالی را کامل کن.

۴۵ میلی متر برابر _____ سانتی متر و _____ میلی متر است.

۶۵۳ میلی متر برابر _____ سانتی متر و _____ میلی متر است.

عدد ۳۷۶ به عدد _____ نزدیک تر است.

عددی که یکان آن ۶ و رقم دهگان آن ۳ تا بیش تر از یکانش باشد، عدد _____ است.

اگر به عدد ۴۱۵، یک بسته صدتایی اضافه شود، حاصل آن می شود _____.

پ) در شمارش ده تا ده تا عدد بعد از ۷۹۰ می شود _____.



ساعت و دقیقه است.

۳- دخترم ساعت چند است؟

یک ربع بعد ساعت چند است؟

۴- زهرا ۷ سکه ۱۰۰ ریالی و ۱۲ سکه ۱۰ ریالی و ۳ یک ریالی دارد، حساب کنید

او چند ریال دارد؟



موضوع:

تاریخ

نام و نام خانوادگی

هدف:

عددهای زیر را با هم مقایسه کنید و علامت لازم را بگذارید.

$329 \square 318$

$209 \square 290$

$300 + 2 \square 302$

$718 \square 728$

تفاوت و شباهت این دو شکل را بنویس.




شباهت:

تفاوت:


الگوی عددی را ادامه بده.

1-4-9-16- - - -

با توجه به شکل کامل کن.



..... دسته ی تایی



..... دسته ی تایی

جمع و تفریق را از راه طولانی (گسترده نویسی انجام بده). برای یکی از آنها شکل بکش.

$$\begin{array}{r} 3 \ 6 \ 4 \\ + 1 \ 2 \ 3 \\ \hline \end{array}$$

$$\begin{array}{r} 8 \ 4 \ 9 \\ - 2 \ 3 \ 6 \\ \hline \end{array}$$

حاصل جمع و تفریق را از راه تکنیکی به دست آورید.

$$\begin{array}{r} 4 \ 9 \ 6 \\ + 1 \ 8 \ 5 \\ \hline \end{array}$$

$$\begin{array}{r} 8 \ 0 \ 0 \\ - 1 \ 2 \ 6 \\ \hline \end{array}$$

قد مهران ۱۶۲ سانتی متر است خواهرش ۱۲ سانتی متر از او کوتاه تر است. قد خواهرش چند

سانتی متر است؟

نام و نام خانوادگی

تاریخ

موضوع:

هدف:

۷) کامل کنید

۸۰ میلی متر = سانتی متر است .

۲۳۴ میلی متر = سانتی متر و میلی متر است .

۸) جاهای خالی را کامل کنید .




..... دسته ی تایی می شود

۹) مریم برای خرید ۲ عدد کره و یک ماست ، ۷۸۰ ریال به مغازه دار داد . اگر قیمت هر کره ۳۰۰ ریال باشد . قیمت ماست چند ریال است ؟

۱۰) در مغازه ی میوه فروشی ، میوه های زیر وجود دارد .

نام میوه	سیب	زرد آلو	شلیل	موز
تعداد	۳۸	۴۷	۲۲	۱۲
تعداد تقریبی				

جدول را کامل کنید و بعد نمودار تصویری آن را بکشید . برای هر ۱۰ میوه یک  بکشید .