



نام و نام خانوادگی: _____ تاریخ: _____ موضوع: _____ هدف: _____

بزرگ‌ترین عدد زوج سه رقمی کدام است؟

- الف) ۹۹۹ ب) ۹۹۸ ج) ۸۹۹

۷۶۹

با توجه به عدد، شکل را کامل کن و عدد را به حروف بنویس.

یک‌تایی	ده‌تایی	صدتایی

الگوی عددی زیر را ادامه بده.

۳۲۵ - ۳۴۰ - ۳۴۵ - - - -

۲۵۸ - ۲۵۶ - ۲۵۴ - - - -

۵, ۳, ۶

با این سه کارت، عددی سه رقمی بنویس، که رقم یکان آن از همه بیشتر باشد.

از دو طرف عبارت‌های زیر، مقدار مساوی را خط بزن و مقایسه کن.

$400 + 200 + 20 + 10 + 6 + 1 + 1 = \bigcirc 200 + 200 + 100 + 5 + 20 + 1$

ساعت چند است؟



اگر عقربه بزرگ، نیم ساعت جلو برود، ساعت چند می‌شود؟

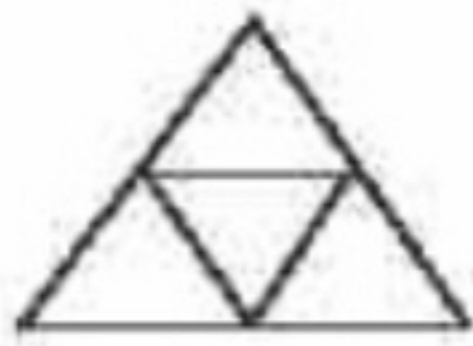


موضوع:

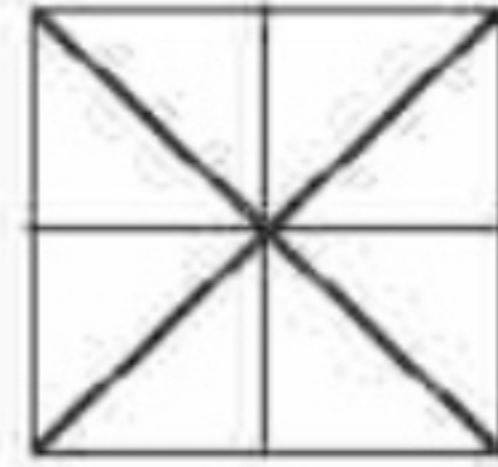
تاریخ

نام و نام خانوادگی

به اندازه کسر نوشته شده، از شکل‌ها رنگ کن.

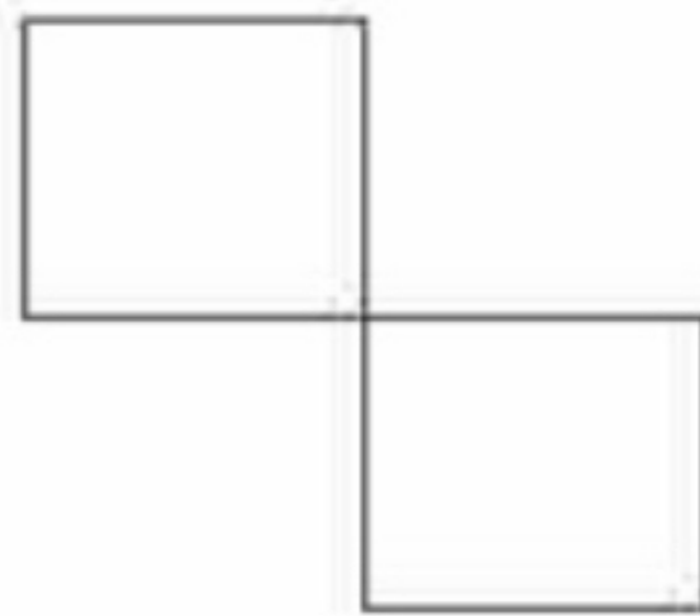


۱ قسمت از ۴ قسمت مساوی



۳ قسمت از ۸ قسمت مساوی

با رسم برش‌های لازم، شکل‌ها را به قسمت‌های خواسته شده تقسیم کن.



۴ قسمت مساوی



۲ قسمت مساوی



۳ قسمت مساوی

حاصل جمع و تفریق‌های زیر را بنویس.


$$\begin{array}{r} 492 \\ + 268 \\ \hline \end{array}$$

$$\begin{array}{r} 607 \\ + 258 \\ \hline \end{array}$$

حاصل جمع و تفریق‌های زیر را به روش فرآیندی (گسترده نویسی) به دست آورید؟

$$\begin{array}{r} 457 \\ - 225 \\ \hline \\ - \\ \hline \\ - \\ \hline \end{array}$$

$$\begin{array}{r} 268 \\ + 121 \\ \hline \\ + \\ \hline \\ + \\ \hline \end{array}$$

تعداد درختان سیب، هلو و گیلاس یک باغ در جدول زیر به صورت تقریبی آمده است. اگر هر ۱۰ درخت را با  نشان دهیم، جدول را کامل کن.

نام درخت	تعداد درخت	نمودار تصویری
سیب	۴۰	
هلو	۲۰	
گیلاس	۵۵	

در داخل کیسه‌ای ۷ مهره سفید و ۷ مهره نارنجی انداختیم. اگر از داخل کیسه، بدون نگاه کردن، یک مهره بیرون بیاوریم، شانس کدام رنگ بیشتر است؟ چرا؟

پروانه ۷۰۰ ریال داشت. یک دفترچه به قیمت ۱۴۶ ریال و یک مداد به قیمت ۱۰۵ ریال خرید.

الف) او چند ریال خرج کرده است؟

ب) چند ریال برایش باقی مانده است؟