



نام و نام خانوادگی

تاریخ

موضوع:

هدف:

(۱) پاسخ درست را با × مشخص کن

الف) حاصل عبارت زیر کدام گزینه است؟

$200 + 700 = \square$

- ۵۰۰ (۱)     ۸۰۰ (۲)     ۹۰۰ (۳)     ۷۰۰ (۴)

ب) عددی دو رقمی هستم که اگر با ۱۷ جمع شوم، ۵۳ می‌شوم.

- ۳۷ (۱)     ۳۶ (۲)     ۴۶ (۳)     ۵۶ (۴)

ج) از عددی یک بار ۲۰ تا و بار دیگر ۳۰ تا کم کردیم و ۱۱ تا باقی ماند، خود عدد چند است؟

- ۴۱ (۱)     ۶۱ (۲)     ۶۵ (۳)     ۷۵ (۴)

د) در کیسه‌ای ۵ مهره سفید و ۴ مهره قرمز و ۳ مهره آبی است. اگر با چشم بسته یک مهره در بیاوریم، احتمال بیرون آمدن کدام مهره بیشتر است؟

- (۱) مهره قرمز و سفید     (۲) مهره سفید     (۳) مهره آبی

(۲) گلم، در جای خالی، کلمه‌ی مناسب بنویس.

الف) یک ۴۰ ضلعی ..... گوشه دارد.

ب) ۶۱ سانتی‌متر ..... میلی‌متر است.

ج) ۱۸۰ سانتی‌متر ..... میلی‌متر است.

د) ربع ساعت بعد از ۶:۱۵، ..... است.

(۳) عزیزم در  $\square$  علامت  $< = >$  بگذار.

۳ سانتی‌متر  $\square$  ۳۰ میلی‌متر

هفتصد و هشتاد و هفت  $\square$  ۸۷۸

$300 + 100 + 50 + 10 + 5$   $\square$   $250 + 100 + 50 + 10$

(۴) با رقم و حروف بنویس.

$\square$  ۵۹۹

$\square$  ۶۸۷

$\square$  .....  
چهل و هفت

(۵) دلبندم، با توجه به عقربه‌ی ساعت، ۲۰ دقیقه‌ی قبل ساعت چند بوده است؟



\_\_\_\_\_

بازخورد:

\_\_\_\_\_

\_\_\_\_\_

\_\_\_\_\_





نام و نام خانوادگی

تاریخ

موضوع:

هدف:

۶) جمع و تفریق‌های زیر را انجام بده.

روش تقریبی حذف یکان و دهگان

روش تکنیکی


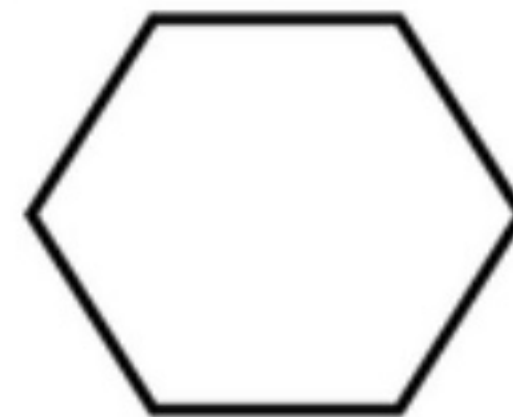
روش فرآیندی

$$\begin{array}{r} 634 \\ - 347 \\ \hline \end{array}$$


$$\begin{array}{r} 345 \\ + 234 \\ \hline \end{array}$$

$$\begin{array}{r} 633 \longrightarrow \dots\dots\dots \\ - 247 \longrightarrow - \dots\dots\dots \end{array}$$

۷) گلم، اعداد زوج را در شش ضلعی و اعداد فردی را در مربع بنویس



۸) با توجه به شکل‌ها، جمله‌های زیر را کامل کن.



..... قسمت از ..... قسمت مساوی رنگ شده است

..... دسته‌ی ..... تا می‌شود

۹) از روش حدس و آزمایش انجام بده.

$$\square - 25 = 20$$

$$48 + \square = 37$$

۱۰) مادر سارا در تولد او ۵ بشقاب برای مهمانان گذاشت؛ و در هر بشقاب ۳ شیرینی قرار داد او روی هم چند شیرینی در بشقاب‌ها قرار داده است؟ (با رسم شکل)

بازجورد:

Handwriting practice area with a dashed border and several horizontal lines.





نام و نام خانوادگی

تاریخ

موضوع:

هدف:

(۱۱) پدر آرش ۳۶ سال بود که آرش بدنیا آمد. اکنون آرش ۱۲ ساله است.

الف) اکنون پدر آرش چند سال دارد؟

ب) آرش چند سال دارد؟

ج) این دو روی هم چند سال دارند؟

(۱۲) در انتخابات شورای دانش آموزی رای‌ها به صورت زیر بود. آن‌ها را در جدول و روی نمودار نشان بده. (هر ۱۰ رای با یک نشان بده)

مریم ۵۷ رای

کوثر ۳۸ رای

زهرا ۲۷ رای

مینا ۱۷ رای

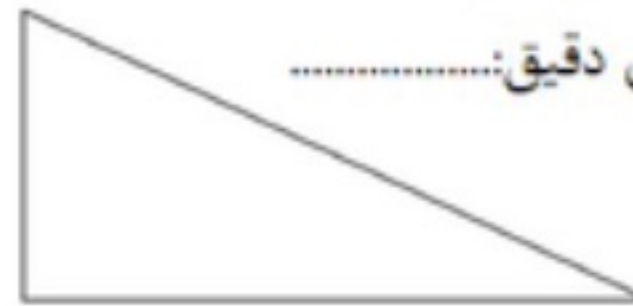
نام دانش آموزان	تعداد رای	تعداد تقریبی
مینا		
زهرا		
کوثر		
مریم		



(۱۳) اندازه‌ی ضلع‌های مثلث زیر را اول حدس بزن بعد با خطکش دقیق اندازه‌گیری کن.

حدس من: .....

اندازه‌ی دقیق: .....



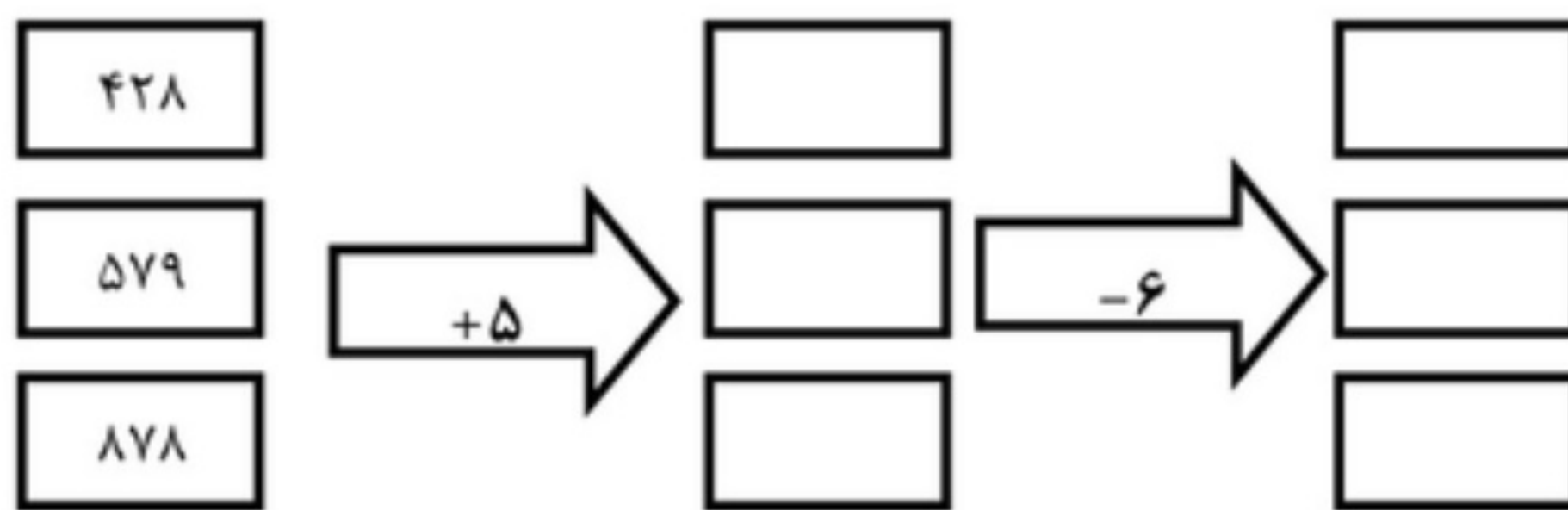
حدس من: .....

اندازه‌ی دقیق: .....

حدس من: .....

اندازه‌ی دقیق: .....

(۱۴) فرزندم، جاهای خالی را کامل کن.



موفق باشید

بازخورد:

\_\_\_\_\_

\_\_\_\_\_

\_\_\_\_\_

