

به نام خدا
مرور ریاضی دوم
ساعت - تقارن





هر صفحه ساعت از ۱۲
شماره تشکیل شده است



✓ فاصله ی هر دو عدد در ساعت ۵ است

✓ پس می توانیم بگوییم **الگوی آنها ۵**

تا ۵ تا است

✓ بین هر دو عدد ۵ قسمت وجود دارد که

به هر قسمت **۱ دقیقه** می گویند



✓ عقربه ی کوچک نشانگر

ساعت

✓ عقربه ی بزرگ نشانگر

دقیقه است



ساعت کامل به ساعتی
گفته می شود که عقربه ی
دقیقه روی ۱۲ باشد



اگر عقربه‌ی دقیقه روی عدد
۳ باشد ساعت یک ربع
گذشته است

۵:۰۸
هشت و ربع



اگر عقربه‌ی دقیقه روی
عدد ۶ باشد ساعت نیم
است

۱۱:۳۰
یازده و نیم



اگر عقربه ی دقیقه روی عدد ۹
باشد ساعت یک ربع مانده
است

۰۴:۴۵


یک ربع مانده به پنج















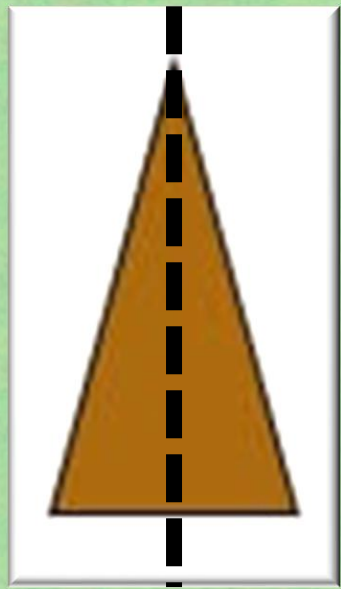
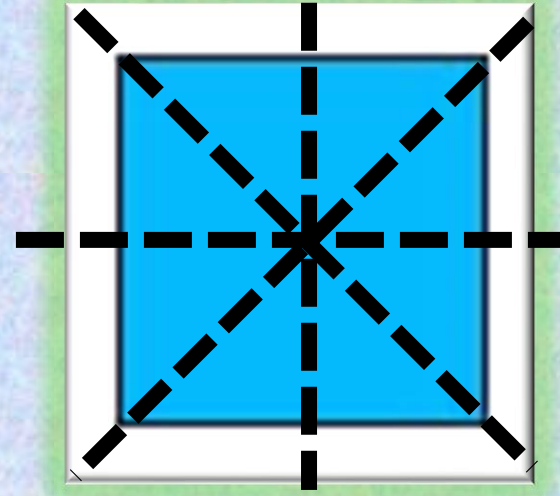
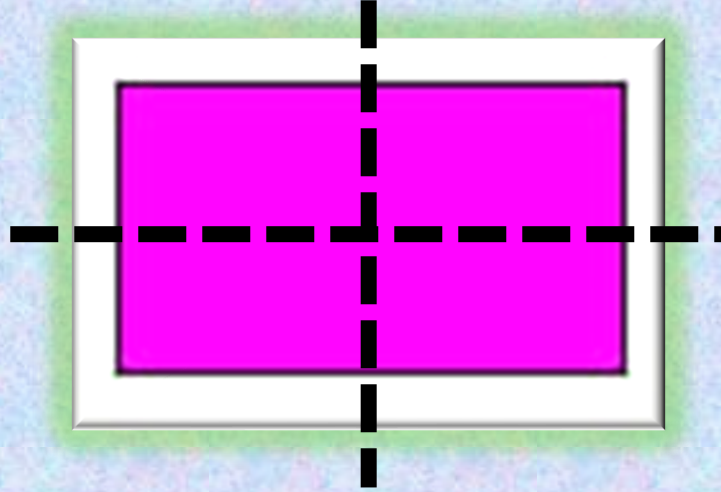
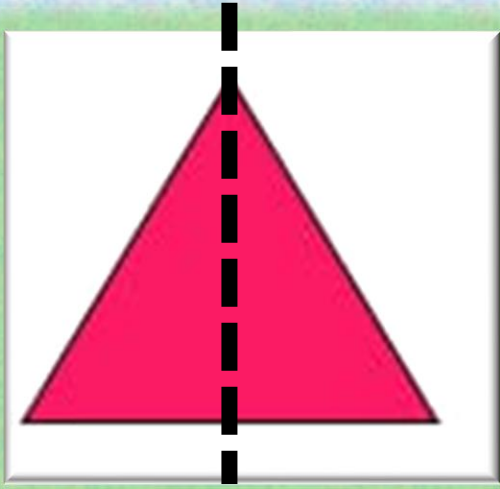


خط تقارن، به خطی گفته می شود که
شکل را به دو قسمت مساوی تقسیم
می کند









پی شمار