



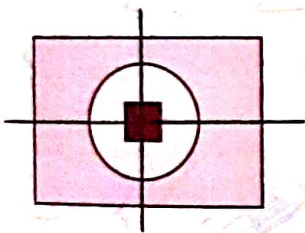
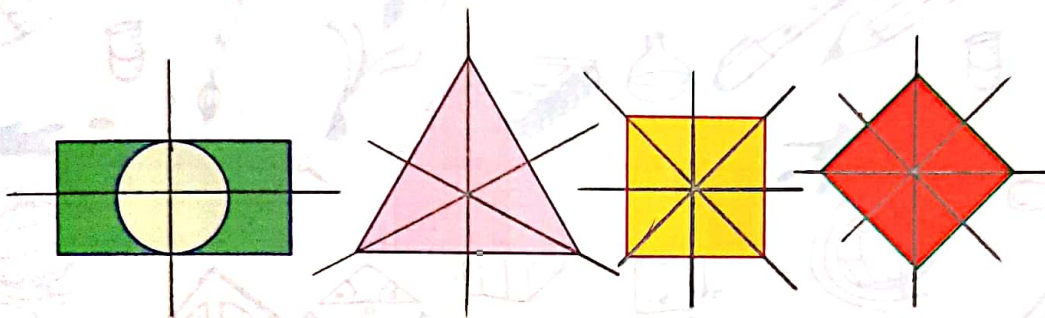
۱. کامل کن.

الف) مستطیل ۲ خط تقارن دارد.

ب) مربع ۴ خط تقارن دارد.

پ) دایره بی‌شمار خط تقارن دارد.

۲. خط یا خط‌های تقارن هر شکل را بکش.




۳. یک مربع، دایره و مستطیل به ترتیب در دل هم قرار دارند، چند خط تقارن می‌توانیم برای آن‌ها رسم کنیم؟

۲ خط تقارن

۴. خط تقارن شکل‌های زیر را رسم کرده و شکل را به صورت متقارن رنگ بزن. سپس مشخص کن هر شکل

از چند مربع کوچک ساخته شده است؟



۱۸ خط تقارن

۱۸ مربع

۴ خط تقارن

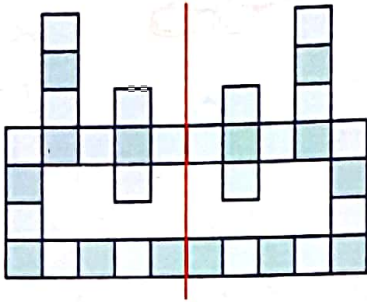
۴ مربع





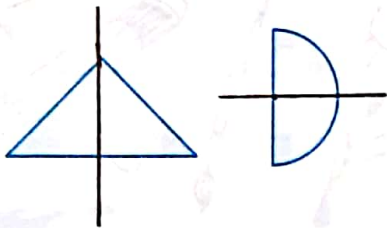
۵. با توجه به خط تقارن مربع‌های کوچک را بشمار و توضیح بده چگونه خط تقارن به شما در شمارش کمک می‌کند؟

سرس



$$17 + 17 = 34$$

۶. دو شکل، روی هم چند خط تقارن دارند؟



۳ (۱)

۲ (۲)


۱ (۳)

۴ (۴)


تمرین



۱. خط تقارن شکل مقابل را بکش.



۲. خط تقارن شکل را بکش و تعداد مثلث‌های کوچک را به دست بیاور.



$$19 + 19 = 38$$

