

نام و نام خانوانگی:

موضوع:



۱. یک مغازه دار کتابی را ۳۵۰ تومان می خرد و ۴۰۰ تومان می فروشد. پس از پر کردن جدول زیر به سوال ها پاسخ دهید:

کتاب	۱					
سود						

- اگر ۳ کتاب بفروشد چند تومان سود می کند؟
- چند کتاب بفروشد تا ۲۰۰ تومان سود کند؟
- چند کتاب بفروشد تا با آن، یک کتاب بخرد؟

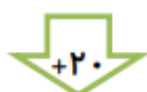
۲. الگو های زیر را ادامه دهید.

۳-۶-۹-۱۲-.....-.....-.....-.....-.....

۱-۴-۹-۱۶-.....-.....-.....-.....-.....

۴۵-۵۰-۵۵-.....-.....-.....-.....-.....

۳. جا های خالی را کامل کنید.



روز	۱					
دقیقه	۱۰					

۴. محمد کلاس سوم است . روز اول او ۱۰ دقیقه مطالعه می کند. اگر او هر روز ۵ دقیقه بیشتر مطالعه کند ، پس از چند روز می تواند ۴۵ دقیقه مطالعه کند.

۵. جمع های زیر را به صورت ذهنی انجام دهید.

$$۳+۵+۷+۴+۱ =$$

$$۴+۶+۳+۵ =$$

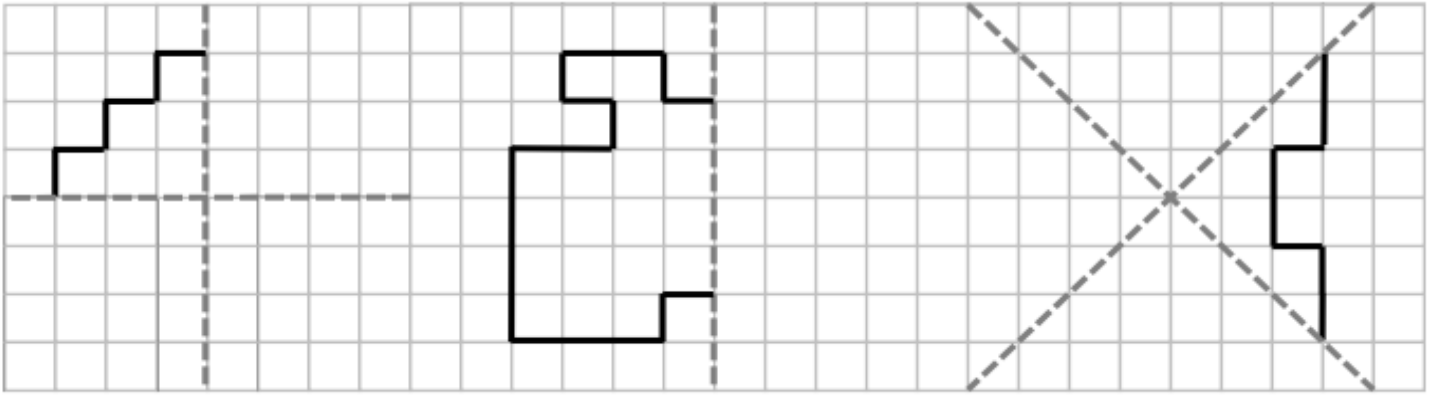
$$۲+۷+۴+۳ =$$

$$۸+۳+۵+۲+۷ =$$

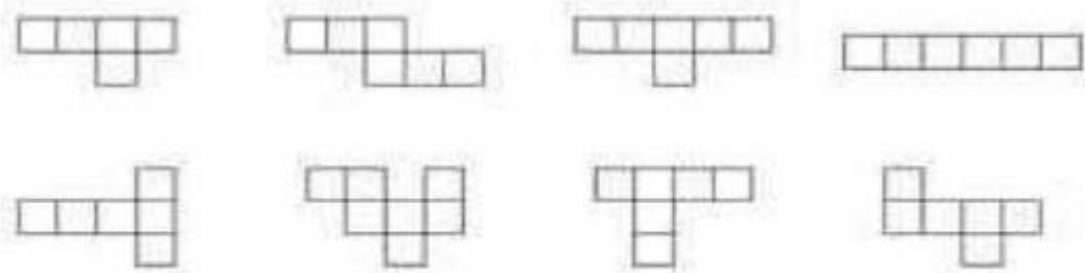
۶. جدول زیر را کامل کنید .

زمان	۱۶		۱۷:۱۵		۲۲ و ربع
بعد از ظهر		۲:۲۵		۶:۳۰	

۷. الگوی های متقارن را کامل کنید.






۸. کدام یک از شکل های زیر، باز شده ی یک مکعب است؟ رنگ بزن



۹. امروز پنجشنبه دوم آبان ماه است. تا آخر این ماه پنجشنبه ها چه روز هایی از ماه هستند؟

۱۰. به کمک الگوهای شمارش چند تا چند تا، شکل های زیر را دسته بندی کنید و برای هر کدام یک عبارت جمع بنویسید.



آفرین بر دقت شما ☆☆☆	تحویل به موقع آموزگار 😞 😐 😊	رعایت زیبایی و پاکیزگی 😞 😐 😊	پاسخ کامل به سوالات 😞 😐 😊
-------------------------	--------------------------------	---------------------------------	------------------------------