

پایه سوم



هندوانه   کره   زعفران   بنزین

۲- هر ماده را به واحد اندازه گیری مناسب آن وصل کنید.

مثقال   لیتر   گرم   کیلوگرم

۳- به مناسبت روز دانش آموز در مدرسه ی نرگس جشنواره ی غذا برگزار شد. نرگس به کمک مادرش آش رشته درست

کردند. جدول زیر مواد و جرم آن ها را نشان می دهد.

الف. کدام ماده بیشترین جرم را دارد؟

ب. کدام ماده کمترین جرم را دارد؟

پ. چند گرم سبزی برای این آش خریداری شده است؟

ت. چند کیلوگرم نخود خریداری شده است؟

جرم	ماده
۱ کیلو و نیم (..... گرم)	سبزی
۹۰۰ گرم	کنک
۱۰۰۰ گرم	نخود
۷۰۰ گرم	لوبیا چیتی
نیم کیلو (..... گرم)	پیاز
۲۰۰ گرم	سیر
۱۰۰۰ گرم	رشته

فارسی

۱- به آخر کلمه های داده شده ی، یا ای، اضافه کنید و در جدول بنویسید.

ی،	ای،
.....	.....
.....	.....

۲- معنای مثل هرچه کنی به خود کنی، کدام یک از جمله های زیر است؟

الف. هرکاری انجام بدهید برای دیگران نیز کرده اید.

ب. هرکار و عملی را که انجام می دهید نتیجه ی آن به خودتان برمی گردد.

پ. هر کاری کنید، دیگران هم همان کار را انجام می دهند.

اجتماعی

۱- در جاهای خالی کلمه ی مناسب بنویسید.

الف. با گذشت زمان ..... در خانواده به وجود می آید.

ب. وقتی فرزندان ..... می شوند و ازدواج می کنند، خانواده های جدید به وجود می آید.

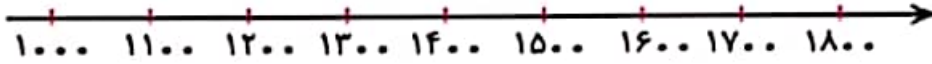
۲- برای چه کارهایی ممکن است بعضی از اعضای خانواده مدتی دور از خانواده زندگی کنند؟

.....  
.....

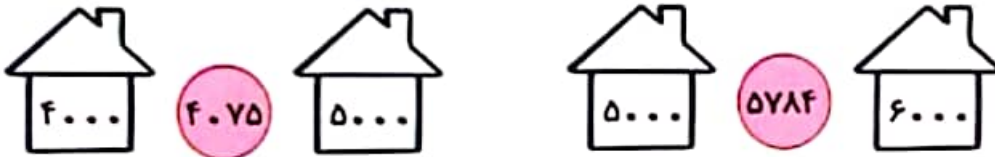


۱- عددهای زیر را به صورت تقریبی روی محور نشان دهید.


۱۰۴۰    ۱۲۳۰    ۱۶۷۴    ۱۵۲۰



۲- عدد داخل دایره به کدام خانه نزدیک تر است؟ آن خانه را رنگ کنید.



۳- باتوجه به توضیحات زیر، بادکنک‌ها را رنگ آمیزی کنید.



- کوچک ترین عدد چهار رقمی (سبز)

- از ۸۰۰۰ یکی کم تر (قرمز)

- هزارتا بیشتر از ۳۹۰۰ (زرد)

- بزرگ ترین عدد چهار رقمی غیر تکراری (نارنجی)

۴- در جاهای خالی عدد مناسب بنویسید.

الف. ۴۵۸ سانتی متر برابر ..... متر و ..... سانتی متر.

ب. ۶۷۰ سانتی متر برابر ..... متر و ..... سانتی متر.

ج. .... سانتی متر برابر ۱ متر و ۴۸ سانتی متر.

د. ۴۸۰۰ گرم یعنی ..... کیلوگرم و ..... گرم.

۵- در یک شهرستان روز دانش آموز، ۴۲۳۱ دانش آموز پسر و ۳۰۴۵ دانش آموز دختر در جشن شرکت داشتند. با حذف

رقم های یکان، دهگان و صدگان بگوید این شهر به طور تقریبی چند دانش آموز دارد؟

۱- با استفاده از کلمه های داده شده، جاهای خالی را پر کنید.

الف. جرم اجسام را با وسیله ای به نام ..... اندازه می گیرند.

ب. با تغییر حالت اجسام، ..... آن تغییر نمی کند.

پ. جرم یک جسم را با واحد ..... اندازه می گیرند.

