

نام و نام خانوادگی :

موضوع:



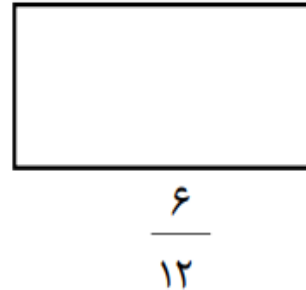
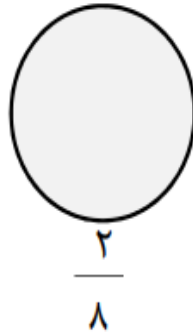
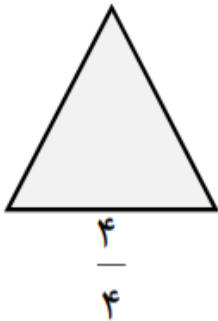
۱ حیاط مدرسه ای را به دو قسمت مساوی تقسیم کردند . نیمی از آن را به زمین فوتبال اختصاص دادند و نیم دیگر را به دو قسمت مساوی تقسیم کردند . یک قسمت آنرا به زمین والیبال اختصاص دادند و قسمت دیگر را برای دو میدانی . با رسم شکل به سوالات پاسخ دهید .

الف) چه کسری از زمین برای فوتبال هست ؟
ب) چه کسری از زمین برای دو میدانی هست ؟

۲ عدد مشخص شده روی محور چه کسری را نشان می دهد .

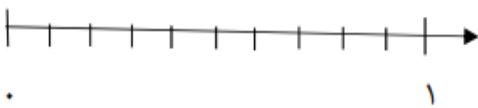


۳ کسرهای داده شده را با رنگ کردن روی شکل نشان بده .



۴ محمد نان لواش به شکل دایره خرید . آنرا به ۶ قسمت مساوی تقسیم کرد . ۲ قسمت را خودش خورد و باقی آنرا برای خواهرش گذاشت . محمد چه کسری از کل نان را خورد ؟
چه کسری از آنرا برای خواهرش گذاشت ؟

۵ یک پاکن ۹ میلیمتری چه کسری از یک سانتیمتر است ؟ روی محور نشان دهید و کسر مربوط به آن را بنویس .



موفق باشید

