

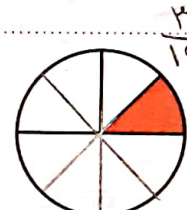
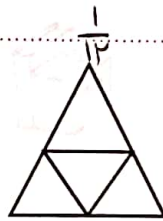
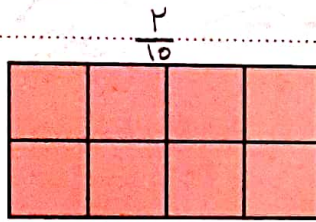
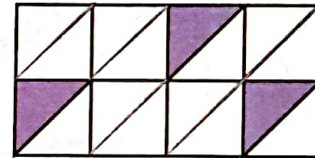

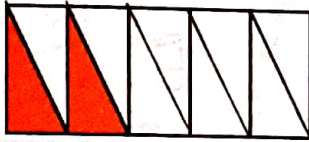
۱. چه کسری از این مستطیل رنگ شده و چه کسری رنگ نشده است؟

$\frac{6}{18}$  از مستطیل رنگ شده است.

$\frac{12}{18}$  از مستطیل رنگ نشده است.

۷۴

۲. چه کسری از شکل‌های زیر رنگ شده است؟





$\frac{8}{8}$

$\frac{1}{4}$

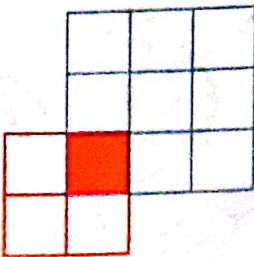
$\frac{1}{8}$

۳. کسرهای داده شده را روی شکل نشان بده.



$\frac{12}{15}$

$\frac{8}{16}$



۴. چه کسری از مربع آبی و چه کسری از مربع قرمز رنگ شده است؟

$\frac{1}{9}$  مربع آبی و  $\frac{1}{4}$  مربع قرمز رنگ شده است.

چه کسری از کل شکل رنگ نشده است؟

$\frac{11}{12}$



۵. زهره ۹ شکلات فندقی، ۶ شکلات بادامی، ۴ شکلات گردویی و ۸ شکلات شیری دارد.

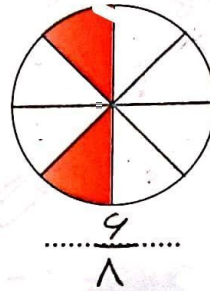
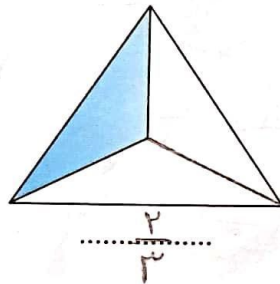
الف) ..... شکلات از ..... ۲۷ شکلات فندقی است.

$$9 + 6 + 4 + 8 = 27$$

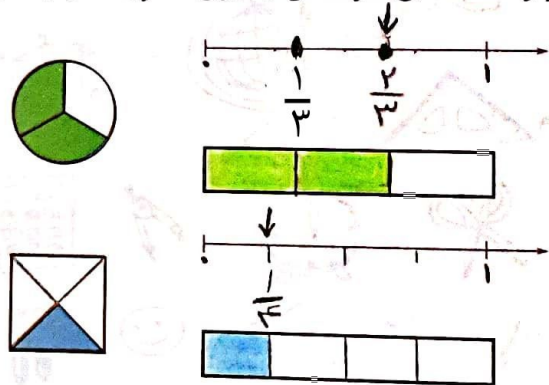
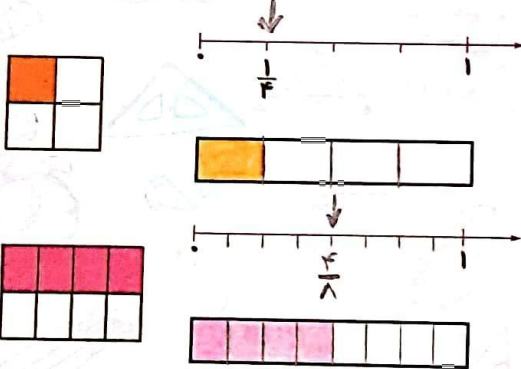
ب) ..... شکلات از ..... ۲۷ شکلات بادامی است.

پ) ..... ۱۲ شکلات از ..... ۲۷ شکلات شیری و گردویی است.

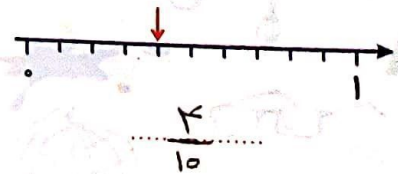
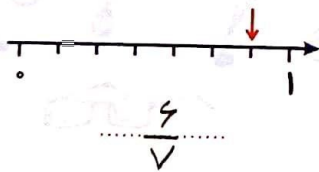
۶. چه کسری از هر شکل رنگ نشده است؟



۷. مقدار رنگ شده هر شکل را روی محور نشان بده و به همان مقدار از مستطیل را رنگ کن.



۸. بر روی هر محور، علامت چه کسری را نشان می‌دهد؟



۹. به طور تقریبی چه کسری از هر شکل رنگ شده است؟

