


کار در کلاس



Eraser



۱. جاهای خالی را پر کن.

(الف) طول پاک کن ..... ۱ ..... سانتی متر و ۷ میلی متر است.

(ب) طول پاک کن ..... ۱ ..... سانتی متر و  $\frac{7}{10}$  سانتی متر است.

(پ) طول گیره ..... ۲ ..... سانتی متر و  $\frac{5}{10}$  سانتی متر است.

(ت) طول آدامس ..... ۳ ..... سانتی متر و  $\frac{1}{10}$  سانتی متر است.

۲. در جاهای خالی کسر مناسب بنویس.

(الف) طول نگین انگشتری ۷ میلی متر است، یعنی  $\frac{7}{10}$  یک سانتی متر

(ب) طول مداد ۱۴ میلی متر است، یعنی ۱ سانتی متر و  $\frac{4}{10}$  سانتی متر

۳. طول مداد مونا ۴۳ میلی متر است.

به سؤالات زیر پاسخ بده.

(الف) ۴۳ میلی متر یعنی ..... ۴ ..... سانتی متر و ..... ۳ ..... قسمت از ۱۰ قسمت مساوی

(ب) طول مداد ..... ۳ ..... میلی متر بیش تر از ..... ۴ ..... سانتی متر است.

(پ) طول مداد  $\frac{7}{10}$  سانتی متر مانده است تا به ۵ سانتی متر برسد.

۴. با توجه به ساعت مقابل به سؤالها جواب بده.

(الف) ساعت مقابل چند دقیقه بعد از ساعت ۱۲ را نشان می دهد؟  $۱۵$  دقیقه

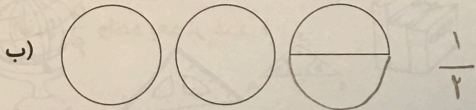
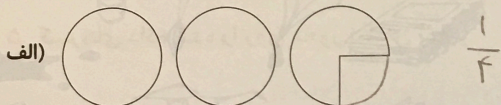
(ب) یعنی .....  $۱۵$  ..... دقیقه بعد از ۱۲

(پ) چه کسری از یک ساعت به ساعت ۱ مانده؟  $\frac{۵}{۶}$





۱. شکل‌های هر قسمت چه کسری کم دارند تا ۳ دایره‌ی کامل شوند؟



۲. با توجه به ساعت زیر به سؤال‌ها جواب بده.

الف) ساعت مقابل چند دقیقه بعد از ساعت ۴ را نشان می‌دهد؟  $۲۰$   $>$   $۲۰$  دقیقه  $۴$  بعد از

ب) یعنی چه کسری از یک ساعت؟  $\frac{۳۰}{۶۰}$

پ) چه کسری از یک ساعت به ساعت ۵ مانده است؟  $\frac{۳۰}{۶۰}$

