

به نام خدا
مرور ریاضی

« فصل ۱ »

علوی



۱- الگوهای زیر را کامل کنید.

۴۰۰ ، ۴۸۰ ، ۵۶۰ ، _ ، _ ، _

_ ، _ ، _ ، ۵۹ ، ۶۳

۱- الگوهای زیر را کامل کنید.

۴۰۰ , ۴۸۰ , ۵۶۰ , , ,

 , , , ۵۹ , ۶۳

۲- جاهای خالی را با عددهای مناسب کامل کنید.

۱۰
۲۵

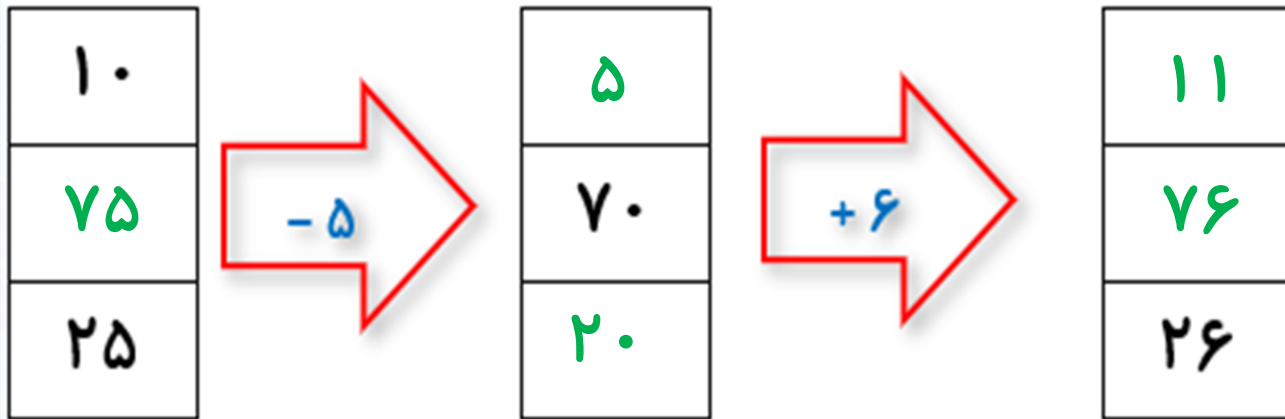


۷۰



۲۶

۲- جاهای خالی را با عددهای مناسب کامل کنید.



۳- در سینما ساعت شروع یک فیلم ۱۰ صبح و در ساعت ۱ بعدازظهر به پایان می‌رسد. نمایش این فیلم

چند ساعت طول کشیده است؟

۳- در سینما ساعت شروع یک فیلم ۱۰ صبح و در ساعت ۱ بعد از ظهر به پایان می‌رسد. نمایش این فیلم

چند ساعت طول کشیده است؟

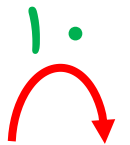
$$۱۳ - ۱۰ = ۳$$


۴- حاصل جمع های زیر را به روش های مختلف پیدا کنید.

$$۵ + ۴ + ۷ + ۳ + ۱۰ =$$

$$۲ + ۸ + ۵ + ۳ + ۵ =$$

۴- حاصل جمع های زیر را به روش های مختلف پیدا کنید.

$$5 + 4 + 7 + 3 + 10 = 29$$


$$2 + 8 + 5 + 3 + 5 = 23$$


۱۰ ۱۰

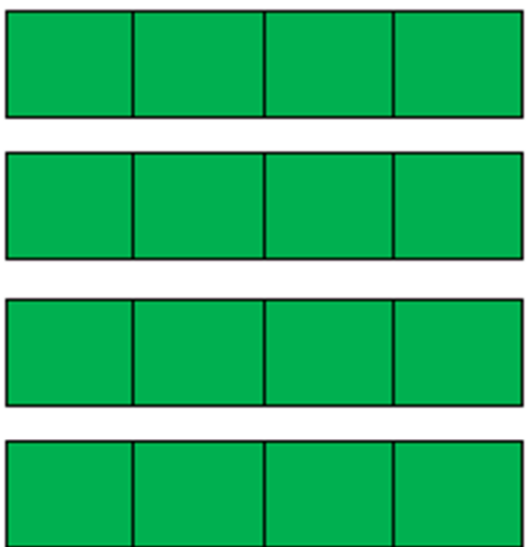
۵- جدول زیر را کامل کنید.

زمان	۱۶		۲۳		۱۸
بعد از ظهر		۱۰ بعد از ظهر		۳ بعد از ظهر	

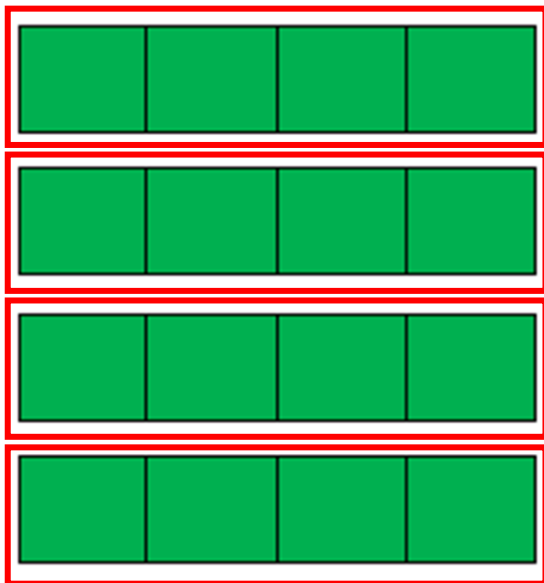
۵- جدول زیر را کامل کنید.

زمان	۱۶	۲۲	۲۳	۱۵	۱۸
بعد از ظهر	۴	۱۰ بعد از ظهر	۱۱	۳ بعد از ظهر	۶

۶- شکل های زیر را دسته بندی کنید و تعداد آنها را محاسبه کنید.



۶- شکل های زیر را دسته بندی کنید و تعداد آنها را محاسبه کنید.



$$۴ + ۴ + ۴ + ۴ = ۱۶$$