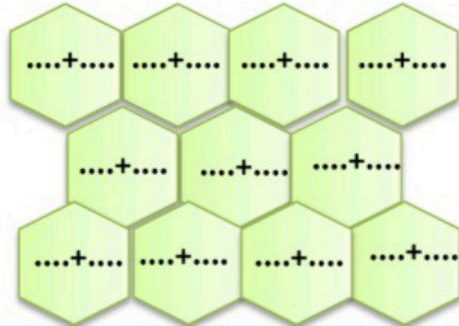




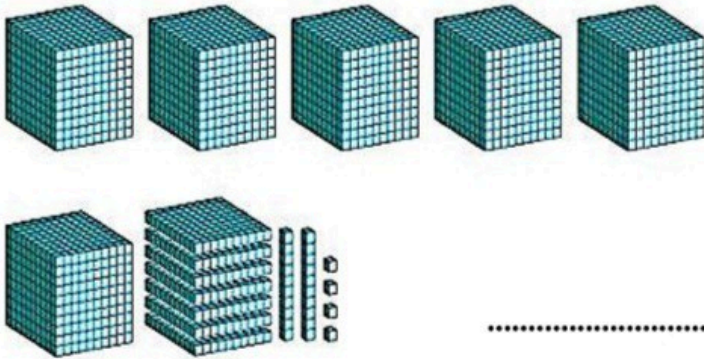
فصل دو

نام و نام خانوادگی:

۱. جمع های عدد ۱۰ را بنویسید.



۲. با توجه به شکل در جای خالی عدد و کلمه مناسب بنویس.



| هزارگان | صدگان | دهگان | یکان |
|---------|-------|-------|-------|
| | | | |

به عدد

به حروف

۳. الگوهای زیر را ادامه دهید.

۲۶۰۰-۲۸۰۰-۳۰۰۰-.....-.....-.....-.....

.....-.....-.....-.....-۶۰۰۰-۶۵۰۰-۷۰۰۰

۲۵۰۰-۳۵۰۰-۴۵۰۰-.....-.....-.....-.....

۴. اعداد داخل جدول را به عدد و حروف بنویس.

| | | |
|------|---------------------|------|
| ۵۰۰۱ | | ۹۵۰۰ |
| | دو هزار و سی و چهار | |

۵. عدد های زیر را به صورت گسترده (باز شده) بنویس. $۴۵۰۷ = \dots\dots\dots$

$۹۶۸۳ = \dots\dots\dots$

۶. زهرا یک خط کش به قیمت ۲۲۰ تومان و یک پاکن به قیمت ۴۲۵ تومان خرید. او یک اسکناس ۱۰۰۰ تومانی به فروشنده داد. فروشنده چند ریال به زهرا پس داد؟

۷. حاصل جمع و تفریق های زیر را بدست آورید.

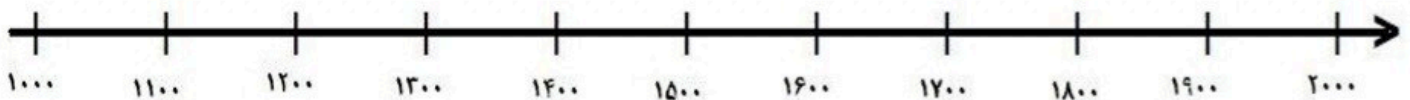
$$1000 + 1000 + 100 + 100 + 100 + 10 + 1 + 1 = \dots\dots\dots$$

$$3000 + 2000 + 100 + 300 + 50 = \dots\dots\dots$$

$$9000 - 2000 = \dots\dots\dots$$



۸. عدد های ۱۰۷۰، ۱۷۵۰، ۱۴۳۰، ۱۲۹۰ را به طور تقریبی بر روی محور نشان بده.



۹. در جای خالی علامت $\langle = \rangle$ بگذار.

$$6000 - 3000 \quad \bigcirc \quad 2000 + 1000 + 800 + 700$$

$$5000 + 2000 + 400 + 900 \quad \bigcirc \quad 5400$$

۱۰. امید ورزشکار است. او هر روز فاصله ی خانه تا محل کار خور را پیاده می رود. فاصله خانه تا محل کارش ۲ کیلو متر است.

او در یک رفت و برگشت چند متر راه می رود؟

۱۱. در جای خالی عدد مناسب بنویسید.

۳۴۰۰ سانتی متر برابر است با متر و سانتی متر.

۴۰۰۰ متر یعنی کیلو متر .

۳ کیلو گرم و ۷۰۰ گرم برابر است با گرم.



ارزیابی معلم: