



به نام خدا
پیش دبستان و دبستان پسرانه
(شعبه تهران شرق)

نام و نام خانوادگی:

نمونه سوال مروری فصل اول



۱- باز شده یک مکعب را رسم کنید؟



۲- الگوی عددی زیر را ادامه دهید.

..... - - - - - ۱۲ - ۹ - ۶ - ۳

..... - - - - - ۱۰ - ۵ - ۲ - ۱



۳- جاهای خالی را کامل کنید.

۷۸
۴۵



۵۰
۲۵
۴۴



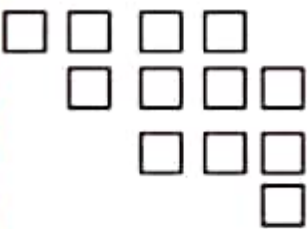
۲۵



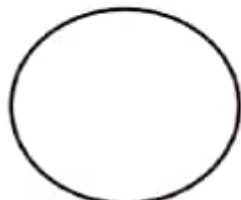
۸۲
۳۴
۲۰
۷۴



۴- تعداد مربع های شکل زیر را با ۳ نوع دسته بندی و به کمک شمارش چند تا چند تا بدست آورید؟



۵- دختربندم اتوبوس تهران- بوشهر ساعت ۴:۴۰ دقیقه حرکت کرد. این زمان را روی ساعت نشان بده .



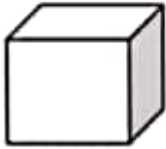


۶- سائز نیم هر کدام از ساعت های زیر چه ساعتی از بعد از ظهر و قبل از ظهر را نشان می دهند؟

۲=.....بعد از ظهر ۶:۳۰=.....بعد از ظهر ۸:۲۵=.....بعد از ظهر

۱۹:۱۰=.....قبل از ظهر ۲۲=.....قبل از ظهر ۱۳:۱۹=.....قبل از ظهر

۷- فرزندم نام هر شکل را بنویس.



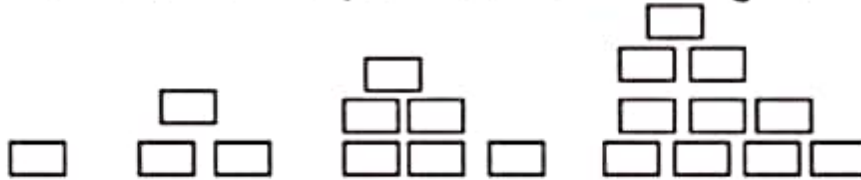
.....

.....

.....

.....

۸- الگوهای زیر را ادامه دهید. توضیح دهید که بین عددها و شکل ها چه رابطه ای وجود دارد؟



۹- قطار یزد تهران ساعت ۹ صبح از سمت یزد به سمت تهران حرکت کرد و ساعت ۱۶ به تهران رسید. این قطار چند ساعت در راه بود است ؟

۱۰- رضا هر بادکنک را ۲۵۰ تومان می خرد و ۳۰۰ تومان می فروشد. با استفاده از رسم جدول به سوالات پاسخ دهید.

فروش یک بادکنک چند تومان برایش سود دارد؟.....

چند بادکنک بفروشد تا ۲۰۰ تومان سود ببرد؟.....

اختلاف سود فروش ۴ بادکنک و ۲ بادکنک چه قدر است؟.....

او با سود فروش چند بادکنک می تواند یک بادکنک بخرد؟.....

- یک آپارتمان ۶ طبقه دارد. هر طبقه ۲ واحد دارد.

الف - در طبقه سوم چند واحد وجود دارد؟

ب- در طبقه ی پنجم چند واحد وجود دارد؟

آموزگار: مریم بهجتی

علوی شرق

