



1- برای تهیه ی نوعی کیک ساده 4 بعدازظهر شروع به کار کردیم .

کیک بعد از 2 ساعت آماده شد .

کیک چه ساعتی آماده شده است ؟

18 (4

15 (3

16 (2

17 ( 1

1- برای تهیه ی نوعی کیک ساده 4 بعدازظهر شروع به کار کردیم .

کیک بعد از 2 ساعت آماده شد .

کیک چه ساعتی آماده شده است ؟

18 (4 ✓)

15 (3)

16 (2)

17 (1)

2 - چه کسری از یک ساعت مانده به ساعت 2 ؟



$$\frac{1}{2} \text{ (2)}$$

$$\frac{1}{3} \text{ (1)}$$

$$\frac{15}{30} \text{ (4)}$$

$$\frac{1}{4} \text{ (3)}$$

2 - چه کسری از یک ساعت مانده به ساعت 2 ؟



$$\frac{1}{2} \text{ (2)}$$

$$\frac{15}{30} \text{ (4)}$$

$$\frac{1}{3} \text{ (1)}$$

$$\frac{1}{4} \text{ (3) ✓}$$

3 - یک ریال قندستان به اندازه ی 500 تومان شکرستان ارزش دارد .

5 ریال قندستان چند تومان شکرستان ارزش دارد؟

4000 (2

5000 ( 1

3500 (4

2500 (3

3 - یک ریال قندستان به اندازه ی 500 تومان شکرستان ارزش دارد .

5 ریال قندستان چند تومان شکرستان ارزش دارد؟

ریال قندستان	1	2	3	4	5	4000 (2	5000 (1
تومان شکرستان	500	1000	1500	2000	2500	3500 (4	2500 (3✓

4 - در جای خالی چه عددی قرار می گیرد ؟

..... و 1080 و 1060 و 1040

2000 (2

1100 ( 1


1090 (4

1200 (3



4- در جای خالی چه عددی قرار می گیرد ؟

..... و 1080 و 1060 و 1040



2000 (2)

1100 (1) ✓

1090 (4)

1200 (3)

5 - طول پاک کن نشان داده شده ، در کدام گزینه به صورت کسری درست است؟

(2) 1 سانتی متر و  $\frac{3}{10}$  سانتی متر

(1) 1 سانتی متر و  $\frac{3}{10}$  میلی متر

(4) 3 میلی متر و  $\frac{3}{10}$  میلی متر

(3) 1 میلی متر و  $\frac{2}{3}$  میلی متر




5 - طول پاک کن نشان داده شده ، در کدام گزینه به صورت کسری درست است؟

✓ (2) 1 سانتی متر و  $\frac{3}{10}$  سانتی متر

(1) 1 سانتی متر و  $\frac{3}{10}$  میلی متر

(4) 3 میلی متر و  $\frac{3}{10}$  میلی متر

(3) 1 میلی متر و  $\frac{2}{3}$  میلی متر



6 - اگر شعاع دایره ای 6 سانتی متر باشد ، قطر آن چند سانتی متر است ؟

1 ( سه سانتی متر می شود .

2 ( شش سانتی متر می شود .

3 ( نصف می شود .

4 ( دوازده سانتی متر می شود .

6- اگر شعاع دایره ای 6 سانتی متر باشد ، قطر آن چند سانتی متر است ؟



1 ( سه سانتی متر می شود .


2 ( شش سانتی متر می شود .

3 ( نصف می شود .



4 ( دوازده سانتی متر می شود . ✓

7- اگر قرینه شکل را نسبت به خطوط تقارن بکشیم ، چند ستاره خواهیم داشت ؟




1 ( پنج

2) بیست

3) ده

4) پانزده

7 - اگر قرینه شکل را نسبت به خطوط تقارن بکشیم ، چند ستاره خواهیم داشت ؟




1 ( پنج

2 ( بیست ✓

3 ( ده

4 ( پانزده

8 - در ماشین رو به رو  $\square - \bigcirc$  چند است ؟



3 ( 1


4 ( 2

6 ( 3

5 ( 4



8 - در ماشین رو به رو  $\square$  -  $\bigcirc$  چند است ؟



3 (1


4 (2

6 (3

$$20 - 15 = 5$$

5 (4 ✓

9 - کدام کسر برای شکل زیر درست می باشد؟




(1)  $\frac{1}{4}$

(2)  $\frac{1}{5}$

(3)  $\frac{1}{8}$

(4)  $\frac{1}{6}$

9 - کدام کسر برای شکل زیر درست می باشد؟



(1)  $\frac{1}{4}$

(2)  $\frac{1}{5}$

(3)  $\frac{1}{8}$

(4)  $\frac{1}{6}$  ✓