



# به نام خدا


عزیزم حاصل عبارت های ضرب پایین برگه را به کمک روش مستطیلی بدست بیاور. هر عبارت ضرب را در مستطیل مربوط به خود نشان بده.



$x =$




$x =$




$x =$




$x =$




$x =$




$x =$



$x =$



$x =$



$x =$



$x =$

$6 \times 3$

$7 \times 2$

$3 \times 3$

$2 \times 5$

$3 \times 5$

$2 \times 6$

$3 \times 4$

$9 \times 3$

$2 \times 2$

$8 \times 2$

⋮  
⋮