



۱- با رسم شکل حاصل ضرب‌ها را به دست آورید.

$100 \quad 10 \quad 1$


$2 \times 21 = 42$



$2 \times 12 = 24$




$2 \times 212 = 424$



۲- مانند نمونه برای شکل‌ها ضرب بنویسید و حاصل را پیدا کنید.

$2 \times 22 = 44$

$22 = 20 + 2$





$2 \times 20 = 40$



$2 \times 2 = 4$

$2 \times 22 = 44$

$22 = 20 + 2$




$2 \times 20 = 40$



$2 \times 2 = 4$

$2 \times 222 = 444$

$222 = 200 + 20 + 2$



$2 \times 200 = 400$



$2 \times 20 = 40$



$2 \times 2 = 4$

۳- به کمک وسایلی که آموزگار به گروه‌های دو نفره می‌دهد، ضرب‌ها را بسازید و حاصل آن‌ها را پیدا کنید.

پس شکل هر کدام را بکشید.


$2 \times 215 =$

$215 = 200 + 10 + 5$



$2 \times 22 = 44$

$22 = 20 + 2$



با رسم شکل حاصل ضرب‌ها را به دست آورید.



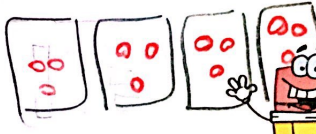
$$2 \times 22 = 44$$

$$22 = 20 + 2$$



$$2 \times 20 = 40$$

$$2 \times 2 = 4$$

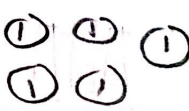


$$5 \times 21 = 105$$

$$21 = 20 + 1$$

$$5 \times 20 = 100$$

$$5 \times 1 = 5$$



$$2 \times 222 = 444$$

$$2 \times 200 = 400$$

$$2 \times 20 = 40$$

$$2 \times 2 = 4$$

$$222 = 200 + 20 + 2$$

