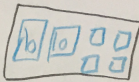


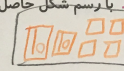
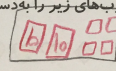
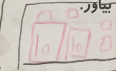
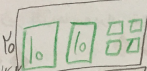


کار در کلاس

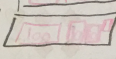



۱. با رسم شکل حاصل ضرب‌های زیر را به دست بیاور.

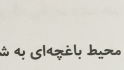
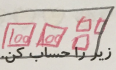


الف) $5 \times 24 = 120$



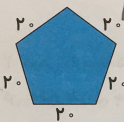
پ) $2 \times 121 = 242$



ت) $3 \times 203 = 609$



۲. محیط باغچه‌ای به شکل زیر را حساب کن.



$20 \times 5 = 100$
ساعتی بیشتر

می‌دانیم هر شبانه‌روز ۲۴ ساعت است. حساب کن ۲ شبانه‌روز و ۱۷ ساعت چند ساعت می‌شود؟

$$\begin{array}{r} 24 \\ \times 2 \\ \hline 48 \\ + 40 \\ \hline 92 \end{array}$$

$2 \times 24 + 17 = 48 + 17 = 65$ ساعت

اگر قیمت ۶ خودکار ۵۴ تومان باشد، قیمت ۱۰ خودکار چند تومان می‌شود؟

$6 \div 4 = 9$

$10 \times 9 = 90$ تومان

حاصل ضرب‌های زیر را به صورت تقریبی به دست بیاور.

الف) $31 \times 23 \approx 30 \times 20 = 600$

ب) $45 \times 61 \approx 50 \times 60 = 3000$

پ) $71 \times 29 \approx 70 \times 30 = 2100$

حساب کن فصل تابستان و پاییز روی هم تقریباً چند روز است؟

تابستان $93 \times 31 = 2883$

پاییز $90 \times 30 = 2700$

$2883 + 2700 \approx 5583$

یک میز ۴ ردیف بشقاب و در هر ردیف ۴۲ بشقاب قرار دارد. حساب کن به‌طور تقریبی چند تا بشقاب

این میز است؟

$42 \times 4 \approx 40 \times 4 = 160$

