


نام و نام خانوادگی :

|  |
|--|
|  |
|  |
|  |

۱. با توجه به ساعت های رسم شده جاهای خالی را پر کنید .

..... دقیقه مانده به .....



..... دقیقه گذشته از .....

..... : .....


..... دقیقه مانده به .....



..... دقیقه گذشته از .....

..... : .....


..... دقیقه مانده به .....



..... دقیقه گذشته از .....

..... : .....

..... دقیقه مانده به .....



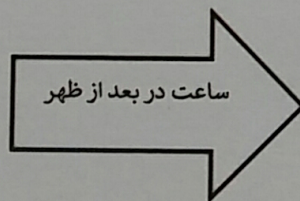
..... دقیقه گذشته از .....

..... : .....

۲. علی هر روز ساعت ۷:۱۵ از خواب بیدار می شود . او برای رسیدن به مدرسه ۲۵ دقیقه زمان نیاز دارد . علی چه ساعتی به مدرسه می رسد ؟ حالا اگر ۱۰ دقیقه هم صرف صبحانه کند چه ساعتی به مدرسه می رسد ؟

۳. ماشین های ورودی و خروجی ساعت های زیر را کامل کنید .

|       |
|-------|
|       |
| ۳     |
| ۸     |
|       |
| ۱۱:۳۰ |



|       |
|-------|
| ۱۳    |
|       |
|       |
| ۱۸:۴۵ |
|       |