

هوالعالم

پیش دبستان و دبستان دخترانه علوی
(واحد منیریه)



نام و نام خانوادگی:

پایه

سوم

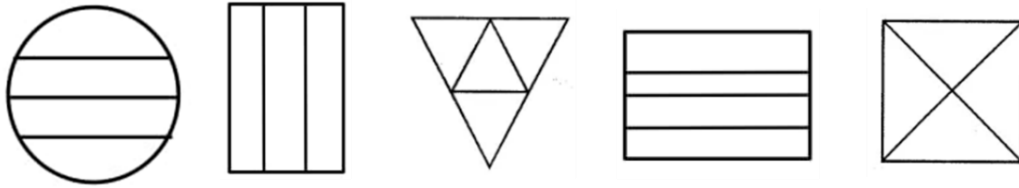
(ریاضی)

تاریخ:

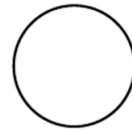
هدف: تقسیم شکل به قسمت های مساوی

موضوع: کسر

(۱) کدام شکل ها به قسمت های مساوی تقسیم شده اند؟ دور آن ها خط بکش.



(۲) شکل های زیر را به قسمت های خواسته شده تقسیم کنید و رنگ کنید.



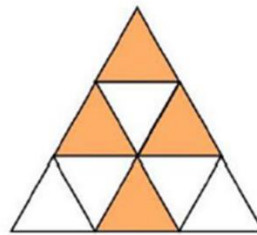

الف) شکل را به ۴ قسمت مساوی تقسیم کن.

الف) شکل را به ۶ قسمت مساوی تقسیم کن.

ب) ۲ قسمت را رنگ کن.

ب) ۴ قسمت را رنگ کن.

(۳) در هر شکل چه مقدار رنگ شده است؟



..... قسمت از قسمت مساوی رنگ شده است.

..... قسمت از قسمت مساوی رنگ شده است.

(۴) در کدام شکل ۲ قسمت از ۳ قسمت مساوی از مربع رنگ شده است؟ دور آن خط بکش.

