



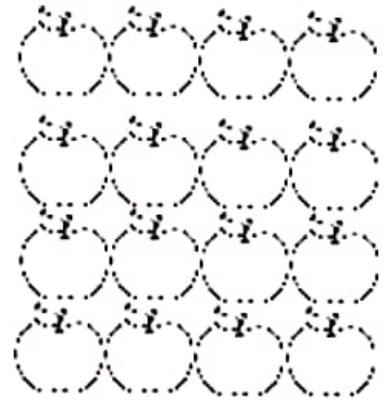
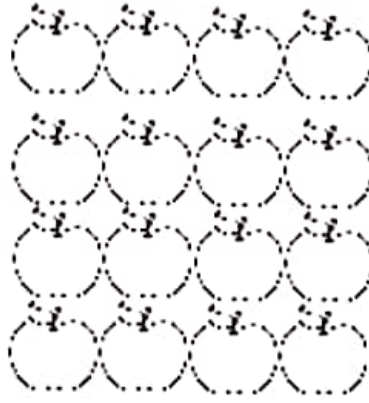
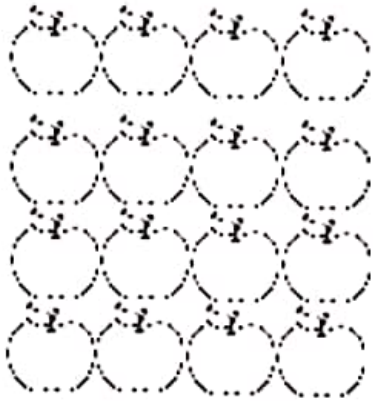
پایه : سوم

((ریاضیدان کوچک))



عزیزم، تعداد سیب های زیر را با ۳ نوع دسته بندی و به کمک شمارش

چندتا چندتا به دست بیاور.



تعداد شکلات های زیر را با ۳ نوع دسته بندی و به کمک شمارش چندتا چندتا به دست آور.



برای شکل های زیر با توجه به دسته بندی آن یک جمع بنویس و تعداد مربع ها را بنویس.

