

باسمه تعالی

پیش دبستان و دبستان دخترانه علوی

(واحد منبیره)



تاریخ: ۱۴۰۱/۷/۱۲

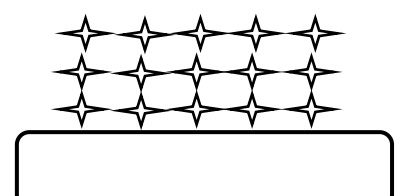
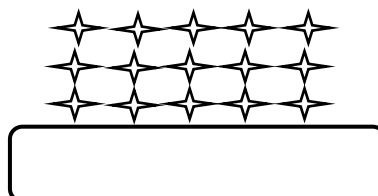
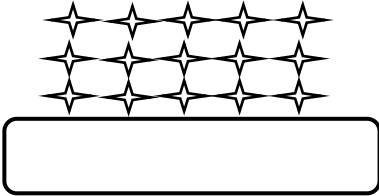
هدف: تکرار و تمرین

نام و نام خانوادگی:

موضوع: درس ریاضی

پایه: سوم

۱- دایره های شکل زیر را به سه روش دسته بندی کنید و با شمارش چند تا چند، تا آن ها را بدست آورید.



۲- یک گل فروش هر بسته گل را ۳۵۰ می خرد و ۴۰۰ تومان می فروشد.

الف) اگر ۸ شاخه گل بفروشد چند تومان سود می کند؟

ب) چند شاخه گل بفروشد تا با سود آن بتواند گل بخرد؟

۳- بهار خانم یک نوع ژله را ۱۰۰ ریال می خرد و ۱۲۰ ریال می فروشد. ابتدا جدول زیر را کامل کنید و سپس به سوالات پاسخ دهید.

تعداد ژله							
سود هر ژله							

الف) بهار خانم از فروش هر ژله چند ریال سود می کند؟

ب) او چند ژله بفروشد تا ۸۰ ریال سود کند؟

پ) او با فروش ۳ ژله چند ریال سود می کند؟

ج) او چند ژله بفروشد تا با سود آن بتواند یک ژله بخرد؟

۴- خانه سوگل در یک ساختمان ۱۰ طبقه است. هر طبقه آن ساختمان ۳ واحد دارد.

الف) ۲ طبقه ی آن چند واحد است؟

ب) ۵ طبقه آن چند واحد است؟

ج) ۷ طبقه آن چند واحد است؟