

سلام عزیزانم

به جشن تولد هزار خوش اومدین



teacher maryam behjati

آموزگار: مریم بهجتی




قبلا آموختیم

که ۱۰ تا دسته ۱۰ تایی

میشود ۱۰۰ تا

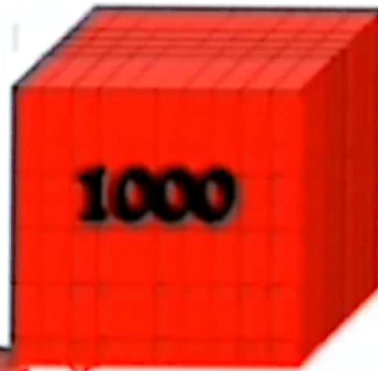
۱۰۰



عدد هزار کوچکترین عدد چهار رکنی

اسے 10 دستہ 100 تایی


تشکیل شدہ اسے



10 دستہ 100 تایی = 1000


$$999 + 1$$

| | | |
|-----|--|--|
| 100 | | |
| | | |
| | | |



$$999 + 1$$

| | | |
|-----|--|--|
| 100 | | |
| | | |
| | | |




$$999 + 1$$

| | | | |
|-----|--|--|--|
| 100 | | | |
| | | | |
| | | | |

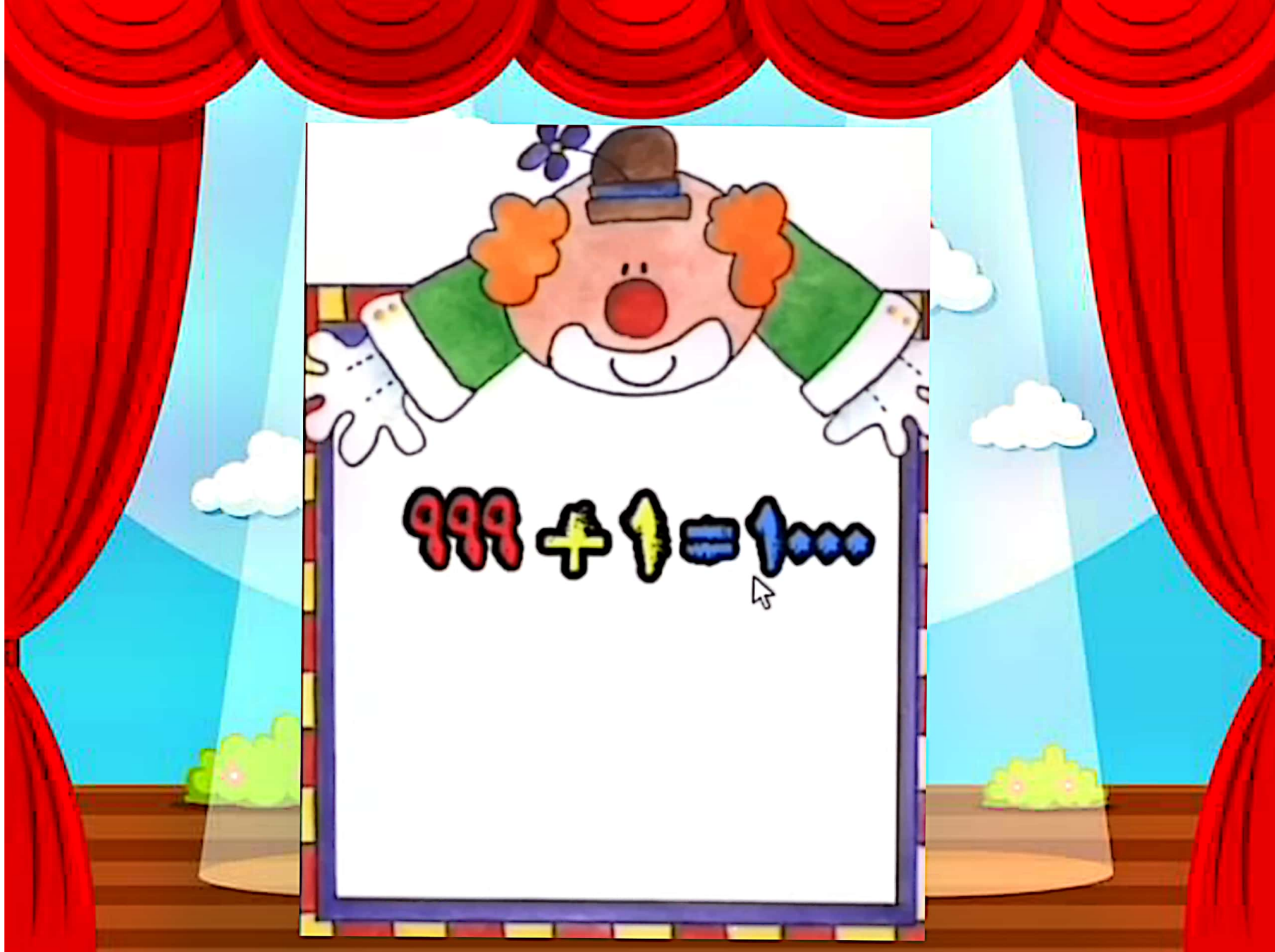
999 + 1 = 1000


1000




عدد ۱۰۰۰ چند تا از


۹۹۹ بیشتر است؟؟؟





پک بستہ ی دہ تاپی





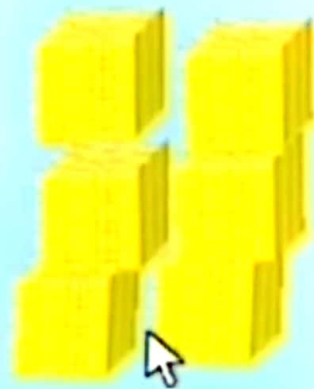

اگر هر مکعب نشان دهنده
عدد هزار باشد هر شکل چه عددی را نشان می دهد



۴۳۲۱



اگر هر مکعب نشان دهنده
عدد هزار باشد هر شکل چه عددی را نشان می دهد



۴۰۰۰

یکان دهگان صدگان هزارگان



هزارتایی

۱۰ دسته‌ی ۱۰۰ تایی می‌شود ۱۰۰۰

۹۹۹۹ تا ۱۰۰۰

چهار رقمی

یکان دهگان صدگان هزارگان



یاد گرفتیم

در یک بسته ی هزار تایی ده تا صد تایی وجود دارد.

در یک بسته ی هزار تایی صد تا بسته ی ده تایی وجود دارد.

در یک بسته ی هزار تایی هزار تا یکی وجود دارد.


حالا به نظرت اگر بخواهیم عدد ۱,۲۰۰۰ را در نظر بگیریم این جمله ها چه تغییری می کند؟



سه هزار و دویست و هفتاد و چهار

۳۰۲۷۴





صفحه ی ۲۸ کتاب ریاضی



معرفی عدد هزار

۱- در یک کارخانه ی مواد غذایی، مانین اول ۱۰ کلوچه ی کوچک را در یک پاکت بسته بندی می کند. مانین دوم ۱۰ پاکت کلوچه را در یک جعبه می گذارد. سپس، یک کارگر ۱۰ جعبه را در یک کارتن قرار می دهد و در کارتن را می بندد. تعداد کلوچه های هر جعبه چندتا است؟ در هر کارتن چند بسته ی ده تایی کلوچه هست؟

معرفی عدد هزار



۱- در یک کارخانه‌ی مواد غذایی، مانسین اول ۱۰ کلوچه‌ی کوچک را در یک پاکت بسته‌بندی می‌کند. مانسین دوم ۱۰ پاکت کلوچه را در یک جعبه می‌گذارد. سپس، یک کارگر ۱۰ جعبه را در یک کارتن قرار می‌دهد و در کارتن را می‌بندد.

تعداد کلوچه‌های هر جعبه چندتااست؟

در هر کارتن چند بسته‌ی ده‌تایی کلوچه هست؟

۱۰ تایی



معرفی عدد هزار

۱- در یک کارخانه‌ی مواد غذایی، مانسین اول ۱۰ کلوچه‌ی کوچک را در یک پاکت بسته‌بندی می‌کند. مانسین دوم ۱۰ پاکت کلوچه را در یک جعبه می‌گذارد. سپس، یک کارگر ۱۰ جعبه را در یک کارتن قرار می‌دهد و در کارتن را می‌بندد. تعداد کلوچه‌های هر جعبه چندانست؟ در هر کارتن چند بسته‌ی ده‌تایی کلوچه هست؟

معرفی عدد هزار

۱- در یک کارخانه‌ی مواد غذایی، مانسین اول ۱۰ کلوچه‌ی کوچک را در یک پاکت بسته‌بندی می‌کند. مانسین دوم ۱۰ پاکت کلوچه را در یک جعبه می‌گذارد. سپس، یک کارگر ۱۰ جعبه را در یک کارتن قرار می‌دهد و در کارتن را می‌بندد. تعداد کلوچه‌های هر جعبه چندتاست؟ در هر کارتن چند بسته‌ی ده‌تایی کلوچه هست؟



۱۰ تایی



معرفی عدد هزار

۱- در یک کارخانه‌ی مواد غذایی، مائین اول ۱۰ کلوچه‌ی کوچک را در یک پاکت بسته‌بندی می‌کند. مائین دوم ۱۰ پاکت کلوچه را در یک جعبه می‌گذارد. سپس، یک کارگر ۱۰ جعبه را در یک کارتن قرار می‌دهد و در کارتن را می‌بندد. تعداد کلوچه‌های هر جعبه چندتاست؟ در هر کارتن چند بسته‌ی ده‌تایی کلوچه هست؟



• پاکت • اتایی
یا
•• تا کلوچه

معرفی عدد هزار

۱- در یک کارخانه‌ی مواد غذایی، مانسین اول ۱۰ کلوچه‌ی کوچک را در یک پاکت بسته‌بندی می‌کند. مانسین دوم ۱۰ پاکت کلوچه را در یک جعبه می‌گذارد. سپس، یک کارگر ۱۰ جعبه را در یک کارتن قرار می‌دهد و در کارتن را می‌بندد. تعداد کلوچه‌های هر جعبه چندتا است؟ **۱۰ پاکت ۱۰ تایی یا ۱۰۰ کلوچه** در هر کارتن چند بسته‌ی ده‌تایی کلوچه هست؟ **۱۰۰ بسته‌ی ۱۰ تایی**

۱۰ جعبه‌ی ۱۰۰ تایی
یا
۱۰۰ بسته‌ی ۱۰ تایی
یا
۱۰۰۰ تا کلوچه



۲- در کلاس دوم دبستان یاد گرفتید که می‌توانید ۱۰ تا ۱۰۰ ریالی را با یک ۱۰۰۰ ریالی عوض کنید. علی بول‌های فلک خود را به صورت ۱۰ سکه‌ی ۱۰۰ ریالی بسته‌بندی کرده است تا به بانک بدهد. او ۱۰۰ تا بسته را به بانک برده و بانک به او ۱۰۰۰۰ ریال داده است. اگر علی ۹ سکه‌ی ۱۰۰ ریالی به بانک بدهد، چند سکه‌ی ۱۰۰۰ ریالی دیگر باید بدهد تا یک سکه‌ی ۱۰۰۰۰ ریالی بگیرد؟



۲- در کلاس دوم دبستان یاد گرفتید که می‌توانید ۱۰ تا ۱۰۰ ریالی را با یک ۱۰۰۰ ریالی عوض کنید. علی بول‌های فلک خود را به صورت ۱۰ سکه‌ی ۱۰۰ ریالی بسته‌بندی کرده است تا به بانک بدهد. او ۱۰ تا بسته را به بانک برده و بانک به او ۱۰۰۰۰ ریال داده است. اگر علی ۹ سکه‌ی ۱۰۰ ریالی به بانک بدهد، چند سکه‌ی ۱۰۰ ریالی دیگر باید بدهد تا یک سکه‌ی ۱۰۰۰۰ ریالی بگیرد؟

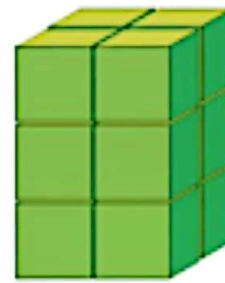

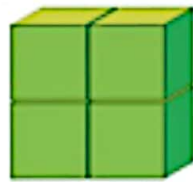


۲- در کلاس دوم دبستان یاد گرفتید که می‌توانید ۱۰ تا ۱۰۰ ریالی را با یک ۱۰۰۰ ریالی عوض کنید. علی بول‌های قلک خود را به صورت ۱۰ سکه‌ی ۱۰۰ ریالی بسته‌بندی کرده است تا به بانک بدهد. او ۱۰۰ تا بسته را به بانک برده و بانک به او ۱۰۰۰۰ ریال داده است. اگر علی ۹ سکه‌ی ۱۰۰ ریالی به بانک بدهد، چند سکه‌ی ۱۰۰۰ ریالی دیگر باید بدهد تا یک سکه‌ی ۱۰۰۰۰ ریالی بگیرد؟



در هر شکل چند مکعب کوچک وجود دارد؟

بشمار و بگو



جشن هزار مبارک.

اولین عدد چهار رقمی.

خدا ا قوت