

فعالیت کلاسی



ه	ص	د	ی
۲	۳	۴	۵

۱ در عدد ۲۳۴۵ رقم صدگان کدام است؟
رقم ۳

۲ جدول را کامل کن تا به خط پایان برسی.

شروع	۱۰۰	۲۰۰	۳۰۰
	۴۰۰	۵۰۰	۴۰۰
	۷۰۰	۸۰۰	۹۰۰
			۱۰۰۰
			پایان

۳ چند مربع و چند مثلث لازم داری که جمع آن‌ها ۱۰۰۰ شود؟

پیشنهاد اول: ۱۰ مثلث و ۱۰ مربع

پیشنهاد دوم: ۱۰ مثلث و ۵ مربع


پیشنهاد سوم: ۱۰ مربع و ۱۰ مثلث

۴ حاصل کدام عبارت ۱۰۰۰ می‌شود؟

۱) ۳ صدتایی و ۷ ده تایی: $300 + 70 = 370$

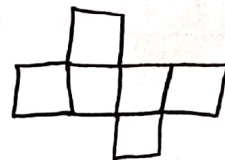
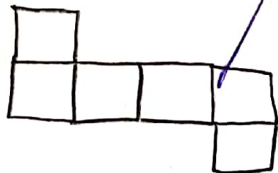
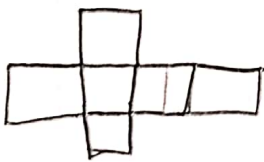
۲) ۷ صدتایی و ۳ ده تایی: $700 + 30 = 730$

۵ سه نمونه از انواع گسترده‌ی مکعب را بکش.



پیشنهاد ۱: ۵
پیشنهاد ۲: ۵
پیشنهاد ۳: ۱۰

۲
۱
۰



۶ اگر از عدد ۹۰۰ تا ۱۰۲۰ را ده‌تا ده‌تا بنویسیم، روی هم چند تا عدد نوشته‌ایم؟ نشان بده.

۹۱۰، ۹۲۰، ۹۳۰، ۹۴۰، ۹۵۰، ۹۶۰، ۹۷۰، ۹۸۰، ۹۹۰، ۱۰۰۰، ۱۰۱۰، ۱۰۲۰

+10 +10



بزرگترین عدد

تمرین

۱ اگر هر مکعب نشان دهنده یک بسته ۱۰۰۰ تایی باشد، با توجه به تعداد مکعب‌ها عدد مربوط به هر شکل را به آن وصل کن.



۲ درستی و نادرستی هر عبارت را مشخص کن.

- الف: ۱۰ سکه‌ی ۱۰ ریالی مساوی با یک سکه‌ی ۱۰۰۰ ریالی است.
- ب: ۱۰ تا سکه‌ی ۱۰۰ ریالی برابر با یک سکه‌ی ۱۰۰ ریالی است.
- پ: ۱۰ تا سکه‌ی ۱۰ ریالی برابر با یک سکه‌ی ۱۰ تومانی است.

۳ الگوهای زیر را کامل کن.

۱۰۰, ۲۰۰, ۳۰۰, ۴۰۰, ۵۰۰, ۶۰۰, ۷۰۰, ۸۰۰, ۹۰۰, ۱۰۰۰
 +1000 +1000

۹۴۰, ۹۵۰, ۹۶۰, ۹۷۰, ۹۸۰, ۹۹۰, ۱۰۰۰, ۱۰۱۰, ۱۰۲۰, ۱۰۳۰
 +10 +10

۹۹۴, ۹۹۵, ۹۹۶, ۹۹۷, ۹۹۸, ۹۹۹, ۱۰۰۰, ۱۰۰۱, ۱۰۰۲, ۱۰۰۳
 +1 +1

۴ با توجه به الگو در جاهای خالی عدد مناسب بنویس.

۴۰۰۰, ۵۰۰۰, ۶۰۰۰, ۷۰۰۰, ۸۰۰۰, ۹۰۰۰

+1000 +1000
 ۲۰۰۰, ۴۰۰۰, ۶۰۰۰, ۸۰۰۰, ۱۰۰۰۰
 +2000 +2000

۵ من چه عددی هستم؟ اگر ۲ هزار تایی به من اضافه کنی بزرگ‌ترین عدد چهاررقمی می‌شوم؟

۷۹۹۹

$$\begin{array}{r} 9999 \\ - 2000 \\ \hline 7999 \end{array}$$

$$7999 + 2000 = 9999$$