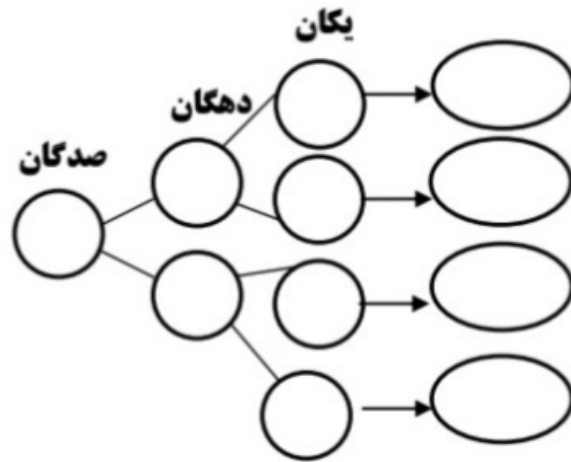
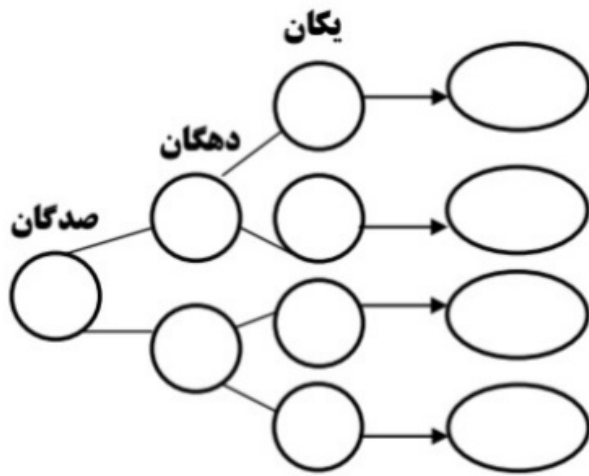


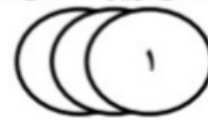
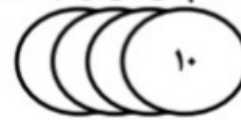
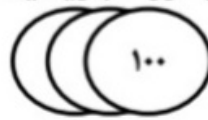
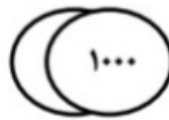
۱- همه ی عددهای سه رقمی را که رقم صدگان آن ها ۲ یا ۵ ، رقم دهگان آن ها ۱ یا ۶ و رقم یکان آن ها ۳ یا

۸ باشد ، بنویسید . جاهای خالی را پر کنید تا همه ی عددها به دست آیند.



۲- جدول های زیر را کامل کرده ، سپس آن را با عدد و حروف بنویسید .

هزارگان	صدگان	دهگان	یکان




..... به عدد :

..... به حروف :

هزارگان	صدگان	دهگان	یکان

..... به عدد :

..... به حروف :



۳- جاهای خالی را با دقت پر کن .

عدد ۵۳۲۱ یعنی یکی ، ده تایی ، صد تایی و هزار تایی

عدد یعنی ۵ یکی ، ۴ صد تایی و ۳ هزار تایی .

۳۲۵ سانتی متر متر و سانتی متر است .

۴۰۰۰ متر چند کیلومتر است ؟

۴- الگوهای عددی زیر را ادامه دهید .

۵۰۰۰	۵۲۰۰	۵۴۰۰			
------	------	------	--	--	--

۳۰۰۰	۳۵۰۰	۴۰۰۰			
------	------	------	--	--	--

			۷۸۰۰	۷۹۰۰	۸۰۰۰
--	--	--	------	------	------

۹۴۱۰	۹۴۲۰	۹۴۳۰			
------	------	------	--	--	--

۵- باز شده ی هر عدد را بنویسید .

$7110 =$

$4035 =$

$9700 =$

$8505 =$

۶- با دقت جدول زیر را کامل کنید . اعدای که به ریال می باشند را به تومان بنویسید و اعدادی که به تومان می باشد را به ریال بنویسید .

ریال	۱۵۰	۳۸۰			۲۲۰۰	
تومان			۴۷۰	۲۷۰		۶۲۰

۷- با توجه به محور ، عددهای داده شده را به صورت تقریبی روی محور نشان دهید .



۸- عدد ۴۸۱۲ چند رقمی است ؟

آن را به حروف بنویسید .
 عدد قبل و بعد از آن را مشخص کنید .

۹- یک دلار کشور شکرستان ۱۲۰۰ تومان ارزش دارد . ۳ دلار این کشور چند تومان ارزش دارد ؟

۱۰- عددها را با هم مقایسه کنید.

۲۳۳۳ ○ ۲۵۱۱	۴۰۷۲ ○ ۴۰۷۰
۷۸۹۱ ○ ۱۹۹۹	۹۶۰۹ ○ ۹۰۰۹