


نمونہ سوال تمرین
صفحہ 51 (سوال 1)







1- عدد های زیر را روی محور نشان دهید .

$\frac{3}{6}$ واحد بعد از عدد 6 


$\frac{1}{2}$ واحد بعد از عدد 3 

$\frac{4}{5}$ واحد بعد از عدد 9 



1- عدد های زیر را روی محور نشان دهید .

$\frac{3}{7}$ واحد مانده به عدد 10 

$\frac{6}{8}$ واحد مانده به عدد 13 

$\frac{3}{5}$ واحد مانده به عدد 6 