



علوی
مدارس هزاره سوم



۶. چه کسری از هر شکل رنگ نشده است؟



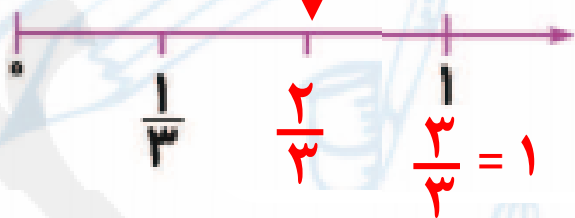
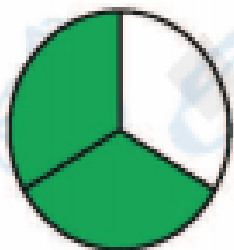
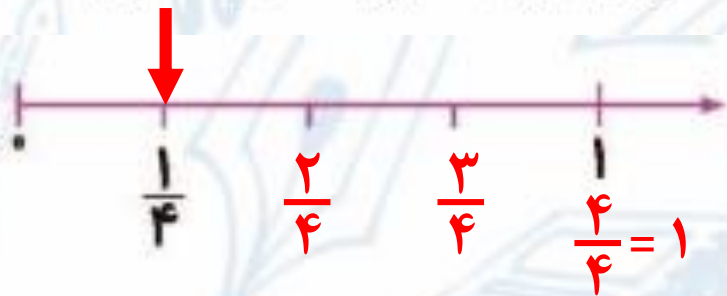
$$\frac{2}{3}$$

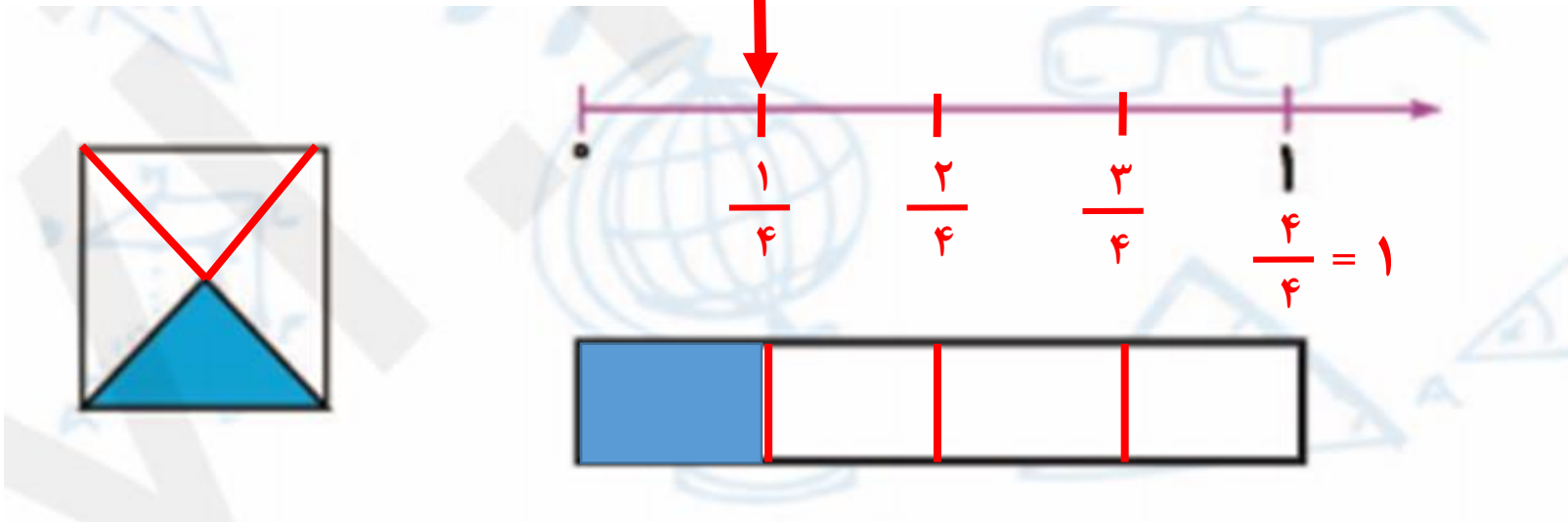
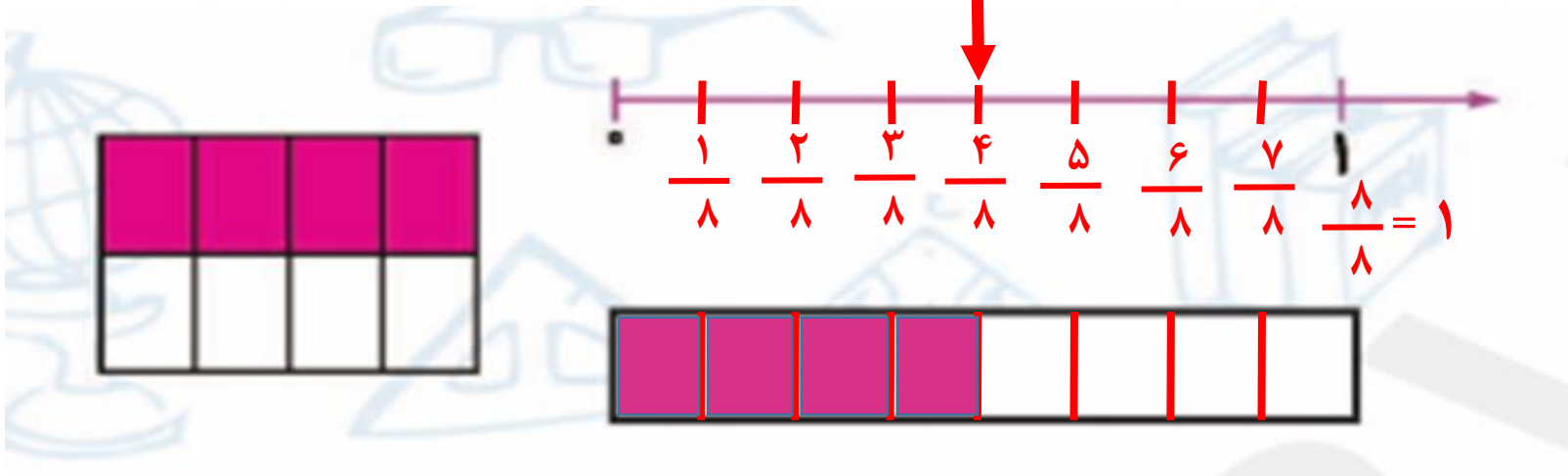


$$\frac{6}{8}$$



۷. مقدار رنگ شده‌ی هر شکل را روی محور نشان بده و به همان مقدار از مستطیل را رنگ کن.

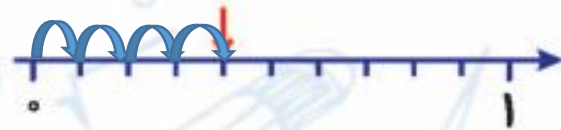




۸. بر روی هر محور، علامت چه کسری را نشان می‌دهد؟



$$\frac{6}{7}$$



$$\frac{4}{10}$$

۹. به طور تقریبی چه کسری از هر شکل رنگ شده است؟



$$\frac{1}{2}$$

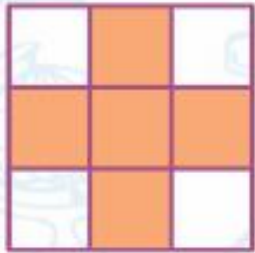


$$\frac{1}{2}$$





۲. چه کسری از این شکل رنگ شده است؟



$$\frac{4}{5} \quad (2)$$

$$\frac{5}{5} \quad (3)$$



$$\frac{5}{4} \quad (1)$$

$$\frac{6}{9} \quad (3)$$

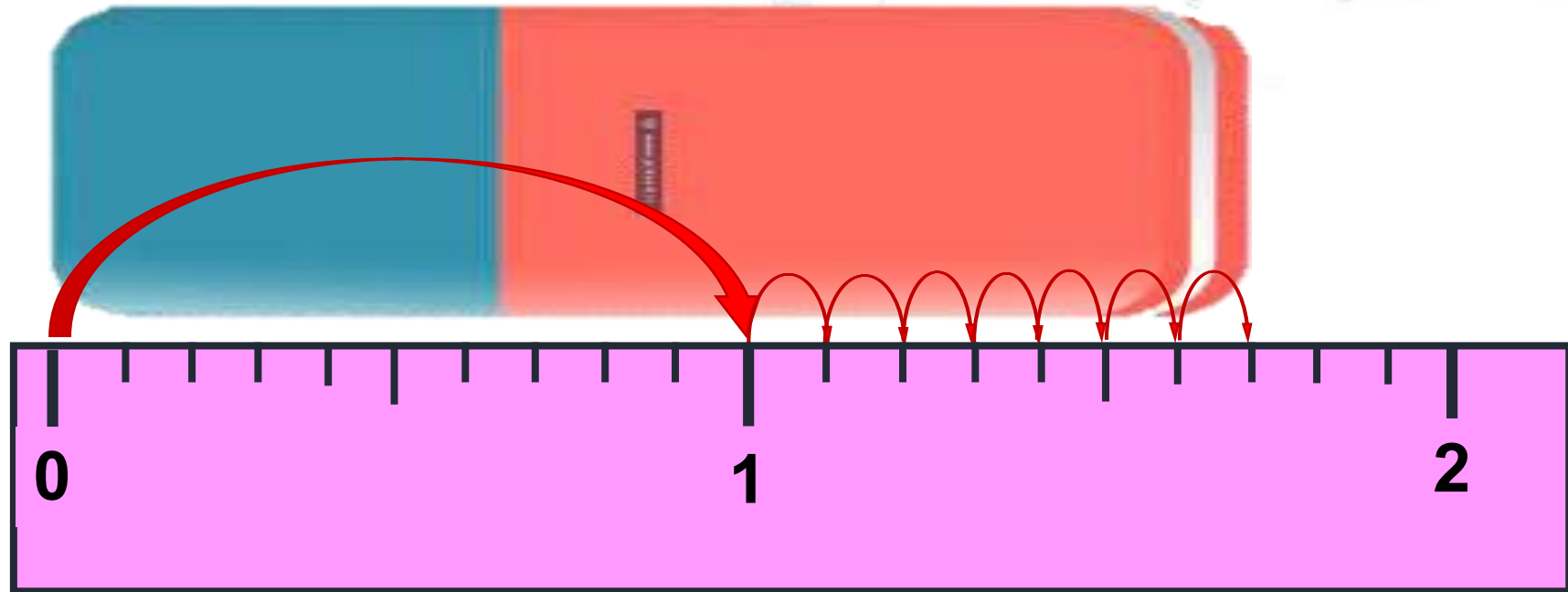




۱. جاهای خالی را پر کن.

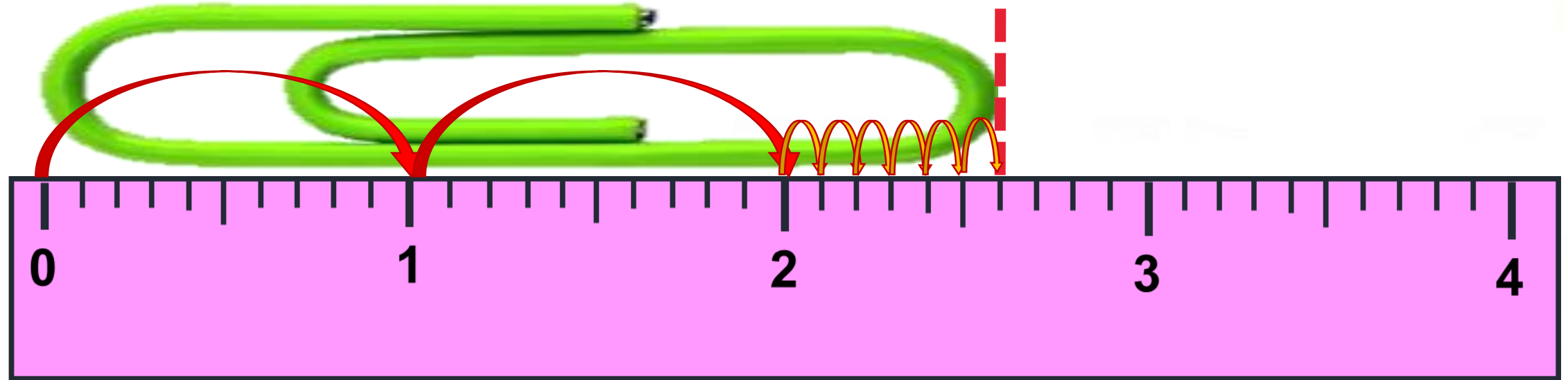
الف) طول پاک کن سانتی متر و ۷ میلی متر است.

ب) طول پاک کن سانتی متر و $\frac{7}{10}$ سانتی متر است.



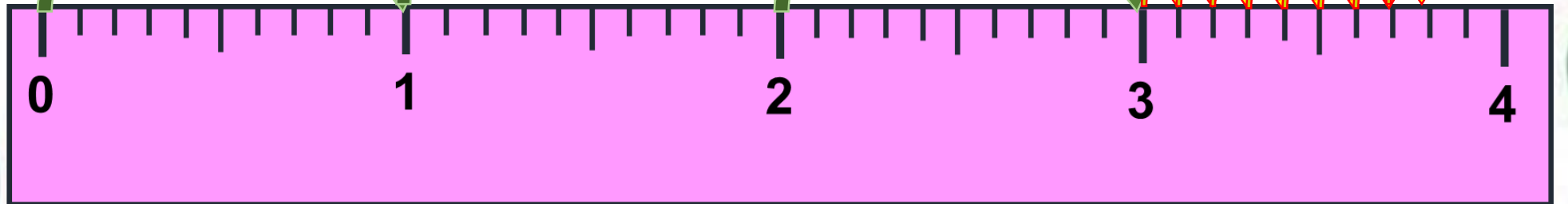


پ) طول گیره ۲ سانتی متر و $\frac{۶}{۱۰}$ سانتی متر است.





ت) طول آدامس ۳ سانتی متر و $\frac{۸}{۱۰}$ سانتی متر است.





۲. در جاهای خالی کسر مناسب بنویس.

الف) طول نگین انگشتری ۷ میلی‌متر است، یعنی $\frac{7}{10}$ یک سانتی‌متر

ب: طول مداد ۱ سانتی‌متر و ۴ میلی‌متر است، یعنی ۱ $\frac{4}{10}$ سانتی‌متر.



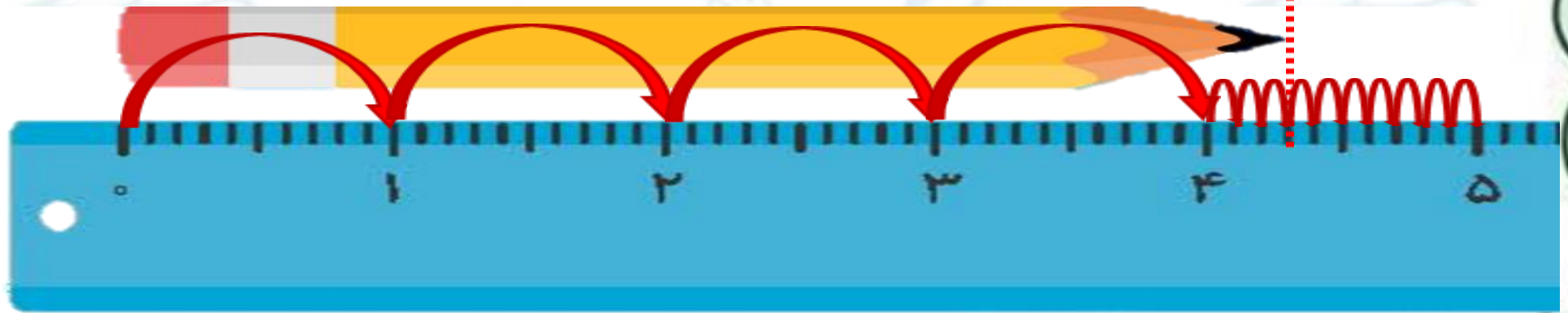
۳. طول مداد مونا ۴۳ میلی متر است.


به سوالات زیر پاسخ بده.

الف) ۴۳ میلی متر یعنی ۴ سانتی متر و ۳ قسمت از ۱۰ قسمت مساوی

ب) طول مداد ۳ میلی متر بیش تر از ۴ سانتی متر است.

پ) طول مداد $\frac{۷}{۱۰}$ سانتی متر مانده است تا به ۵ سانتی متر برسد.





۴. با توجه به ساعت مقابل به سؤالها جواب بده.

الف) ساعت مقابل چند دقیقه بعد از ساعت ۱۲ را نشان می‌دهد؟
یک ربع

ب) یعنی ۱۵ دقیقه بعد از ۱۲

پ) چه کسری از یک ساعت به ساعت ۱ مانده؟
 $\frac{۳}{۴}$ یا $\frac{۴۵}{۶۰}$



با آرزوی موفقیت برای شما عزیزان

پیشاپیش یلدای شما مبارک

