



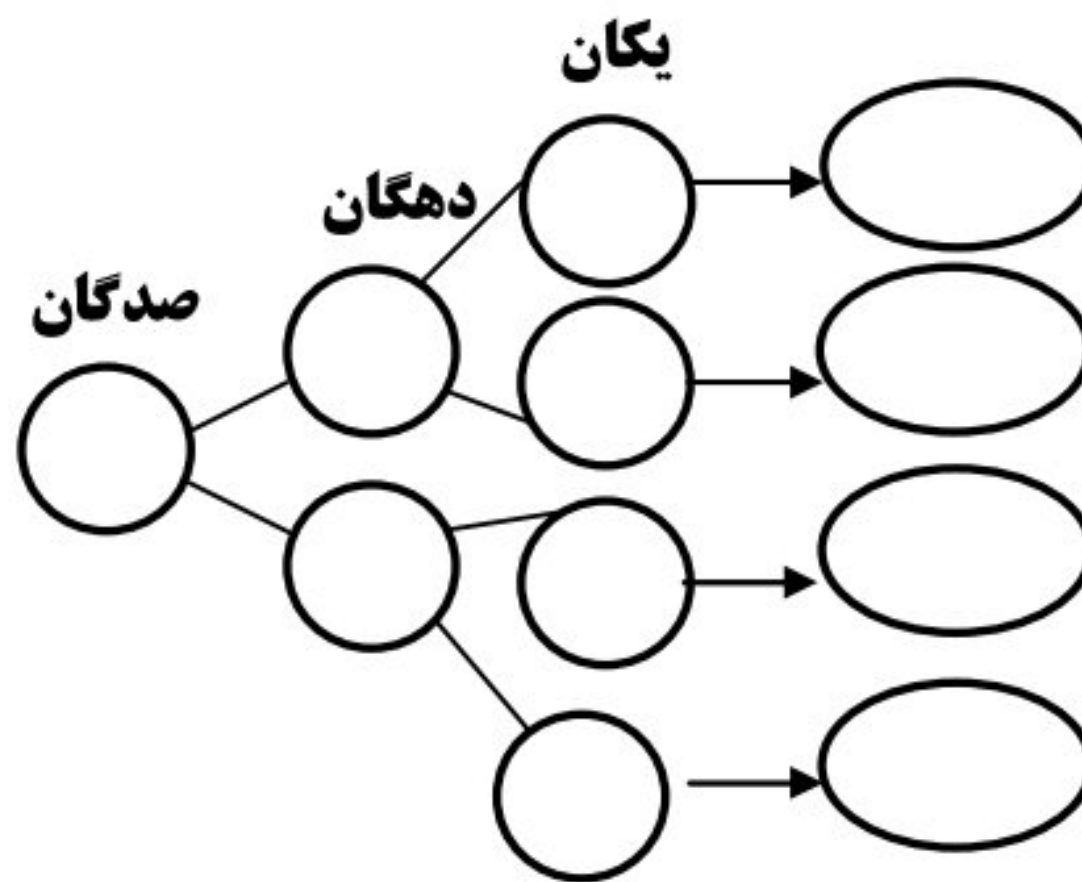
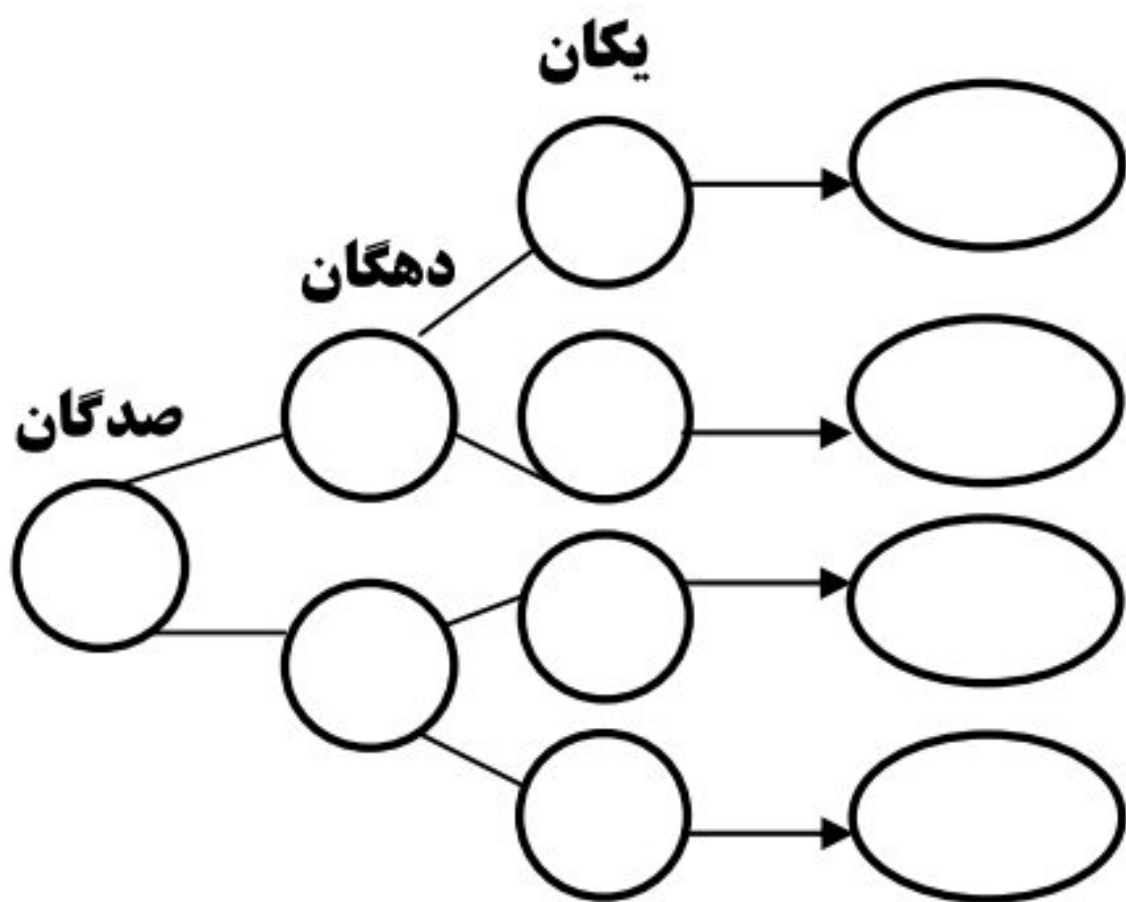
هدف:
عنوان / موضوع:

به نام خدا
پیش دبستان و دبستان پسرانه
(شعبه تهران شرق)

علوی
مدارس هزاره سوم
نام و نام خانوادگی:

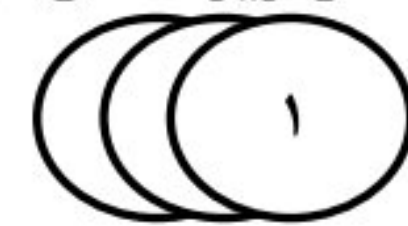
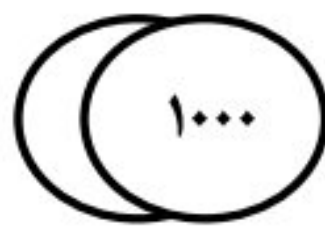


۱- همه ی عددهای سه رقمی را که رقم صدگان آن ها ۲ یا ۵ ، رقم دهگان آن ها ۱ یا ۶ و رقم یکان آن ها ۳ یا ۸ باشد ، بنویسید . جاهای خالی را پر کنید تا همه ی عددها به دست آیند.



۲- جدول های زیر را کامل کرده ، سپس آن را با عدد و حروف بنویسید .

هزارگان	صدگان	دهگان	یکان




به عدد :

به حروف :

هزارگان	صدگان	دهگان	یکان

به عدد :

به حروف :



۳- جاهای خالی را با دقت پر کن .

عدد ۵۳۲۱ یعنی یکی ، ده تایی ، صد تایی و هزار تایی

عدد یعنی ۵ یکی ، ۴ صد تایی و ۳ هزار تایی .

۳۲۵ سانتی متر متر و سانتی متر است .

۴۰۰۰ متر چند کیلومتر است ؟

