

تاریخ:

نام و نام خانوادگی:

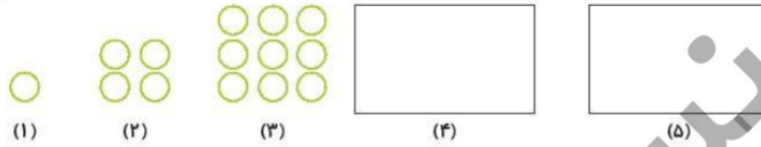


۱. ساختمانی ۴ طبقه، در هر طبقه ۲ واحد و در هر واحد ۳ اتاق دارد. این ساختمان چند اتاق دارد؟

.....
.....

۲. الگوهای زیر را ادامه بده.

(الف)



ب)، ۳، ۶، ۹

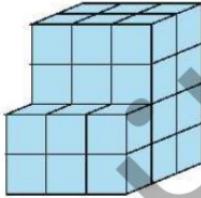
پ) ۲۵، ۳۰،، ۴۵، ۵۰

۳. ۴۳ تا ده‌تایی، ۲ هزارتایی، ۲۵ یکی و ۳ صدتایی برابر است با چه عددی است؟

۴. یک فروشنده نوعی دستکش را ۳۴۰ تومان می‌خرد و ۴۰۰ تومان می‌فروشد. اگر این فروشنده ۶ دستکش بفروشد، چقدر سود می‌کند؟

دستکش	۱	۲	۳	۴	۵	۶
سود						

۵. چند مکعب در شکل زیر لازم است تا شکل کامل شود؟



۶. با توجه به عدد هشتاد و نه هزار و سه به سوالات زیر پاسخ بده.

(الف) عدد را به رقم بنویس.

(ب) بزرگ‌ترین رقم در چه مرتبه‌ای قرار دارد؟

(پ) کدام رقم کم‌ترین ارزش مکانی را دارد؟



241/25

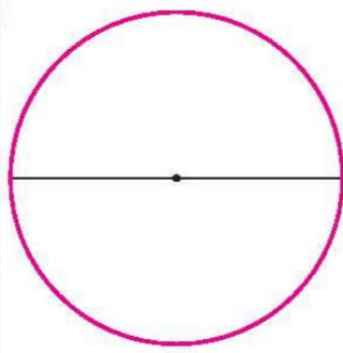


ارزشیابی نیمسال اول (۲)

تاریخ:

نام و نام خانوادگی:

۷. دایره‌ای رسم کن که شعاع آن ثلث قطر دایره‌ی (الف) باشد.



(الف)