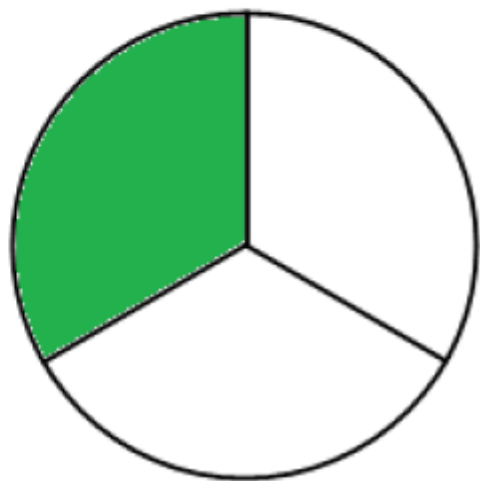


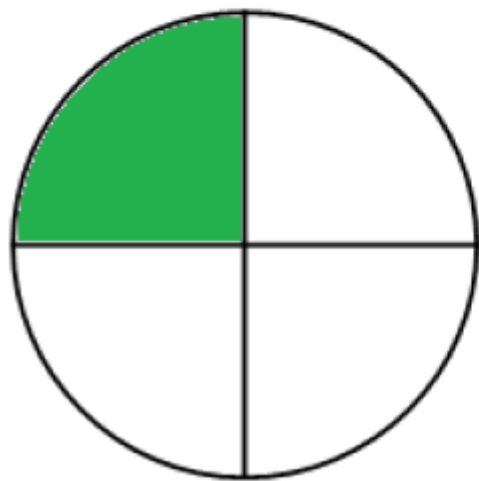
$$\frac{1}{2}$$

نیم



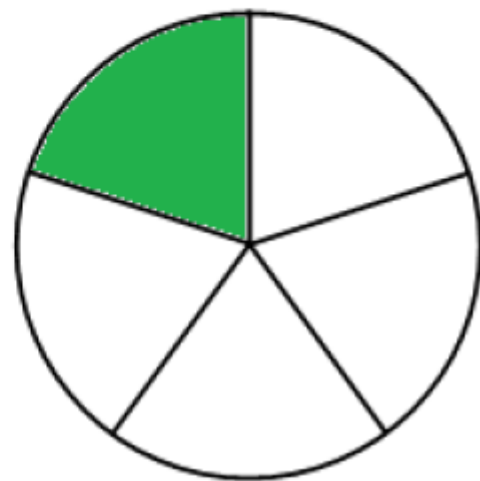
$$\frac{1}{3}$$

ثلث



$$\frac{1}{4}$$

ربع



$$\frac{1}{5}$$

خمس

۱- یک متر و ۲۵ سانتی متر برابر با ۱۲۵ سانتی متر است. توضیح دهید که عدد ۱۲۵ چگونه به دست می آید.

$$\begin{array}{l} \text{س } 125 = 100 + 25 \\ \quad \quad \quad \downarrow \\ \quad \quad \quad \text{متر } 1 \end{array}$$

$$\text{س } 100 = 1 \text{ متر}$$

۲- ۲۵۶۰ گرم یعنی ۲ کیلوگرم و ۵۶۰ گرم. توضیح دهید که این عددها چگونه به دست می آیند.

$$\begin{array}{l} \text{گرم } 2560 = 2000 + 560 \\ \quad \quad \quad \downarrow \\ \quad \quad \quad \text{کیلوگرم } 2 \end{array}$$

$$\text{گرم } 1000 = 1 \text{ کیلوگرم}$$

۱- کسرهای نوشته شده را روی هر ساعت نشان دهید. شکل های خود را با شکل های دوستانتان مقایسه کنید.



$\frac{1}{6}$



$\frac{1}{4}$ ربع



$\frac{1}{3}$ ثلث

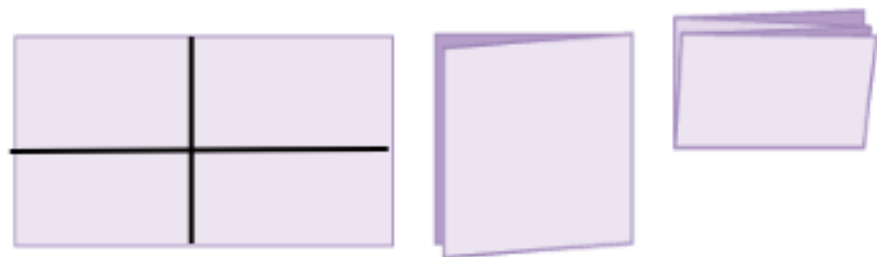


$\frac{1}{2}$ نیم

تمرین

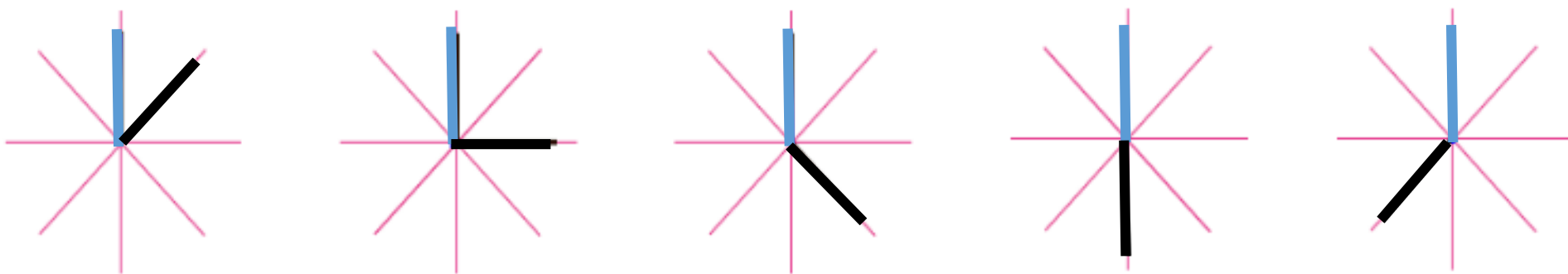


۲- یک تکه کاغذ را به صورت زیر دوبار تا کنید. سپس آن را باز کنید و با خط کش روی خط‌های تای کاغذ خط



بکشید. چند زاویه به وجود می‌آید؟ چه نوع زاویه‌ای؟
کاغذ به چند قسمت مساوی تقسیم شده است؟

۳- الگوی زاویه‌ها را ادامه دهید.



۴- از ۱۰۰۰ تا ۱۴۰۰ را ۵۰ تا ۵۰ بنویسید.

۱۰۰۰ - ۱۰۵۰ -

حلّ مسئله



۱- بعد از ۹۹۹ چه عددی است؟ **۱۰۰۰**

این مسئله را به صورت روبه‌رو می‌نویسیم:
پاسخ را حدس بزنید و در مربع بنویسید.

حالا برای مسئله‌های زیر یک تساوی بنویسید و به جای سؤال (خواسته‌ی مسئله) مربع بگذارید.
چه عددی اگر با ۹۹۹ جمع شود، حاصل ۱۰۰۰ می‌شود؟

$$\boxed{1} + 999 = 1000$$

از ۱۰۰۰ چند واحد برداریم تا ۹۹۰ به دست آید؟

$$1000 - \boxed{10} = 990$$

۲- عددی را با ۱۰۰۰ جمع کردیم؛ حاصل ۱۱۰۰ شد. این عدد را به دست آورید.

$$\boxed{100} + 1000 = 1100$$

$$999 + 1 = \boxed{1000}$$